


수학 영역(가형) 해설지

Epsilon



정답 및 해설

1) [정답] ④ (출제자 : 19 강중우)

[출제의도] 지수법칙을 이용하여 식의 값을 계산할 수 있는가?

[해설]

$$\sqrt[3]{3^6} = 3^2 = 9, \quad 2^{\frac{1}{2}} = \sqrt{2}$$

답은 $9\sqrt{2}$ 이다.

2) [정답] ③ (출제자 : 20 김태희)

[출제의도] 간단한 수열의 극한값을 구할 수 있는가?

[해설]

$$\begin{aligned} \lim_{n \rightarrow \infty} \frac{(\sqrt{4n^2 + 16n} - 2n)(\sqrt{4n^2 + 16n} + 2n)}{\sqrt{4n^2 + 16n} + 2n} \\ = \lim_{n \rightarrow \infty} \frac{(4n^2 + 16n) - 4n^2}{\sqrt{4n^2 + 16n} + 2n} &= \lim_{n \rightarrow \infty} \frac{16n}{\sqrt{4n^2 + 16n} + 2n} \\ = \lim_{n \rightarrow \infty} \frac{16}{\sqrt{4 + \frac{16}{n}} + 2} &= \frac{16}{2 + 2} = 4 \end{aligned}$$

3) [정답] ⑤ (출제자 : 19 백수정)

[출제의도] 간단한 삼각함수의 값을 계산할 수 있는가?

[해설]

$$|\sin \theta| = \frac{\sqrt{2}}{2} \text{ 이므로 } |\tan \theta| = 1 \text{ 이다.}$$

$$\pi < \theta < \frac{3}{2}\pi \text{ 일 때 } \tan \theta > 0 \text{ 이므로 } \tan \theta = 1 \text{ 이다.}$$

4) [정답] ④ (출제자 : 20 송문주)

[출제의도] 조건을 만족시키는 확률을 구할 수 있는가?

[해설]

$$P(A^c \cup B) = 1 - P(A \cap B^c) = \frac{2}{5} \text{ 이므로}$$

$$P(A \cap B^c) = \frac{3}{5} \text{ 이다.}$$

$$P(A) = P(A \cap B^c) + P(A \cap B) \text{ 이므로}$$

$$\text{구하고자 하는 확률은 } P(A) = \frac{3}{5} + \frac{1}{10} = \frac{7}{10} \text{ 이다.}$$

5) [정답] ① (출제자 : 19 정재훈)

[출제의도] 함수의 연속을 이용하여 주어진 미지수의 값을 구할 수 있는가?

[해설]

함수 $f(x)$ 가 $x=0$ 에서 연속이므로

$$\lim_{x \rightarrow 0^+} f(x) = \lim_{x \rightarrow 0^-} f(x) = f(0) \text{ 이어야 한다.}$$

$$\lim_{x \rightarrow 0^+} f(x) = k \ln 2 \text{ 이고 } \lim_{x \rightarrow 0^-} f(x) = f(0) = 4 \text{ 이므로 } k = \frac{4}{\ln 2} \text{ 이다.}$$

6) [정답] ④ (출제자 : 19 정지혁)

[출제의도] 이산확률변수의 표본평균의 평균을 알고 확률을 구할 수 있는가?

[해설]

크기가 2 인 표본의 표본평균 \bar{X} 에 대하여 $E(\bar{X}) = E(X)$ 이므로

$$E(X) = -\frac{1}{5} \text{ 이다.}$$

$$\text{따라서 } -a + b = -\frac{1}{5} \text{ 이다. } \dots \textcircled{1}$$

$$\text{한편, 확률의 총합은 1 이므로 } 2a + b = 1 \text{ 이다. } \dots \textcircled{2}$$

$$\text{두 식 } \textcircled{1}, \textcircled{2} \text{ 을 연립하면 } a = \frac{2}{5}, b = \frac{1}{5} \text{ 이다.}$$

$$\text{따라서, } P(X \geq 0) = P(X=0) + P(X=1) = a + b = \frac{3}{5} \text{ 이다.}$$

7) [정답] ③ (출제자 : 19 황주영)

[출제의도] 정적분과 급수의 관계를 파악하여 문제를 해결할 수 있는가?

[해설]

$$\lim_{n \rightarrow \infty} \sum_{k=n}^{2n} \frac{n+2k}{nk} = \lim_{n \rightarrow \infty} \sum_{k=n}^{2n} \frac{1}{n} \times \frac{1 + \frac{2k}{n}}{\frac{k}{n}} \text{ 에서}$$

$$\frac{k}{n} = x_k \text{ 라 하면 } \Delta x = \frac{1}{n} \text{ 이고 } x_n \rightarrow 1, x_{2n} \rightarrow 2 \text{ 이므로}$$

정적분과 급수의 관계에 의해

$$\begin{aligned} \lim_{n \rightarrow \infty} \sum_{k=n}^{2n} \frac{n+2k}{nk} &= \lim_{n \rightarrow \infty} \sum_{k=n}^{2n} \Delta x \times \frac{1+2x_k}{x_k} \\ &= \int_1^2 \frac{1+2x}{x} dx = [\ln x + 2x]_1^2 = 2 + \ln 2 \text{ 이다.} \end{aligned}$$

8) [정답] ② (출제자 : 20 이선우)

[출제의도] 지수함수와 로그함수의 대칭성을 이용하여 주어진 미지수의 값을 구할 수 있는가?

[해설]

삼각형 OCA 의 넓이가 삼각형 OCB 의 넓이의 3 배이고

수학 영역(가형)

밑변이 선분 OC로 공통이므로
두 삼각형의 넓이의 비는 두 점 A, B의 y좌표의 비와 같다.

두 점 A, B의 y좌표를 각각 $3k, k$ 라 하면
두 곡선 $y = a^x, y = \log_a x$ 는 $y = x$ 에 대하여 대칭이므로
점 A의 좌표는 $(k, 3k)$ 이다.

점 A의 좌표를 주어진 원의 방정식에 대입하면
 $k^2 + (3k)^2 = 10k^2 = 10, k = 1 (\because k > 0)$ 이므로
점 A의 좌표는 $A(1, 3)$ 이다.
따라서 점 A는 $y = a^x$ 위의 점이므로 $x = 1, y = 3$ 을 $y = a^x$ 에 대입하면
 $a = 3$ 이다.

9) [정답] ③ (출제자 : 20 정원철)
[출제의도] 원순열을 활용하여 경우의 수를 구할 수 있는가?

[해설]
먼저 5명의 학생이 원형으로 앉은 경우의 수는 $\frac{5!}{5} = 4! = 24$ 이다.
빈자리가 서로 이웃하지 않기 위해서는
학생과 학생 사이에 빈자리는 최대 1개여야 한다.

학생이 앉은 자리가 5개이므로
학생 사이에 빈자리를 배치하는 경우의 수는
 ${}_5C_2 = \frac{5 \times 4}{2} = 10$ 이다.

따라서 빈자리가 서로 이웃하지 않도록 5명의 학생이 원탁에 앉은 경우의
수는 $24 \times 10 = 240$ 이다.

10) [정답] ⑤ (출제자 : 19 정지혁)
[출제의도] 여러 가지 미분법을 활용하여 미분계수를 구할 수 있는가?

[해설]
곡선 $y = f(x)$ 위의 점 $(2, f(2))$ 에서의 접선의 방정식이
 $y = 2x - 5$ 이므로 $f'(2) = 2$ 이다.
또, 직선 $y = 2x - 5$ 는 점 $(2, -1)$ 을 지나므로 $f(2) = -1$ 이다.

$$g'(x) = \left(\frac{f(2x)}{x} \right)' = \frac{2xf'(2x) - f(2x)}{x^2} \text{ 이므로}$$

$$g'(1) = 2f'(2) - f(2) = 2 \times 2 - (-1) = 5 \text{ 이다.}$$

[별해]
몫의 미분법이 곱의 미분법을 통해 유도되므로
곱의 미분법을 이용해 $g'(1)$ 의 값을 구할 수 있다.

[해설]과 같은 방법으로 $f(2) = -1, f'(2) = 2$ 이다.
 $g(x) = \frac{f(2x)}{x}$ 이므로 모든 양의 실수 x 에 대하여
 $xg(x) = f(2x)$ 이다. 또, 이 식으로부터 $g(1) = f(2) = -1$ 이다.

위 식의 양변을 미분하면 $xg'(x) + g(x) = 2f'(2x)$ 이고,
이 식에 $x = 1$ 을 대입하면 $g'(1) + g(1) = 2f'(2)$ 이다.

그런데, $g(1) = f(2) = -1$ 이므로

$$g'(1) = 2f'(2) - g(1) = 2 \times 2 - (-1) = 5 \text{ 이다.}$$

11) [정답] ⑤ (출제자 : 20 송문주)
[출제의도] 사인법칙과 코사인법칙을 이용하여 선분의 길이를 구할 수 있는가?

[해설]
 $\angle CAB = \theta$ 라 하자.
주어진 원의 넓이가 10π 이므로 원의 반지름의 길이는 $\sqrt{10}$ 이다.
사인법칙에 의해 $\frac{2\sqrt{2}}{\sin\theta} = 2\sqrt{10}$ 이므로 $\sin\theta = \frac{1}{\sqrt{5}}$ 이다.
 $\cos\theta = \sqrt{1 - \sin^2\theta}$ 이므로 $\cos\theta = \sqrt{1 - \frac{1}{5}} = \frac{2}{\sqrt{5}}$ 이다.
선분 AC의 길이를 구하기 위해서 코사인법칙을 사용하면
 $(2\sqrt{5})^2 + \overline{AC}^2 - 2 \times 2\sqrt{5} \times \overline{AC} \times \frac{2}{\sqrt{5}} = (2\sqrt{2})^2$ 이 된다.
 $\overline{AC}^2 - 8\overline{AC} + 12 = 0$ 이므로 $\overline{AC} = 2$ 또는 $\overline{AC} = 6$ 이다.

i) $\overline{AC} = 2$ 일 경우
 $\overline{AB}^2 + \overline{BC}^2 = 28 > 4 = \overline{AC}^2$ 이므로 $\angle ABC < \frac{\pi}{2}$ 가 되어 조건을
만족시키지 않는다.

ii) $\overline{AC} = 6$ 일 경우
 $\overline{AB}^2 + \overline{BC}^2 = 28 < 36 = \overline{AC}^2$ 이므로 $\angle ABC > \frac{\pi}{2}$ 가 되어 조건을
만족시킨다.

따라서 선분 AC의 길이는 6이다.

12) [정답] ② (출제자 : 20 김동해)
[출제의도] 정적분을 활용하여 입체도형의 부피를 구할 수 있는가?

[해설]
정삼각형의 넓이를 $S(t)$ 라 하면 $S(t) = \frac{\sqrt{3}}{4}(\sec t)^2$ 이다.
따라서 구하는 입체도형의 부피는
$$\frac{\sqrt{3}}{4} \int_{\frac{\pi}{6}}^{\frac{\pi}{3}} (\sec t)^2 dt = \frac{\sqrt{3}}{4} [\tan t]_{\frac{\pi}{6}}^{\frac{\pi}{3}} = \frac{\sqrt{3}}{4} \left(\sqrt{3} - \frac{\sqrt{3}}{3} \right)$$

$$= \frac{\sqrt{3}}{4} \times \frac{2}{3} \sqrt{3} = \frac{1}{2}$$

13) [정답] ① (출제자 : 19 박석준)
[출제의도] 삼각함수의 그래프를 이용하여 함수식을 구할 수 있는가?

[해설]
두 함수 $f(x), g(x)$ 에 대하여
 $f(x) = \cos(ax - b) + c, g(x) = \cos x + c$ 라 하자.

함수 $f(x)$ 의 최댓값은 $c + 1$ 이고,
주어진 그림에서 그 값은 $\frac{3}{2}$ 이므로 $c = \frac{1}{2}$ 이다.

주어진 그림의 $0 \leq x \leq 3\pi$ 에서

수학 영역(가형)

곡선 $y=f(x)$ 와 x 축이 만나는 두 점 사이의 거리는 $\frac{4}{3}\pi$ 이다.

$0 \leq x \leq 2\pi$ 에서 방정식 $g(x)=0$ 의 두 실근은 각각 $\frac{2}{3}\pi, \frac{4}{3}\pi$ 이므로

곡선 $y=g(x)$ 와 x 축이 만나는 두 점 사이의 거리는 $\frac{2}{3}\pi$ 이다.

이때 두 곡선 $y=f(x), y=g(x)$ 와 x 축이 만나는 두 점 사이의 거리는

두 함수 $f(x), g(x)$ 의 주기에 비례하고 그 값은 각각 $\frac{2}{a}\pi, 2\pi$ 이므로

$\frac{4}{3}\pi : \frac{2}{3}\pi = \frac{2}{a}\pi : 2\pi$ 이다. 따라서 $a = \frac{1}{2}$ 이다.

$f(x) = \cos\left(\frac{1}{2}x - b\right) + \frac{1}{2}$ 에서 $f(3\pi) = 0$ 이다.

$\cos\left(\frac{3}{2}\pi - b\right) + \frac{1}{2} = 0$ 와 $0 < b < \frac{\pi}{2}$ 를 만족시키는

b 의 값은 $\frac{\pi}{6}$ 뿐이므로 $b = \frac{\pi}{6}$ 이다.

따라서 $abc = \frac{1}{2} \times \frac{\pi}{6} \times \frac{1}{2} = \frac{\pi}{24}$ 이다.

[별해]

c 를 유추한 후에 주어진 함수의 x 절편 값을 대입하여 미지수를 찾을 수 있다. 이에 대한 식을 세워보면,

$$0 = \cos\left(\frac{5}{3}a\pi - b\right) + \frac{1}{2}$$

$$0 = \cos(3a\pi - b) + \frac{1}{2}$$

$a > 0, 0 < b < \frac{\pi}{2}$ 의 범위에서 주어진 두 식을 만족하는 a, b 의 값은

각각 $\frac{1}{2}, \frac{1}{6}\pi$ 이다. 따라서 $abc = \frac{1}{2} \times \frac{1}{6}\pi \times \frac{1}{2} = \frac{\pi}{24}$ 이다.

14) [정답] ⑤ (출제자 : 20 이도윤)

[출제의도] 중복조합을 이용해 주어진 조건에 대한 수학적 확률을 구할 수 있는가?

[해설]

$a+b+c+3d=16$ 을 만족시키는 순서쌍 (a, b, c, d) 의 개수는 $d=1, 2, 3, 4$ 일 때 각각의 순서쌍 (a, b, c) 의 개수의 합과 같다.

$d=1$ 일 때, $a+b+c=13$ 이고

$a=A+1, b=B+1, c=C+1$ (단, A, B, C 는 정수이고 $A \geq 0, B \geq 0, C \geq 0$ 이다.)로 치환하여

식에 대입하면

$$(A+1) + (B+1) + (C+1) = 13, A+B+C=10$$

즉 순서쌍 (a, b, c) 의 개수는 ${}_3H_{10}$ 이다.

위와 같은 방법으로 $d=2, 3, 4$ 일 때 순서쌍 (a, b, c) 의 개수는 각각 ${}_3H_7, {}_3H_4, {}_3H_1$ 이다.

따라서 전체 경우의 수는 ${}_3H_{10} + {}_3H_7 + {}_3H_4 + {}_3H_1 = 120$

한편 $a+b+c=16-3d$ 임을 이용하여 주어진 조건의 식을 변형시키면 $\frac{a+b+c}{d} = \frac{16-3d}{d} = \frac{16}{d} - 3$ 이다.

$\frac{16}{d} - 3$ 의 값이 자연수여야 하므로 $\frac{16}{d}$ 의 값은 4 이상의 자연수여야 한다.

즉 $d=1, 2, 4$ 일 때 $\frac{16}{d}$ 의 값이 각각 16, 8, 4로 조건을 만족시킨다.

주어진 조건을 만족시키는 순서쌍 (a, b, c, d) 의 개수는

$d=1, 2, 4$ 일 때 각각의 순서쌍 (a, b, c) 의 개수의 합과 같으므로 ${}_3H_{10} + {}_3H_7 + {}_3H_1 = 105$

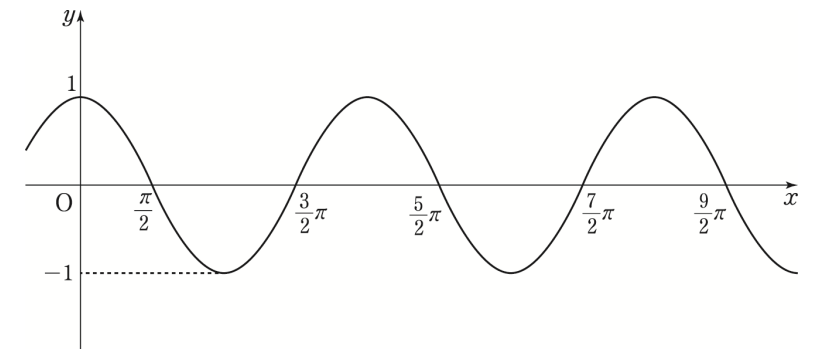
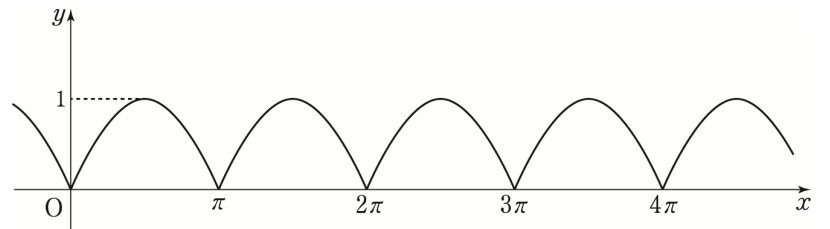
따라서 구하는 확률은 $\frac{105}{120} = \frac{7}{8}$

15) [정답] ③ (출제자 : 20 송문주)

[출제의도] 삼각함수의 주기와 정적분의 값의 관계를 이용하여 구하고자 하는 값을 구할 수 있는가?

[해설]

구간 $x \geq 0$ 에서 $y = |\sin x|$ 와 $y = \cos x$ 그래프는 다음과 같다.



$$\int_0^{\frac{\pi}{2}} |\sin x| dx = \int_0^{\frac{\pi}{2}} \cos x dx = 1 \text{ 이므로 } \int_0^{\frac{\pi}{2}} f(x) dx = 2 \text{ 이고}$$

$$\int_{\frac{\pi}{2}}^{\pi} |\sin x| dx = 1, \int_{\frac{\pi}{2}}^{\pi} \cos x dx = -1 \text{ 이므로}$$

$$\int_{\frac{\pi}{2}}^{\pi} f(x) dx = 0 \text{ 이다.}$$

함수 $f(x)$ 는 주기함수이므로 $\int_0^t f(x) dx = 6 = 2 + 2 + 2$ 를

만족시키는 t 의 값은 $\frac{5}{2}\pi, 3\pi, \frac{7}{2}\pi$ 이다. 하지만, 구간

$(0 \leq x < a)$ 에서 조건을 만족시키는 모든 t 의 값의 합이

$$\frac{11}{2}\pi = \frac{5}{2}\pi + 3\pi \text{ 라고 했으므로 } \frac{7}{2}\pi \text{ 가 들어갈 수 없다.}$$

따라서 $3\pi < a \leq \frac{7}{2}\pi$ 가 되어야 하므로 a 의 최댓값은 $\frac{7}{2}\pi$ 이다.

16) [정답] ① (출제자 : 20 이도윤)

[출제의도] 확률밀도함수의 특징을 이용하여 주어진 값을 구할 수 있는가?

[해설]

함수 $g(x)$ 의 그래프가 직선 $x=3$ 에 대하여 대칭이므로

$$g(3-x) = g(3+x) \quad (0 \leq x \leq 3)$$

이 식에 $x=1, 2, 3$ 을 각각 대입하면

$$g(2) = g(4), g(1) = g(5), g(0) = g(6) \text{ 이다.}$$

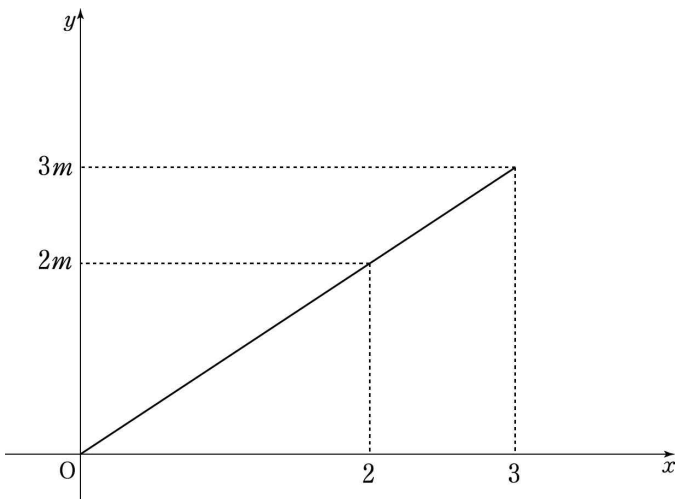
따라서 $g(0) + g(1) + g(2) = g(4) + g(5) + g(6)$ 이고,

수학 영역(가형)

$P(0 \leq X \leq 3) = P(4 \leq X \leq 7)$ 이다.

그런데 $g(3) = P(3 \leq X \leq 4) = \frac{1}{7}$ 이고, $P(0 \leq X \leq 7) = 1$ 이므로

$P(0 \leq X \leq 3) = P(4 \leq X \leq 7) = \frac{3}{7}$ 이다.



$P(0 \leq X \leq 3) = \frac{3}{7}$ 이므로 $\frac{1}{2} \times 3 \times 3m = \frac{3}{7}$,

$m = \frac{2}{21}$ 이다.

$f(2) = 2m$, $g(4) = g(2) = P(2 \leq X \leq 3)$ 이고,

$P(2 \leq X \leq 3) = \frac{1}{2} \times 1 \times (2m + 3m) = \frac{5}{2}m$

따라서 $f(2) + g(4) = \frac{9}{2}m$ 이고, $m = \frac{2}{21}$ 이므로

$\frac{9}{2} \times \frac{2}{21} = \frac{3}{7}$

17) [정답] ② (출제자 : 19 정지혁)

[출제의도] 수학적 귀납법을 사용하여 주어진 식이 성립함을 보일 수 있는가?

[해설]

(가) : $\frac{2}{(m+2)(m+3)}$ / (나) : $m+1$ / (다) : $\frac{1}{m+3}$

(가)

주어진 식은 공통인 식 $\frac{1}{m+1}$ 로 묶어 정리하는 과정이다.

$a_{m+1} = \frac{2}{(m+1)(m+2)(m+3)}$ 이므로

$1 - \frac{1}{m+1} + \sum_{k=1}^m \frac{1}{k+2} + a_{m+1} + \frac{1}{m+2}$

$= 1 - \frac{1}{m+1} \times \left(1 - \frac{2}{(m+2)(m+3)}\right) + \sum_{k=1}^m \frac{1}{k+2} + \frac{1}{m+2}$

이다. 따라서 (가)에 알맞은 식은 $\frac{2}{(m+2)(m+3)}$ 이다.

(나), (다)

(가)에서 $\frac{2}{(m+2)(m+3)} = \frac{2}{m+2} - \frac{2}{m+3}$ 이므로

이를 다시 정리하면

$1 - \frac{1}{m+1} \times \left(1 - \frac{2}{m+2} + \frac{2}{m+3}\right) + \sum_{k=1}^m \frac{1}{k+2} + \frac{1}{m+2}$

$= 1 - \frac{1}{m+1} + \frac{2}{(m+1)(m+2)} - \frac{2}{(m+1)(m+3)}$

$+ \sum_{k=1}^m \frac{1}{k+2} + \frac{1}{m+2}$

$= 1 - \frac{1}{m+1} + \frac{2}{m+1} - \frac{2}{m+2} - \frac{1}{m+1} + \frac{1}{m+3}$

$+ \sum_{k=1}^m \frac{1}{k+2} + \frac{1}{m+2}$

$= 1 - \frac{1}{m+2} + \frac{1}{m+3} + \sum_{k=1}^m \frac{1}{k+2}$

이다. 따라서 (나), (다)에 들어갈 알맞은 식은 각각 $m+1$, $\frac{1}{m+3}$ 이다.

$f(m) = \frac{2}{(m+2)(m+3)}$, $g(m) = m+1$, $h(m) = \frac{1}{m+3}$ 이므로

$f(6) = \frac{2}{8 \times 9} = \frac{1}{36}$, $g(8) = 8+1 = 9$, $h(3) = \frac{1}{3+3} = \frac{1}{6}$ 이다.

따라서, $f(6) \times g(8) \times h(3) = \frac{1}{36} \times 9 \times \frac{1}{6} = \frac{1}{24}$ 이다.

18) [정답] ③ (출제자 : 19 윤항규)

[출제의도] 조건부 확률을 계산할 수 있는가?

[해설]

주머니에서 임의로 1 개의 공을 꺼내어 공에 적혀 있는 숫자를 확인한 후 다시 넣지 않는 시행을 4 번 반복하는 것은 처음부터 주머니에서 4 개의 공을 꺼낸 후 꺼낸 4 개의 공을 임의로 배열하는 것과 같다.

4 개의 공을 배열할 때 첫 번째 적힌 공부터 순서대로 a, b, c, d 라 하면 이때 가능한 경우들은 $|a-b| < |c-d|$, $|a-b| > |c-d|$,

$|a-b| = |c-d|$ 이다.

꺼낸 4 개의 공을 임의로 배열하였으므로

$|a-b| < |c-d|$ 일 확률과 $|a-b| > |c-d|$ 일 확률은 같다.

즉, $|a-b| = |c-d|$ 일 확률을 p_1 ,

$|a-b| < |c-d|$ 일 확률을 p_2 라 할 때,

$p_1 + 2p_2 = 1$, $p_2 = \frac{1-p_1}{2}$ 이다.

따라서 $|a-b| \leq |c-d|$ 일 확률은 $p_1 + \frac{1-p_1}{2} = \frac{1+p_1}{2}$ 이다.

순서쌍 (a, b, c, d) 에 대하여

i) $|a-b| = |c-d| = 1$

순서쌍 (a, b, c, d) 가

$(2, 1, 3, 4)$, $(2, 1, 3, 2)$ 이면 된다.

이때 $(2, 1, 3, 4)$ 의 경우 $(3, 4, 1, 2)$ 와 같이 바뀌는 경우 2 가지

$(1, 2, 3, 4)$ 과 같이 1 과 2 의 위치만 바뀌는 경우 2 가지

$(2, 1, 4, 3)$ 과 같이 3 과 4 의 위치만 바뀌는 경우 2 가지

주머니에 있는 숫자 2 를 각각 구분하는 경우가 2 가지이므로

구하는 경우의 수는 $2 \times 2 \times 2 \times 2 = 16$ 이다.

$(2, 1, 3, 2)$ 의 경우의 수도 위와 마찬가지로 구하면 16 이다.

ii) $|a-b| = |c-d| = 2$

순서쌍 (a, b, c, d) 가

$(3, 1, 4, 2)$ 이면 된다.

이 경우도 위와 마찬가지로 경우의 수를 구하면 16 이다.

i), ii)에 의해 $|a-b| = |c-d|$ 일 확률은 $\frac{16 \times 3}{5P_4} = \frac{2}{5}$ 이므로

$|a-b| \leq |c-d|$ 일 확률은 $\frac{1 + \frac{2}{5}}{2} = \frac{7}{10}$ 이다.

$|a-c| = 3$ 이려면 $a = 4, c = 1$ 또는 $a = 1, c = 4$ 이다.

$a = 4, c = 1$ 일 때 $|a-b| \leq |c-d|$ 를 만족시키기 위해서

수학 영역(가형)

순서쌍 (a, b, c, d) 로 가능한 것은 $(4, 3, 1, 2)$ 또는 $(4, 2, 1, 3)$ 이고 각각 가능한 경우의 수는 2가지이므로 총 4가지이다.

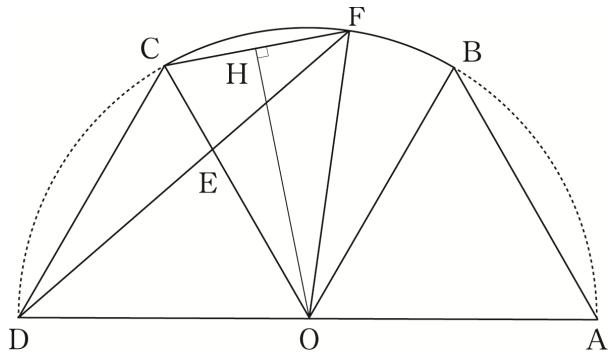
$a=1, c=4$ 일 때 $|a-b| \leq |c-d|$ 를 만족시키기 위해서 순서쌍 (a, b, c, d) 로 가능한 것은 $(1, 2, 4, 2), (1, 2, 4, 3), (1, 3, 4, 2)$ 이고, 각각 가능한 경우의 수는 2가지이므로 총 6가지이다. $|a-b| \leq |c-d|$ 이고 $|a-c|=3$ 일 확률은 $\frac{4+6}{5P_4} = \frac{1}{12}$ 이다.

구하는 확률은 $\frac{\frac{1}{12}}{\frac{1}{10}} = \frac{5}{12}$ 이다.

19) ③ (출제자 : 19 정지혁)

[출제의도] 사인법칙과 코사인법칙을 이용하여 도형에서의 등비급수를 구할 수 있는가?

[해설]



두 삼각형 OAB, OCD 는 정삼각형이므로 네 선분 OA, OB, OC, OD 의 길이는 모두 같고, 점 F 는 호 BC 위의 점이므로 점 A, B, C, D, F 는 점 O 를 중심으로 하고 반지름의 길이가 3인 원 위의 점이다.

삼각형 CDE 에서 코사인법칙에 의해 $\overline{DE}^2 = 3^2 + 1^2 - 2 \times 3 \times 1 \times \cos \frac{\pi}{3} = 7$ 이다. 따라서 $\overline{DE} = \sqrt{7}$ 이다.

또, 사인법칙에 의해 $\frac{\overline{DE}}{\sin(\angle DCE)} = \frac{\overline{CE}}{\sin(\angle CDE)}$ 이므로 $\sin(\angle CDE) = \frac{\sqrt{21}}{14}$ 이다.

삼각형 CDF 에서 지름에 대한 사인법칙을 이용하면 $6 = \frac{\overline{CF}}{\sin(\angle CDE)}$ 이므로 $\overline{CF} = 6 \times \frac{\sqrt{21}}{14} = \frac{3\sqrt{21}}{7}$ 이다.

점 O 에서 선분 CF 에 내린 수선의 발을 H 라 하자. 삼각형 OCF 는 이등변삼각형이므로 점 H 는 선분 CF 의 중점이다. 따라서 $\overline{HF} = \frac{3\sqrt{21}}{14}$ 이다.

피타고라스 정리에 의해 $\overline{OH}^2 = \overline{OF}^2 - \overline{HF}^2 = 9 - \frac{27}{28} = \frac{9 \times 25}{28}$ 이다. 따라서 $\overline{OH} = \frac{15\sqrt{7}}{14}$ 이고,

삼각형 OCF 의 넓이는 $\frac{1}{2} \times \frac{3\sqrt{21}}{7} \times \frac{15\sqrt{7}}{14} = \frac{45\sqrt{3}}{28}$ 이다.

그런데, 삼각형 OEF 의 넓이는 삼각형 OCF 의 넓이의 $\frac{2}{3}$ 배이므로

$$S_1 = \frac{2}{3} \times \frac{45\sqrt{3}}{28} = \frac{15\sqrt{3}}{14}$$
 이다.

한편, 그림 R_2 에서 그려지는 두 삼각형 MAP, MQO 은 정삼각형이고 부채꼴의 중심각은 $\frac{\pi}{3}$ 이다. 따라서 R_2 에서 그려지는 도형은 R_1 에서의 도형과 닮음이다.

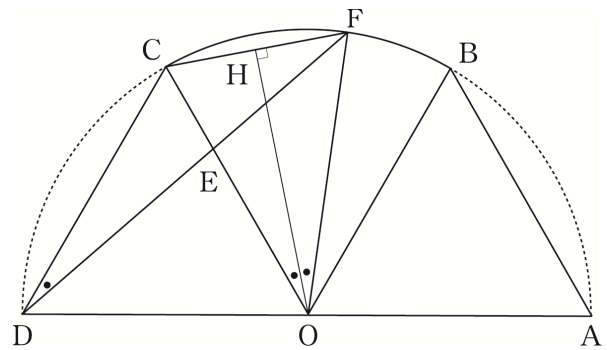
그림 R_1 에서 정삼각형의 한 변의 길이와 그림 R_2 에서 그린 정삼각형 한 변의 길이의 비가 $3 : \frac{3}{2}$ 이므로 길이의 비는 $2 : 1$ 이다.

따라서 그림 R_2 에서 색칠되는 부분의 넓이는 그림 R_1 에서 색칠되는 넓이의 $\frac{1}{4}$ 이므로, S_n 은 공비가 $\frac{1}{4}$ 인 등비수열의 합이다.

구하고자 하는 값은 $\lim_{n \rightarrow \infty} S_n = \frac{\frac{15\sqrt{3}}{14}}{1 - \frac{1}{4}} = \frac{10\sqrt{3}}{7}$ 이다.

[별해 1]

- 선분 CF 의 길이를 구하는 과정에서



원주각의 성질을 이용하면, $2\angle CDF = \angle COF$ 이다. 이때, 두 삼각형 OHF, OHC 는 서로 합동이므로 $\angle HOF = \frac{1}{2} \angle COF = \angle CDF$ 이다.

따라서 $\overline{HF} = \overline{OF} \sin(\angle HOF) = 3 \times \frac{\sqrt{21}}{14} = \frac{3\sqrt{21}}{14}$ 이다.

같은 방법으로, $\overline{CH} = \frac{3\sqrt{21}}{14}$ 이다.

따라서 $\overline{CF} = \frac{3\sqrt{21}}{7}$ 이다.

[별해 2]

- 삼각형 OFC 의 넓이를 구하는 과정에서

※ 삼각함수의 덧셈정리를 이용하면,

$$\sin 2\theta = \sin(\theta + \theta) = \sin \theta \cos \theta + \cos \theta \sin \theta = 2\sin \theta \cos \theta$$
 이다.

따라서 $\sin 2\theta = 2\sin \theta \cos \theta$ 인데, 이를 '배각공식'이라 한다.

[별해 1]에서 $\frac{1}{2} \angle COF = \angle CDF$ 이므로 배각 공식을 사용하면

$$\begin{aligned} \sin(\angle COF) &= 2 \times \sin(\angle CDF) \times \cos(\angle CDF) \\ &= 2 \times \frac{\sqrt{21}}{14} \times \frac{5\sqrt{7}}{14} = \frac{5\sqrt{3}}{14} \end{aligned}$$
 이다.

따라서 삼각형 OFC 의 넓이는

$$\frac{1}{2} \sin(\angle COF) \times 3 \times 3 = \frac{45\sqrt{3}}{28}$$
 이다.

수학 영역(가형)

20) [정답] ③ (출제자 : 19 황주영)

[출제의도] 정적분으로 정의된 함수에 사이값 정리와 롤의 정리를 적용하여 주어진 명제의 참 거짓을 판단할 수 있는가?

[해설]

함수 $f(x)$ 는 직선 $x = \pi$ 에 대하여 대칭이므로 모든 실수 x 에 대하여 $f(x) = f(2\pi - x)$ 를 만족시킨다.

$g(x) = \int_0^x \sin(x-t)f(t)dt$ 에서 삼각함수의 덧셈정리를 적용하여

변수를 분리시켜 보자. 즉,

$$\begin{aligned} g(x) &= \int_0^x \sin(x-t)f(t)dt \\ &= \int_0^x \sin x \cos tf(t)dt - \int_0^x \cos x \sin tf(t)dt \\ &= \sin x \int_0^x \cos tf(t)dt - \cos x \int_0^x \sin tf(t)dt \cdots \textcircled{1} \text{이다.} \end{aligned}$$

ㄱ.

$$\begin{aligned} g(2\pi) &= - \int_0^{2\pi} \sin tf(t)dt \text{에서 } t = 2\pi - a \text{로 치환하면} \\ f(x) &= f(2\pi - x) \text{이고, } \frac{dt}{da} = -1 \text{이므로} \\ g(2\pi) &= - \int_{2\pi}^0 - \sin af(a)(-da) = \int_0^{2\pi} \sin tf(t)dt \text{이다. 즉,} \\ - \int_0^{2\pi} \sin tf(t)dt &= \int_0^{2\pi} \sin tf(t)dt \text{이므로} \\ - \int_0^{2\pi} \sin tf(t)dt &= g(2\pi) = 0 \text{이다. (참)} \end{aligned}$$

ㄴ.

$$\begin{aligned} \textcircled{1} \text{의 양변을 } x \text{에 대하여 미분하면} \\ g'(x) &= \cos x \int_0^x \cos tf(t)dt + \sin x \int_0^x \sin tf(t)dt \text{이므로} \\ g'\left(\frac{\pi}{2}\right) &= \int_0^{\frac{\pi}{2}} \sin tf(t)dt, g'\left(\frac{3\pi}{2}\right) = - \int_0^{\frac{3\pi}{2}} \sin tf(t)dt \text{이다.} \end{aligned}$$

ㄱ에서와 같은 방법으로 $\int_{\frac{\pi}{2}}^{\frac{3\pi}{2}} \sin tf(t)dt = 0$ 이므로,

$$g'\left(\frac{\pi}{2}\right) = -g'\left(\frac{3\pi}{2}\right) \text{이다.}$$

$$\text{즉, } g'\left(\frac{\pi}{2}\right)g'\left(\frac{3\pi}{2}\right) = -\left(g'\left(\frac{\pi}{2}\right)\right)^2 \leq 0 \text{이다. (거짓)}$$

ㄷ.

ㄴ에서 $g'\left(\frac{\pi}{2}\right)g'\left(\frac{3\pi}{2}\right) \leq 0$ 이므로 사이값 정리에 의해 방정식 $g'(x) = 0$ 은 구간 $\left[\frac{\pi}{2}, \frac{3\pi}{2}\right]$ 에서 적어도 한 개의 실근 c_1 을 가진다. 또한, $g'(0) = 0$ 이므로 롤의 정리에 의해 $g''(c_2) = 0$ 를 만족시키는 c_2 가 구간 $(0, c_1)$ 에 적어도 하나 존재한다.

$\frac{\pi}{2} \leq c_1 \leq \frac{3\pi}{2}$ 이므로 방정식 $g''(x) = 0$ 은 구간 $\left(0, \frac{3\pi}{2}\right)$ 에서 실근을 갖는다. (참)

따라서 옳은 것은 ㄱ, ㄷ이다.

21) [정답] ② (출제자 : 20 김동해)

[출제의도] 귀납적으로 정의된 수열의 항들을 구할 수 있는가?

[해설]

조건에서 주어진 a_3 의 값을 기준으로 수열 $\{a_n\}$ 의 항을 추론하자.

$a_3 = a_2 + a_4$ (즉 $a_2 \leq a_4$)인 경우를 먼저 살펴보자.

$a_2 + a_4 = -1$ 이 되도록 음이 아닌 상수 α 에 대하여

$$a_2 = -\alpha - \frac{1}{2}, a_4 = \alpha - \frac{1}{2} \text{라 하자.}$$

n	1	2	3	4	5
a_n		$-\alpha - \frac{1}{2}$	-1	$\alpha - \frac{1}{2}$	
α	$\alpha \geq 0$				

$a_2 = a_1 + a_3$ (즉 $a_1 \leq a_3$)이 되도록 하는 a_1 의 값은 $\alpha + \frac{1}{2}$ 인데 이는 위의 부등식 $a_1 \leq a_3$ 을 만족시키지 않으므로 제외한다.

$a_2 = (a_1 + 2)a_3$ (즉 $a_1 > a_3$)이 되도록 하는 a_2 의 값은 $\alpha - \frac{1}{2}$ 이고 $\alpha > \frac{1}{2}$ 일 때 위의 부등식 $a_1 > a_3$ 을 만족시킨다.

n	1	2	3	4	5
a_n	$\alpha - \frac{1}{2}$	$-\alpha - \frac{1}{2}$	-1	$\alpha - \frac{1}{2}$	
α	$\alpha > \frac{1}{2}$				

위의 표에서 $\sum_{k=1}^4 a_k = \alpha - \frac{5}{2}$ 이다.

조건 (나)에서 주어진 $\sum_{k=1}^5 a_k = \left(\alpha - \frac{5}{2}\right) + a_5 = -5$ 가 되도록 하는 a_5 의 값은 $-\alpha - \frac{5}{2}$ 이다.

n	1	2	3	4	5
a_n	$\alpha - \frac{1}{2}$	$-\alpha - \frac{1}{2}$	-1	$\alpha - \frac{1}{2}$	$-\alpha - \frac{5}{2}$
α	$\alpha > \frac{1}{2}$				

$\alpha > \frac{1}{2}$ 일 때 $a_3 + a_5 = -\alpha - \frac{7}{2} < 0$ 이고 $a_4 = \alpha - \frac{1}{2} > 0$ 이므로 $a_4 = a_3 + a_5$ (즉 $a_3 \leq a_5$)이 되도록 하는 α 의 값은 존재하지 않는다. $\alpha > \frac{1}{2}$ 일 때 $(a_3 + 2)a_5 = -\alpha - \frac{5}{2} < 0$ 이고 $a_4 = \alpha - \frac{1}{2} > 0$ 이므로 $a_4 = (a_3 + 2)a_5$ (즉 $a_3 > a_5$)이 되도록 하는 α 의 값은 존재하지 않는다.

따라서 $a_3 = (a_2 + 2)a_4$ (즉 $a_2 > a_4$)이다.

$(a_2 + 2)a_4 = -1$ 이 되도록 양수 β 에 대하여

$$a_2 = \beta - 2, a_4 = -\frac{1}{\beta} \text{라 하자.}$$

(β 의 값이 양수이면 $a_2 - a_4 = \beta - 2 + \frac{1}{\beta} = \frac{(\beta-1)^2}{\beta} > 0$ 이다.)

n	1	2	3	4	5
a_n		$\beta - 2$	-1	$-\frac{1}{\beta}$	
β	$\beta > 0$				

$a_2 = a_1 + a_3$ (즉 $a_1 \leq a_3$)이 되도록 하는 a_1 의 값은 $\beta - 1$ 인데 이는 위의 부등식 $a_1 \leq a_3$ 을 만족시키지 않으므로 제외한다.

수학 영역(가형)

$a_2 = (a_1 + 2)a_3$ (즉 $a_1 > a_3$)이 되도록 하는 a_2 의 값은 $-\beta$ 이고 $0 < \beta < 1$ 일 때 위의 부등식 $a_1 > a_3$ 을 만족시킨다.

n	1	2	3	4	5
a_n	$-\beta$	$\beta - 2$	-1	$-\frac{1}{\beta}$	
β	$0 < \beta < 1$				

위의 표에서 $\sum_{k=1}^4 a_k = -\frac{1}{\beta} - 3$ 이다.

조건 (나)에서 주어진 $\sum_{k=1}^5 a_k = \left(-\frac{1}{\beta} - 3\right) + a_5 = -5$ 가 되도록 하는 a_5 의 값은 $\frac{1}{\beta} - 2$ 이다.

n	1	2	3	4	5
a_n	$-\beta$	$\beta - 2$	-1	$-\frac{1}{\beta}$	$\frac{1}{\beta} - 2$
β	$0 < \beta < 1$				

위의 표에서 $(a_3 + 2)a_5 = -\frac{1}{\beta} + 2$ 이고 $a_4 = -\frac{1}{\beta}$ 이므로 $a_4 = (a_3 + 2)a_5$ (즉 $a_3 > a_5$)이 되도록 하는 β 의 값은 존재하지 않는다. 따라서 $a_4 = a_3 + a_5$ (즉 $a_3 \leq a_5$)이고, $-\frac{1}{\beta} = \frac{1}{\beta} - 3$ 를 만족시키는 β 의 값은 $\frac{2}{3}$ 이다. 이는 $0 < \beta < 1$ 을 만족시키므로 수열 $\{a_n\}$ 의 항은 다음 표와 같다.

n	1	2	3	4	5
a_n	$-\frac{2}{3}$	$-\frac{4}{3}$	-1	$-\frac{3}{2}$	$-\frac{1}{2}$

위 표와 수열 $\{a_n\}$ 에 대하여 주어진 조건식을 이용하여 $n > 5$ 일 때의 수열 $\{a_n\}$ 의 항을 조사해보자.

$a_4 \leq a_6$ 인 경우 $a_5 = a_4 + a_6$, $a_6 = 1$ 이고, $a_4 = -\frac{3}{2} > a_6$ 인 경우는 $a_5 = (a_4 + 2)a_6$, $a_6 = -1$ 이므로 조건을 만족하는 a_6 의 값은 존재하지 않는다. $\therefore a_6 = 1$

$a_5 \leq a_7$ 인 경우 $a_6 = a_5 + a_7$, $a_7 = \frac{3}{2}$ 이고 $a_5 = -\frac{1}{2} > a_7$ 인 경우는 $a_6 = (a_5 + 2)a_7$, $a_7 = \frac{2}{3}$ 이므로 조건을 만족하는 a_7 의 값은 존재하지 않는다. $\therefore a_7 = \frac{3}{2}$

따라서 $a_6 + a_7 = \frac{3}{2} + 1 = \frac{5}{2}$ 이다.

22) [정답] 24 (출제자 : 20 김유진)

[출제의도] 이항정리를 이용하여 전개식의 계수를 구할 수 있는가?

[해설]

$\left(x^2 + \frac{2}{x}\right)^4$ 의 일반항은

$${}_4C_r \times x^{2(4-r)} \times \left(\frac{2}{x}\right)^r = {}_4C_r \times x^{8-3r} \times 2^r \text{이다.}$$

이 식을 통해 x^2 의 항은 $8 - 3r = 2$ 일 때인 $r = 2$ 일 때이다.

따라서 x^2 의 계수는 ${}_4C_2 \times 2^2 = 6 \times 4 = 24$ 이다.

23) [정답] 15 (출제자 : 20 이선우)

[출제의도] 간단한 미분계수를 구할 수 있는가?

[해설]

함수 $f(x) = (4x^2 + 5)e^{3x}$ 에서

$$f'(x) = 8xe^{3x} + 3(4x^2 + 5)e^{3x} = (12x^2 + 8x + 15)e^{3x} \text{이다.}$$

따라서 $f'(0) = 15$ 이다.

24) [정답] 4 (출제자 : 20 송문주)

[출제의도] 로그의 성질을 이용하여 부등식을 풀 수 있는가?

[해설]

진수 조건에 의해 i) $x^2 + x > 0$, ii) $x - 1 > 0$ 이다.

i) $x(x + 1) > 0$ 으로 $x > 0$ 또는 $x < -1$ 이다.

ii) $x > 1$ 이다.

한편,

$$\log_3(x^2 + x) > 1 + \log_3(x - 1)$$

$$\log_3(x^2 + x) > \log_3 3 + \log_3(x - 1)^2$$

$$\log_3(x^2 + x) > \log_3 3(x - 1)^2$$

으로, $x^2 + x > 3(x - 1)^2$ 이 되어야 한다.

$$x^2 + x > 3x^2 - 6x + 3, 2x^2 - 7x + 3 < 0,$$

$$(2x - 1)(x - 3) < 0 \text{이므로 iii) } \frac{1}{2} < x < 3 \text{이다.}$$

i), ii), iii)을 모두 만족시키는 모든 실수 x 의 값의 범위는 $1 < x < 3$ 이다.

따라서 $a = 1$, $b = 3$ 이므로 $a + b = 4$ 이다.

25) [정답] 225 (출제자 : 19 장지원)

[출제의도] 정규분포를 따르는 확률변수의 성질을 이용하여 평균과 표준편차를 구할 수 있는가?

[해설]

주어진 식 $P(m \leq X \leq 2m) + P(X \leq m - 2) = 0.5$ 를 표준화하면

$$P(0 \leq Z \leq m) + P(Z \leq -2) = 0.5 \text{이다.}$$

위 식이 성립하기 위해서는 $m + (-2) = 0$ 이어야 하므로 $m = 2$ 이다.

$P(X \leq a) = P(Z \leq a - 2) = 0.0401$ 에서 주어진 표준정규분포표에 의하여 $P(Z \leq -1.75) = 0.5 - 0.4599 = 0.0401$ 이므로

$$a - 2 = -1.75, a = \frac{1}{4} \text{이다.}$$

$$\text{따라서 } 100(m + a) = 100\left(2 + \frac{1}{4}\right) = 225 \text{이다.}$$

26) [정답] 17 (출제자 : 19 장지원)

[출제의도] 등차수열의 성질을 이용하여 구하고자 하는 항을 구할 수 있는가?

[해설]

$$\sum_{n=1}^m a_{2n} = a_2 + a_4 + a_6 + \dots + a_{2m} = 72 \text{이고}$$

수학 영역(가형)

$$\sum_{n=1}^{m+1} a_{2n-1} = a_1 + a_3 + a_5 + \dots + a_{2m+1} = 84 \text{ 이므로}$$

등차수열 $\{a_n\}$ 의 공차를 d 라 하면

$$\begin{aligned} \sum_{n=1}^{m+1} a_{2n-1} - \sum_{n=1}^m a_{2n} &= a_1 + (a_3 - a_2) + (a_5 - a_4) + \dots + (a_{2m+1} - a_{2m}) \\ &= a_1 + md = a_{m+1} \text{ 이므로} \end{aligned}$$

$$a_{m+1} = 84 - 72 = 12 \text{ 이다.}$$

이때 조건 (가)에서

$$\sum_{n=1}^m a_{2n} = \frac{m \times (a_2 + a_{2m})}{2} = ma_{m+1} = 72 \text{ 이므로 } m = 6 \text{ 이다.}$$

즉, $a_7 = 12$ 이므로 $a_1 = a_7 - 6d = 12 - 6d$ 이다. 문제의 조건에 의해 $a_1 > 0$ 이므로, $d < 2$ 이다. d 는 자연수이므로 $d = 1$ 이다.

$$\text{따라서 } a_{2m} = a_{12} = a_7 + 5d = 12 + 5 = 17 \text{ 이다.}$$

[별해]

위의 해설이 조건 (가), (나)에 주어진 두 식을 뺀 풀이라면 두 식을 합해서도 문제를 해결할 수 있다.

조건 (가), (나)에 주어진 두 식을 합하면

$$\begin{aligned} \sum_{n=1}^m a_{2n} + \sum_{n=1}^{m+1} a_{2n-1} &= \sum_{n=1}^{2m+1} a_n = \frac{(2m+1)(a_1 + a_{2m+1})}{2} = 156 \text{ 이므로} \\ (2m+1)(a_1 + a_{2m+1}) &= 2 \times 156 = 2^3 \times 3 \times 13 \text{ 이다.} \end{aligned}$$

이때 $2m+1$ 의 값과 $a_1 + a_{2m+1}$ 의 값이 모두 자연수이다.

자연수 m 에 대하여 $2m+1$ 의 값은 홀수이므로

$2m+1$ 의 값은 3, 13, 39 중 하나, 즉

m 의 값은 1, 6, 19 중 하나이다.

수열 $\{a_n\}$ 의 첫째항을 a , 공차를 d (단, a, d 는 자연수)라 하면

$$a_1 + a_{2m+1} = 2a + 2md \text{ 이다.}$$

$m = 1$ 인 경우, $a_1 + a_{2m+1} = 2a + 2d = 104$, $a + d = a_2 = 52$ 이다.

조건 (가)에서 $\sum_{n=1}^1 a_{2n} = a_2 = 72$ 인데 이는 위에서 얻은 정보에 모순이다.

$m = 39$ 인 경우, $a_1 + a_{2m+1} = 2a + 78d = 8$, $a + 39d = 4$ 이다.

이를 만족시키는 자연수 a, d 는 존재하지 않으므로 이는 모순이다.

따라서 $m = 6$ 이고 $a_1 + a_{2m+1} = 2a + 12d = 24$, $a + 6d = 12$ 이다.

이를 만족시키는 자연수 a, d 는 $a = 6, d = 1$ 뿐이므로

$$a_{2m} = a_{12} = a + 11d = 17 \text{ 이다.}$$

27) [정답] 3 (출제자 : 20 김동연)

[출제의도] 치환적분법을 이용해 역함수의 적분을 할 수 있는가?

[해설]

함수 $f(x)$ 의 역함수가 $g(x)$ 이므로

$$g(f(x)) = x, \quad g(\ln(x^2 + 1) + k) = x \text{ 이다.}$$

$$g(x) = t \text{ 라 하면 } x = \ln(t^2 + 1) + k \text{ 이므로 } \frac{dx}{dt} = \frac{2t}{t^2 + 1} \text{ 이다.}$$

함수 $f(x)$ 가 $x \geq 0$ 에서 정의된 함수이므로 $g(x) \geq 0$ 이다.

$x = k + \ln 2$ 일 때 $t = 1$, $x = k + \ln 10$ 일 때 $t = 3$ 이므로

$$\begin{aligned} \int_{k+\ln 2}^{k+\ln 10} \frac{e^x}{g(x)} dx &= \int_1^3 \frac{e^{\ln(t^2+1)+k}}{g(\ln(t^2+1)+k)} \times \frac{2t}{t^2+1} dt \\ &= \int_1^3 \frac{(t^2+1)e^k}{t} \times \frac{2t}{t^2+1} dt = \int_1^3 2e^k dt = [2e^k t]_1^3 \\ &= 6e^k - 2e^k = 4e^k = 4e^3 \text{ 이다.} \end{aligned}$$

따라서 $k = 3$ 이다.

28) [정답] 2 (출제자 : 20 이선우)

[출제의도] 선분의 길이와 도형의 넓이를 삼각함수를 이용하여 나타내고 극한값을 구할 수 있는가?

[해설]

내접원과 반원의 접점을 R, 내접원의 반지름의 길이를 $r(\theta)$ 라 하면

$$\overline{OR} = 2r(\theta) + \overline{OM} \text{ 이고 } \overline{OR} = 1, \overline{OM} = \sin \theta \text{ 이므로}$$

$$r(\theta) = \frac{1 - \sin \theta}{2} \text{ 이다.}$$

두 호 PN, NB 의 길이가 서로 같고 $\angle BOP = 2\theta$ 이므로

$$\angle BON = \angle NOP = \theta \text{ 이다.}$$

이때 이등변삼각형 AOP 에서 $\angle APO = \theta$ 이므로 $\overline{AP} \parallel \overline{ON}$ 이다.

$$\angle MOA = \frac{\pi}{2} - \theta, \quad \angle BON = \theta \text{ 이므로 } \angle NOC = \frac{\pi}{2} \text{ 이다.}$$

즉 두 삼각형 NOC, DMC 가 서로 닮음이므로

$$\overline{OC} : \overline{MC} = \sin \theta + r(\theta) : r(\theta) = 1 + \sin \theta : 1 - \sin \theta \text{ 이다.}$$

$$\text{따라서 } \overline{MD} = \frac{1 - \sin \theta}{1 + \sin \theta} \text{ 이다.}$$

$$\overline{PD} = \overline{MP} - \overline{MD} \text{ 이고 } \overline{MP} = \cos \theta, \overline{MD} = \frac{1 - \sin \theta}{1 + \sin \theta} \text{ 이므로}$$

$$\overline{PD} = \cos \theta - \frac{1 - \sin \theta}{1 + \sin \theta} = (\cos \theta - 1) + \frac{2 \sin \theta}{1 + \sin \theta} \text{ 이다.}$$

삼각형 PDE 와 삼각형 ONE 가 닮음이므로

$$\overline{PD} : \overline{ON} = \overline{PE} : 1 \text{ 임을 이용해 } \overline{PE} \text{ 를 } \overline{PD} \text{ 로 나타내자.}$$

$$\overline{PD} : \overline{ON} = \overline{PE} : \overline{OE}, \quad \overline{PD} : 1 = \overline{PE} : 1 - \overline{PE},$$

$$\overline{PD} = \frac{\overline{PE}}{1 - \overline{PE}} \text{ 이므로 } \overline{PE} = \frac{\overline{PD}}{1 + \overline{PD}} \text{ 이다.}$$

$$S(\theta) = \frac{1}{2} \times \overline{PD} \times \overline{PE} \times \sin \theta \text{ 이므로}$$

$$\lim_{\theta \rightarrow 0^+} \frac{S(\theta)}{\theta^3} = \lim_{\theta \rightarrow 0^+} \frac{1}{2\theta^3} \times \frac{(\overline{PD})^2}{1 + \overline{PD}} \times \sin \theta \text{ 이다.}$$

$$\lim_{\theta \rightarrow 0^+} \frac{\overline{PD}}{\theta} = \lim_{\theta \rightarrow 0^+} \left\{ \frac{\cos \theta - 1}{\theta} + \frac{2 \sin \theta}{\theta(1 + \sin \theta)} \right\} = 0 + 2 = 2,$$

$\lim_{\theta \rightarrow 0^+} \overline{PD} = 0$ 임을 이용해 구하고자 하는 값을 계산하자.

$$\begin{aligned} \lim_{\theta \rightarrow 0^+} \frac{S(\theta)}{\theta^3} &= \lim_{\theta \rightarrow 0^+} \frac{1}{2\theta^3} \times \frac{(\overline{PD})^2}{1 + \overline{PD}} \times \sin \theta \\ &= \frac{1}{2} \lim_{\theta \rightarrow 0^+} \frac{1}{1 + \overline{PD}} \times \left(\frac{\overline{PD}}{\theta} \right)^2 \times \frac{\sin \theta}{\theta} \\ &= \frac{1}{2} \times 1 \times 2^2 \times 1 = 2. \end{aligned}$$

따라서 답은 2다.

수학 영역(가형)

29) [정답] 186 (출제자 : 19 황주영)

[출제의도] 같은 것이 있는 순열을 활용하여 복잡한 경우의 수를 구할 수 있는가?

[해설]

(가) 조건을 만족시키는 경우의 수를 먼저 구한 뒤, (가) 조건을 만족시키면서 (나) 조건을 만족시키지 않는 경우의 수를 구해서 제외하자.

1. A가 B보다 먼저 공연하는 경우의 수

i) 다섯 명이 따로 공연하는 경우

$$\frac{5!}{2!} = 60 \text{ 가지}$$

ii) 두 명은 함께, 나머지 세 명은 혼자서 공연하는 경우

① A, B 모두 홀로 공연하는 경우

동시에 공연할 두 학생을 C, D, E 중에서 선택한 후, A가 B보다 먼저 공연하도록 배열하면,

$${}_3C_2 \times \frac{4!}{2!} = 36 \text{ 가지}$$

② A, B 중 한 명이 다른 학생과 같이 공연하는 경우

A, B 중 다른 사람과 함께 공연할 학생을 선택한 후, 선택한 학생과 함께 공연할 학생을 C, D, E 중에서 선택하고 A가 B보다 먼저 공연하도록 배열하면,

$${}_2C_1 \times {}_3C_1 \times \frac{4!}{2!} = 72 \text{ 가지}$$

iii) 네 명의 학생은 두 명씩 동시에, 남은 한 학생은 홀로 공연하는 경우

① A, B 모두 다른 학생과 함께 공연하는 경우

A, B와 공연할 학생을 C, D, E 중에서 각각 선택하고 A가 B보다 먼저 공연하도록 배열하면,

$${}_3P_2 \times \frac{3!}{2!} = 18 \text{ 가지}$$

② A, B 중 한 명의 학생이 홀로 공연하는 경우

A, B 중 홀로 공연할 학생을 고르고 남은 학생과 함께 공연할 학생을 C, D, E 중에서 선택한 뒤, A가 B보다 먼저 공연하도록 배열하면,

$${}_2C_1 \times {}_3C_1 \times \frac{3!}{2!} = 18 \text{ 가지}$$

따라서 A가 B보다 먼저 공연하는 경우의 수는

$$60 + 36 + 72 + 18 + 18 = 204 \text{ 가지}$$

2. A가 B보다 먼저 공연하고, C와 D가 동시에 공연하는 경우의 수

ii)-①의 경우

$$\frac{4!}{2!} = 12 \text{ 가지}$$

iii)-②의 경우

$$2 \times \frac{3!}{2!} = 6 \text{ 가지}$$

따라서 A가 B보다 먼저 공연하고, C와 D가 동시에 공연하는 경우의 수는 $12 + 6 = 18$ 가지

따라서 구하는 전체 경우의 수는

$$204 - 18 = 186 \text{ 가지이다.}$$

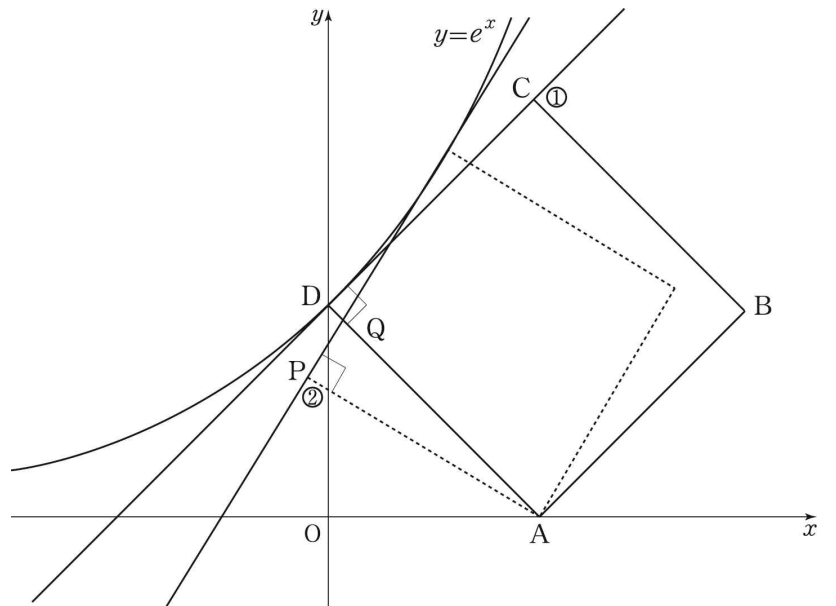
30) [정답] 7 (출제자 : 20 김동연)

[출제의도] 곡선과 정사각형이 접하는 경우를 추론하고 관계식을 구한 후, 음함수의 미분법을 활용하여 미분계수를 구할 수 있는가?

[해설]

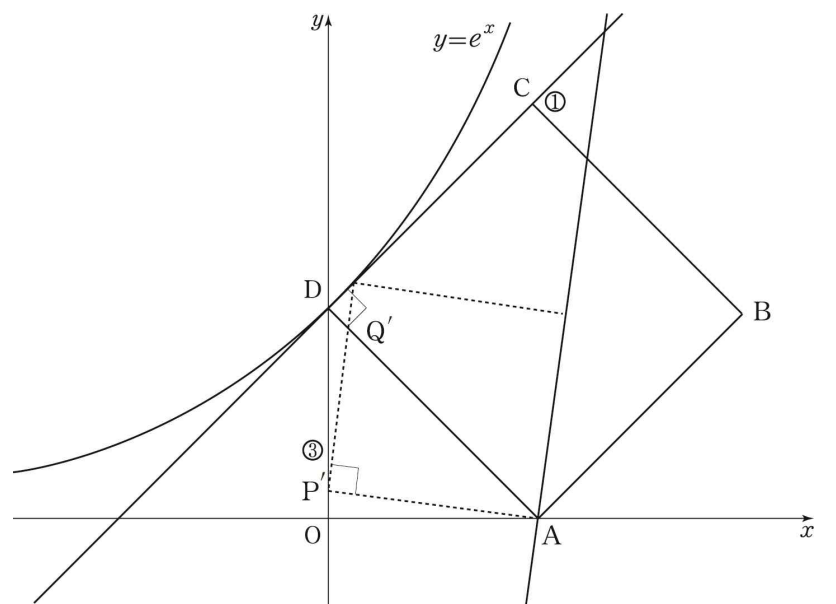
점 $(t, 0)$ 을 점 A라 하고 그림과 같이 정사각형의 네 꼭짓점을 A, B, C, D라 하자.

조건 (나)를 만족시키면서 점 D가 접점이 되는 경우에 만들어지는 정사각형을 ①, 꼭짓점이 아닌 한 변에서 곡선과 접하는 경우에 만들어지는 정사각형을 ②라 하자. ②의 경우에 점 A에서 접선에 내린 수선의 발을 점 P, ②의 경우의 접선과 선분 AD가 만나는 점을 Q라 하자.



직각삼각형 APQ에서 $\overline{AP} < \overline{AQ}$ 이고, $\overline{AQ} < \overline{AD}$ 이므로 ①의 넓이가 ②의 넓이보다 크다.

조건 (나)를 만족시키면서 점 A가 접선 위에 있는 경우에 만들어지는 정사각형을 ③이라 하자. ③의 경우에 점 A와 이웃한 꼭짓점 중 접선 위에 있지 않은 점을 P', ①과 ③이 만나는 점 중 점 A가 아닌 점을 Q'이라 하자.



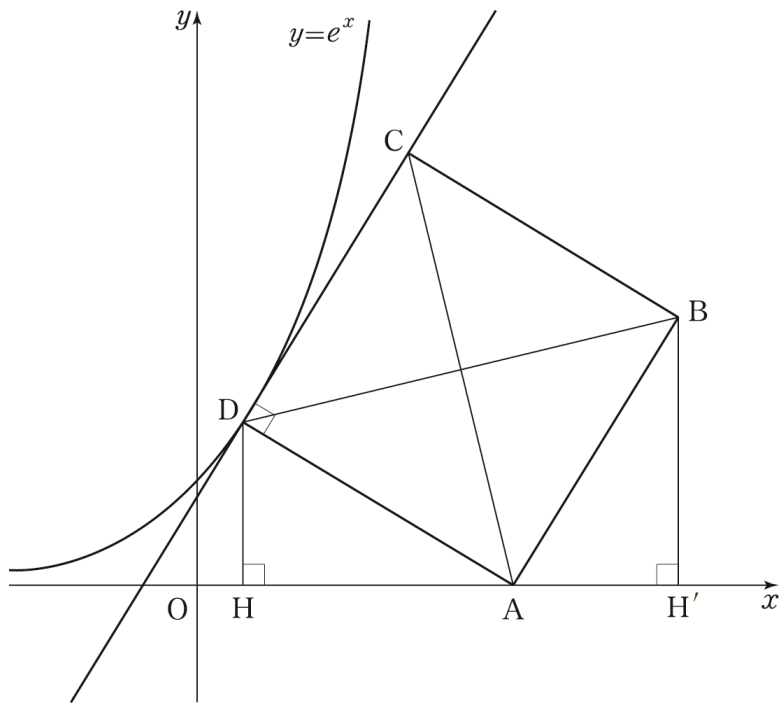
직각삼각형 AP'Q'에서 $\overline{AP'} < \overline{AQ'}$ 이고, $\overline{AQ'} < \overline{AD}$ 이므로 ①의 넓이가 ③의 넓이보다 크다.

따라서 조건 (가)와 (나)를 만족시키는 정사각형 중 넓이가 최대가 되는

수학 영역(가형)

경우는 ①의 경우인 점 D가 접점인 경우이다.

이제 점 D가 접점인 경우에서 $f(t)$ 와 $g(t)$ 를 구해보자.



점 D의 x 좌표를 a , 점 D에서 x 축에 내린 수선의 발을 H라 하면 두 점 D, H의 좌표는 $D(a, e^a)$, $H(a, 0)$ 이다.

즉 $\overline{DH} = e^a$, $\overline{AH} = t - a$ 이다.

점 B에서 x 축에 내린 수선의 발을 H' 라 하면 $\overline{AD} = \overline{AB}$, $\angle DAH = \angle ABH'$ 이므로 두 직각삼각형 DAH와 ABH' 는 RHA 합동이다.

따라서 $\overline{AH'} = \overline{DH} = e^a$ 이므로 점 H' 의 좌표는 $(t + e^a, 0)$ 이고, $\overline{BH'} = \overline{AH} = t - a$ 이므로 점 B의 좌표는 $(t + e^a, t - a)$ 이다.

이때 두 대각선의 교점은 두 점 $B(t + e^a, t - a)$, $D(a, e^a)$ 의 중점이므로 $f(t) = \frac{t + e^a + a}{2}$, $g(t) = \frac{t + e^a - a}{2}$ 이다.

즉, $f(t) + g(t) = t + e^a$ 이므로 $f'(t) + g'(t) = 1 + e^a \frac{da}{dt}$ 이다.

위 그림에서 두 직선 CD와 AD가 서로 수직이다.

이때 직선 CD의 기울기는 e^a 이고, 직선 AD의 기울기는 $\frac{e^a}{a-t}$ 이므로 $e^a \times \frac{e^a}{a-t} = -1$ 이다. 즉 $e^{2a} = t - a$ 이므로 $t = e^{2a} + a$ 이다.

위에서 얻은 양변을 t 에 대하여 미분하면

$$1 = (2e^{2a} + 1) \frac{da}{dt} \text{ 이므로 } \frac{da}{dt} = \frac{1}{2e^{2a} + 1} \text{ 이다.}$$

$$f'(t) + g'(t) = 1 + e^a \frac{da}{dt} = 1 + \frac{e^a}{2e^{2a} + 1} \text{ 이므로}$$

방정식 $1 + \frac{e^a}{2e^{2a} + 1} = \frac{4}{3}$ 을 만족시키는 t 의 값을 구하자.

$$\frac{e^a}{2e^{2a} + 1} = \frac{1}{3}, 3e^a = 2e^{2a} + 1, 2e^{2a} - 3e^a + 1 = 0 \text{ 에서}$$

$e^a = s$ 라 치환하면 위의 식은 $2s^2 - 3s + 1 = (s-1)(2s-1) = 0$ 이므로 주어진 방정식의 실근은 $e^a = 1$ 또는 $e^a = \frac{1}{2}$ 인 t 의 값을 알 수 있다.

위에서 구한 $t = e^{2a} + a$ 의 식을 이용하자.

$e^a = 1$ 인 경우 $a = 0$ 이므로 $t = e^0 + 0 = 1$ 이다.

$e^a = \frac{1}{2}$ 인 경우 $a = -\ln 2$ 이므로 $t = e^{-2\ln 2} - \ln 2 = \frac{1}{4} - \ln 2$ 이다.

따라서 구하고자 하는 값은 $1 + \left(\frac{1}{4} - \ln 2\right) = \frac{5}{4} - \ln 2$ 이므로

$p = \frac{5}{4}$, $q = 2$, $4p + q = 7$ 이다.