

제 2 교시

수학 영역

KSM

5지선다형

1. 두 다항식 $A = x^2 - 2xy + y^2$, $B = x^2 + 2xy + y^2$ 에 대하여 $A + B$ 를 간단히 하면? [2점]

- ① $x^2 + y^2$
- ② $2x^2 + 2y^2$
- ③ $3x^2 + 3y^2$
- ④ $2x^2 - 2xy + 2y^2$
- ⑤ $2x^2 + 2xy + 2y^2$

2. $(3+i) + (1-3i)$ 의 값은? (단, $i = \sqrt{-1}$) [2점]

- ① $2-2i$
- ② $3-2i$
- ③ $4-2i$
- ④ $3+2i$
- ⑤ $4+2i$

3. 등식 $x(x+1) + 2(x+1) = x^2 + ax + b$ 가 x 에 대한 항등식일 때, 두 상수 a, b 에 대하여 $a-b$ 의 값은? [2점]

- ① 1
- ② 2
- ③ 3
- ④ 4
- ⑤ 5

$$\begin{aligned}
 &x^2 + x + 2x + 2 \\
 &= x^2 + 3x + 2 = x^2 + ax + b \\
 &a = 3 \\
 &b = 2 \\
 &a - b = 1
 \end{aligned}$$

4. 좌표평면 위의 원점 O 와 두 점 $A(5, -5)$, $B(1, a)$ 에 대하여 $\overline{OA} = \overline{OB}$ 를 만족시킬 때, 양수 a 의 값은? [3점]

- ① 6
- ② 7
- ③ 8
- ④ 9
- ⑤ 10

$$\begin{aligned}
 \overline{OA} &= \sqrt{25+25} \\
 \overline{OB} &= \sqrt{1+a^2} \quad) = \\
 a^2 + 1 &= 50 \\
 a^2 &= 49 \\
 a &= 7
 \end{aligned}$$

5. 좌표평면 위의 두 점 $A(-4, 0)$, $B(5, 3)$ 에 대하여 선분 AB 를 2:1로 내분하는 점의 좌표가 (a, b) 일 때, $a+b$ 의 값은? [3점]

- ① 1 ② 2 ③ 3 ④ 4 ⑤ 5

$$\left(\frac{10-4}{2+1}, \frac{6+0}{2+1} \right) = (2, 2)$$

$$= (a, b)$$

$$a+b=4$$

6. 부등식 $|2x+1| < 7$ 의 해가 $a < x < b$ 일 때, ab 의 값은?

[3점]

- ① -12 ② -10 ③ -8 ④ -6 ⑤ -4

$$-7 < 2x+1 < 7$$

$$-8 < 2x < 6$$

$$-4 < x < 3$$

7. 다항식 $x^4 - x^2 - 12$ 가 $(x-a)(x+a)(x^2+b)$ 로 인수분해될 때, 두 양수 a, b 에 대하여 $a+b$ 의 값은? [3점]

- ① 4 ② 5 ③ 6 ④ 7 ⑤ 8

$$x^2 = t$$

$$t^2 - t - 12$$

$$= (t-4)(t+3)$$

$$= (x^2-4)(x^2+3)$$

$$= (x-2)(x+2)(x^2+3)$$

$$a=2 \quad b=3 \quad a+b=5$$

8. 이차방정식 $x^2+2x+k=0$ 의 서로 다른 두 근을 α, β 라 할 때, $\alpha^2+\beta^2=8$ 이다. 상수 k 의 값은? [3점]

- ① -5 ② -4 ③ -3 ④ -2 ⑤ -1

$$\alpha + \beta = -2$$

$$\alpha\beta = k$$

$$\alpha^2 + \beta^2 = (\alpha + \beta)^2 - 2\alpha\beta$$

$$8 = 4 - 2k, \quad k = -2$$

9. 두 직선 $3x+2y-5=0, 3x+y-1=0$ 의 교점을 지나고 직선 $2x-y+4=0$ 에 평행한 직선의 y 절편은? [3점]

- ① 2 ② 3 ③ 4 ④ 5 ⑤ 6

↕
가치 2

$$\begin{array}{r} 3x+2y-5=0 \\ - \quad 3x+y-1=0 \\ \hline y-4=0 \\ y=4 \\ x=-1 \end{array}$$

교점 (-1, 4) 가치 2

$$y = 2(x+1) + 4$$

$$y = 2x + 6$$

y절편: $x=0 \rightarrow 6$

10. 연립방정식

$$\begin{cases} x-y+1=0 \\ x^2-2y^2-2=0 \end{cases}$$

의 해를 $x=\alpha, y=\beta$ 라 할 때, $\alpha+\beta$ 의 값은? [3점]

- ① -5 ② -4 ③ -3 ④ -2 ⑤ -1

$$x = y - 1$$

↙ 대입

$$x^2 - 2y^2 - 2 = 0$$

$$(y-1)^2 - 2y^2 - 2 = 0$$

$$y^2 - 2y + 1 - 2y^2 - 2 = 0$$

$$y^2 + 2y + 1 = 0$$

$$(y+1)^2 = 0$$

$$y = -1 \rightarrow x = -2$$

$$\alpha = -2, \beta = -1$$

$$\alpha + \beta = -3$$

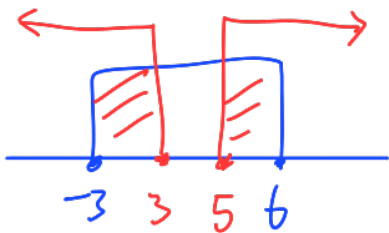
11. 연립부등식

$$\begin{cases} x^2 - 3x - 18 \leq 0 \\ x^2 - 8x + 15 \geq 0 \end{cases}$$

을 만족시키는 모든 정수 x 의 값의 합은? [3점]

- ① 7 ② 8 ③ 9 ④ 10 ⑤ 11

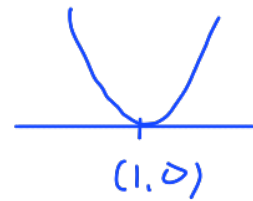
$$\begin{aligned} (x+3)(x-6) \leq 0 &\rightarrow -3 \leq x \leq 6 \\ (x-3)(x-5) \geq 0 &\rightarrow x \leq 3 \text{ or } x \geq 5 \end{aligned}$$



-3, -2, -1, 0, 1, 2, 3, 5, 6
5, 6
 11

12. 두 상수 a, b 에 대하여 이차함수 $y = x^2 + ax + b$ 의 그래프가 점 $(1, 0)$ 에서 x 축과 접할 때, 이차함수 $y = x^2 + bx + a$ 의 그래프가 x 축과 만나는 두 점 사이의 거리는? [3점]

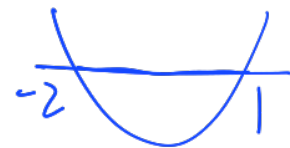
- ① 1 ② 2 ③ 3 ④ 4 ⑤ 5



$$\begin{aligned} y &= (x-1)^2 \\ &= x^2 - 2x + 1 = x^2 + ax + b \\ a &= -2 \\ b &= 1 \end{aligned}$$

$$y = x^2 + bx + a$$

$$y = x^2 + x - 2 = (x+2)(x-1)$$



$$\text{거리: } 1 - (-2) = 3$$

13. 좌표평면 위의 점 $A(-3, 4)$ 를 직선 $y=x$ 에 대하여 대칭이동한 점을 B 라 하고, 점 B 를 x 축의 방향으로 2만큼, y 축의 방향으로 k 만큼 평행이동한 점을 C 라 하자. 세 점 A, B, C 가 한 직선 위에 있을 때, 실수 k 의 값은? [3점]

- ① -5 ② -4 ③ -3 ④ -2 ⑤ -1

$A(-3, 4)$
 $B(4, -3)$
 $C(6, -3+k)$

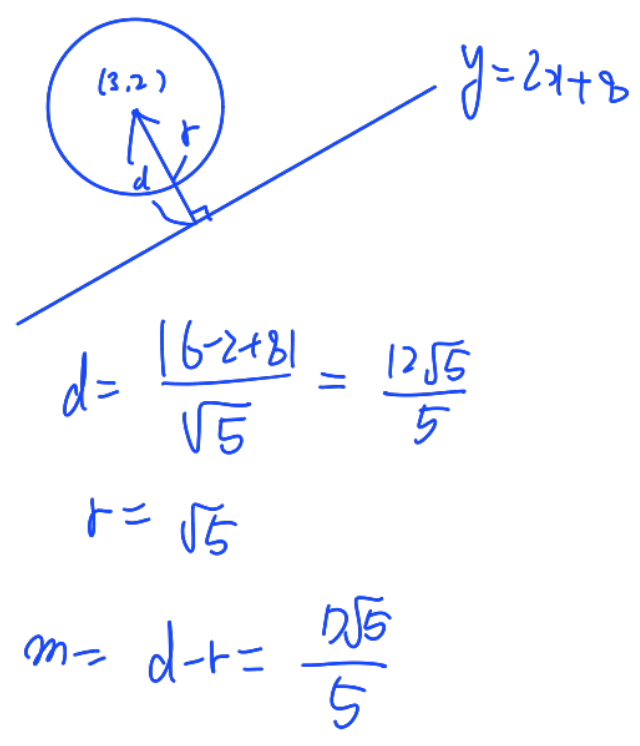
한 직선 위 \Rightarrow 기울기 일치

$$\frac{-3-4}{4-(-3)} = \frac{(-3+k)-(-3)}{6-4}$$

$$\frac{-7}{7} = \frac{k}{2}, k = -2$$

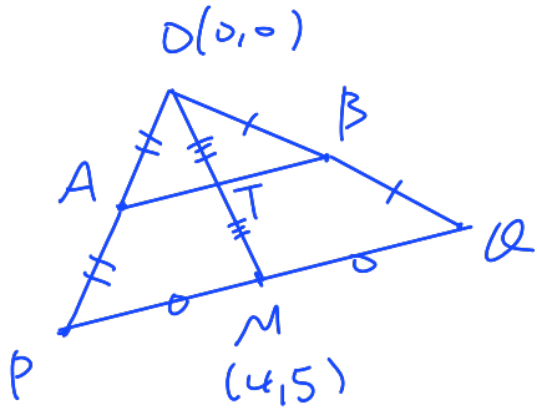
14. 중심이 점 $(3, 2)$ 이고 반지름의 길이가 $\sqrt{5}$ 인 원 위의 점과 직선 $2x-y+8=0$ 사이의 거리의 최솟값은? [4점]

- ① $\frac{7\sqrt{5}}{5}$ ② $\frac{8\sqrt{5}}{5}$ ③ $\frac{9\sqrt{5}}{5}$ ④ $2\sqrt{5}$ ⑤ $\frac{11\sqrt{5}}{5}$



15. 좌표평면 위의 원점 O와 두 점 A, B를 꼭짓점으로 하는 삼각형 OAB가 있다. 선분 OA를 2:1로 외분하는 점을 P, 선분 OB를 2:1로 외분하는 점을 Q라 하자. 선분 PQ의 중점의 좌표가 (4, 5)일 때, 삼각형 OAB의 무게중심의 좌표는 (a, b)이다. a+b의 값은? [4점]

- ① 3 ② 4 ③ 5 ④ 6 ⑤ 7



$\overline{OT} = \overline{TM}, T(2, \frac{5}{2})$

$\triangle OAB$ 의 무게중심: O, T를 2:1 내분점

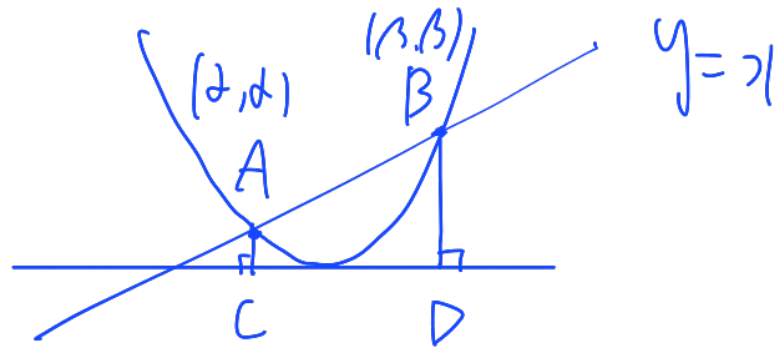
$(2 \times \frac{2}{3}, \frac{5}{2} \times \frac{2}{3}) = (\frac{4}{3}, \frac{5}{3}) = (a, b)$

$a+b=3$

16. 이차함수 $y = \frac{1}{2}(x-k)^2$ 의 그래프와 직선 $y=x$ 가

서로 다른 두 점 A, B에서 만난다. 두 점 A, B에서 x축에 내린 수선의 발을 각각 C, D라 하자. 선분 CD의 길이가 6일 때, 상수 k의 값은? [4점]

- ① $\frac{7}{2}$ ② 4 ③ $\frac{9}{2}$ ④ 5 ⑤ $\frac{11}{2}$



$b-d=6$

$\frac{1}{2}(a-k)^2 = a, a^2 - 2ka + k^2 = 2a$

$a^2 - 2(k+1)a + k^2 = 0$

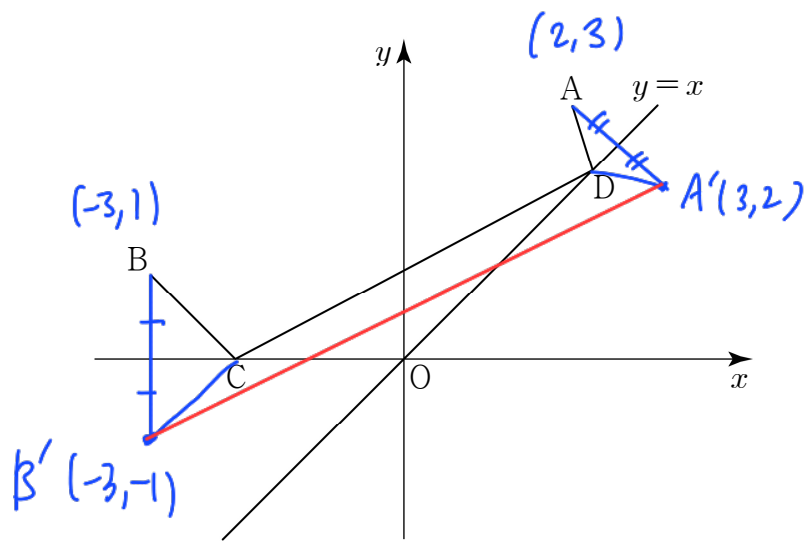
$a+b=2(k+1), ab=k^2$

$(b-a)^2 = (a+b)^2 - 4ab$

$36 = 4k^2 + 8k + 4 - 4k^2$

$8k=32, k=4$

17. 그림과 같이 좌표평면 위에 두 점 $A(2, 3)$, $B(-3, 1)$ 이 있다. 서로 다른 두 점 C 와 D 가 각각 x 축과 직선 $y=x$ 위에 있을 때, $\overline{AD} + \overline{CD} + \overline{BC}$ 의 최솟값은? [4점]



- ① $\sqrt{42}$ ② $\sqrt{43}$ ③ $2\sqrt{11}$ ④ $3\sqrt{5}$ ⑤ $\sqrt{46}$

$A'(3, 2) \quad \overline{AD} = \overline{A'D}$

$B'(-3, -1) \Rightarrow \overline{BC} = \overline{B'C}$

$\overline{AD} + \overline{CD} + \overline{BC}$

$= \overline{A'D} + \overline{CD} + \overline{B'C} \geq \overline{A'B'} = \sqrt{36+9} = 3\sqrt{5}$

18. 함수 $f(x) = x^2 + 4x - 3k^2 - 12k + 40$ 의 그래프와 x 축이 만나는 점의 개수와, 함수 $g(x) = x^2 - 12x + 3k^2 - 36k + 96$ 의 그래프와 x 축이 만나는 점의 개수가 서로 같도록 하는 모든 정수 k 의 개수는? [4점]

- ① 11 ② 13 ③ 15 ④ 17 ⑤ 19

$f(x)$ 의 $D_1 = 4^2 - 4(1)(-3k^2 - 12k + 40)$
 $= 16 + 12k^2 + 48k - 160$
 $= 12k^2 + 48k - 144$
 $= 12(k+2)(k-2)$

$g(x)$ 의 $D_2 = 12^2 - 4(1)(3k^2 - 36k + 96)$
 $= 144 - 12k^2 + 144k - 384$
 $= -12k^2 + 144k - 240$
 $= -12(k-2)(k-10)$

$D_1 > 0$ & $D_2 > 0$

$D_1 = 0$ & $D_2 = 0$

$D_1 < 0$ & $D_2 < 0$

i) $D_1 = 0$ & $D_2 = 0 \quad k = 2$

ii) D_1 & D_2 부호 일치 $\rightarrow D_1 \times D_2 > 0 \quad (k \neq 2)$

$-9(k-2)^2(k+6)(k-10) > 0$

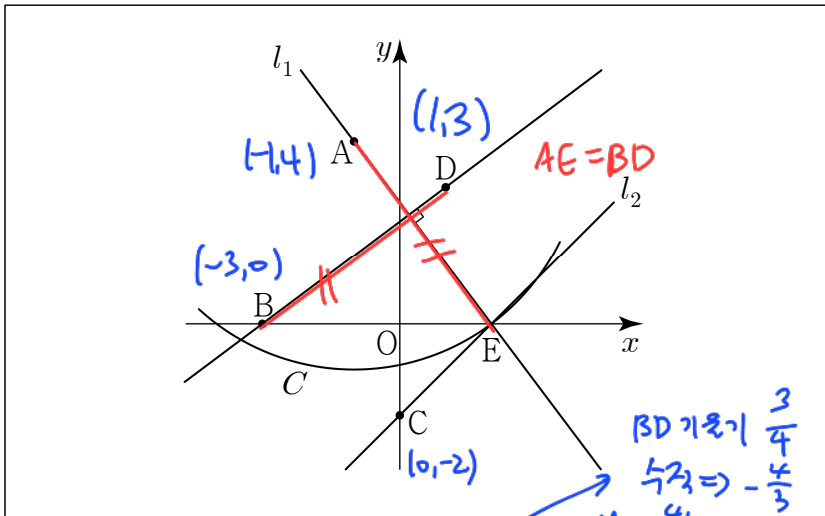
$(k-2)^2 > 0 \Rightarrow (k+6)(k-10) < 0$

$-6 < k < 10$

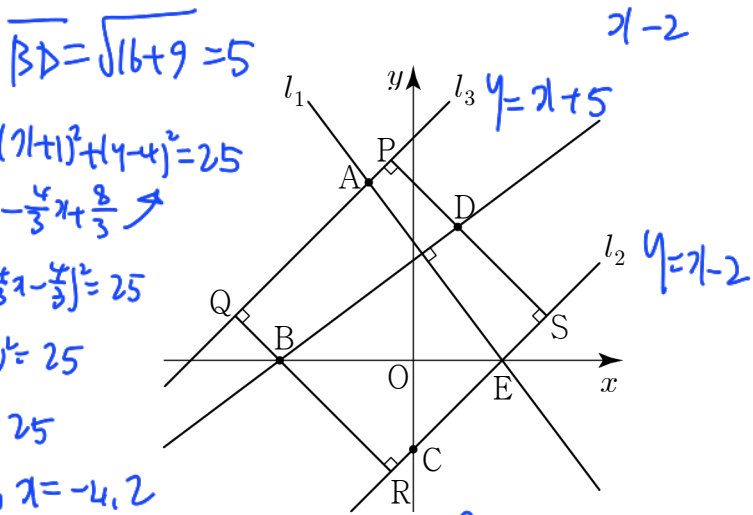
정수 k 4개 ($k \neq 2$)

$\therefore 4 + 1 = 5$

19. 좌표평면 위에 네 점 $A(-1, 4)$, $B(-3, 0)$, $C(0, -2)$, $D(1, 3)$ 이 있다. 다음은 네 점 A, B, C, D 가 각각 네 변 PQ, QR, RS, SP 위에 있도록 하는 정사각형 $PQRS$ 의 한 변의 길이를 구하는 과정이다.



점 A 를 지나고 두 점 B 와 D 를 지나는 직선에 수직인 직선 l_1 의 방정식은 $y = \square$ (가)이다.
 점 A 를 중심으로 하고 반지름의 길이가 \overline{BD} 인 원을 C 라 하자. 원 C 와 직선 l_1 이 만나는 두 점 중 점 C 와의 거리가 더 작은 점을 E 라 하고, 두 점 C 와 E 를 지나는 직선을 l_2 라 하면 직선 l_2 의 방정식은 $y = \square$ (나)이다.



두 점 B 와 D 에서 직선 l_2 에 내린 수선의 발을 각각 R, S 라 하자. 점 A 를 지나고 직선 l_2 와 평행한 직선을 l_3 이라 하고, 두 점 B 와 D 에서 직선 l_3 에 내린 수선의 발을 각각 Q, P 라 하자.
 사각형 $PQRS$ 는 네 점 A, B, C, D 가 각각 네 변 PQ, QR, RS, SP 위에 있고 한 변의 길이가 $\overline{PQ} = \overline{QR} = \square$ (다)인 정사각형이다.

위의 (가), (나)에 알맞은 식을 각각 $f(x), g(x)$ 라 하고, (다)에 알맞은 수를 α 라 할 때, $\frac{3}{4}f(\alpha) - g(\alpha)$ 의 값은? [4점]
 $y = (x+1)+4 = x+5 \therefore y = x+5$ & $y = x-2$ 거리 = 정사각형 한 변 길이

- ① $4-3\sqrt{2}$ ② $4-4\sqrt{2}$ ③ $4-5\sqrt{2}$
- ④ $4-6\sqrt{2}$ ⑤ $4-7\sqrt{2}$ $(0, 5) \sim x-y-2=0$

(가) $-\frac{4}{3}x + \frac{8}{3} = -\frac{4}{3}(x-2)$ $\frac{1-1}{\sqrt{2}} = \frac{7}{\sqrt{2}}$

(나) $x-2 \Rightarrow \frac{3}{4}f(\frac{7}{\sqrt{2}}) - g(\frac{7}{\sqrt{2}})$

(다) $\frac{7}{\sqrt{2}} = -(\frac{7}{\sqrt{2}}-2) - (\frac{7}{\sqrt{2}}-2) = 4 - 7\sqrt{2}$

20. 최고차항의 계수가 1인 사차다항식 $f(x)$ 가 다음 조건을 만족시킬 때, $f(4)$ 의 값은? [4점]

(가) $f(x)$ 를 $x+1$ 로 나눈 나머지와 $f(x)$ 를 x^2-3 으로 나눈 나머지는 서로 같다. 나머지 일치 이하
 (나) $f(x+1)-5$ 는 x^2+x 로 나누어떨어진다.

- ① -9 ② -8 ③ -7 ④ -6 ⑤ -5

(가) $f(-1) = f(\sqrt{3}) = f(-\sqrt{3}) = b$

$f(x) = (x+1)(x-\sqrt{3})(x+\sqrt{3})(x+a)+b$
 $f(x) = (x+1)(x^2-3)(x+a)+b$

(나) $f(x+1)-5 = x(x+1)g(x)$

$x=0 \rightarrow f(1)-5=0, f(1)=5$

$x=-1 \rightarrow f(0)-5=0, f(0)=5$

$\rightarrow f(1) = 2 \cdot (-2)(1+a)+b = 5, -4a+b = 9$
 $f(0) = -3a+b = 5$

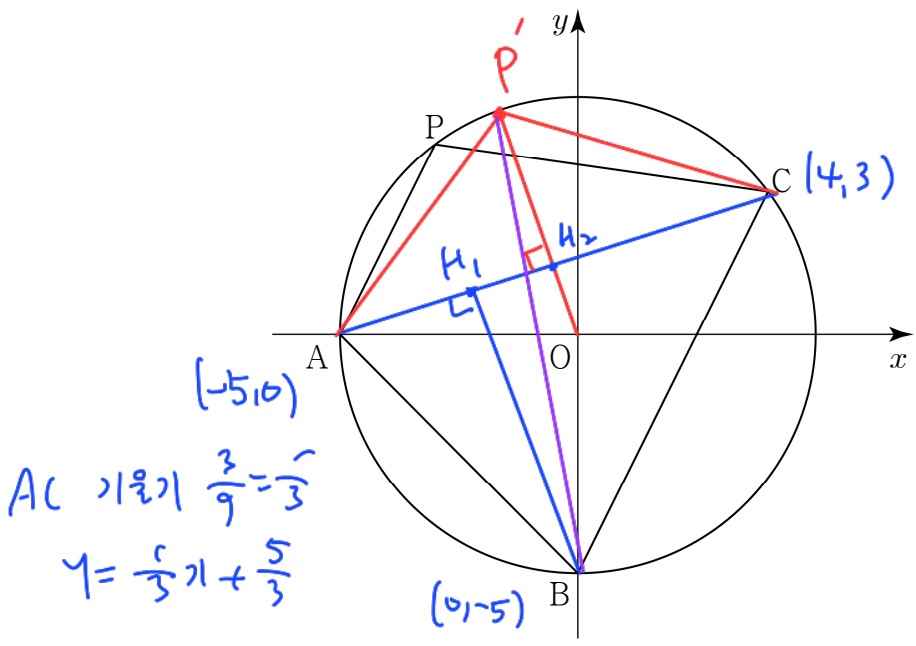
$a = -4$

$b = -7$

$f(x) = (x+1)(x^2-3)(x-4) - 7$

$f(4) = -7$

21. 그림과 같이 원 $x^2 + y^2 = 25$ 위에 세 점 $A(-5, 0)$, $B(0, -5)$, $C(4, 3)$ 이 있다. 점 B 를 포함하지 않는 호 AC 위에 점 P 가 있을 때, <보기>에서 옳은 것만을 있는 대로 고른 것은? [4점]



- <보 기>
- ㉠ 점 B 와 직선 AC 사이의 거리는 $2\sqrt{10}$ 이다.
 - ㉡ 사각형 $PABC$ 의 넓이가 최대일 때, 직선 PB 와 직선 AC 는 서로 수직이다.
 - ㉢ 사각형 $PABC$ 의 넓이의 최댓값은 $\frac{15(3 + \sqrt{10})}{2}$ 이다.

- ① ㉠ ② ㉡ ③ ㉠, ㉡
 ④ ㉠, ㉡ ⑤ ㉠, ㉡, ㉢

㉠. $x - 3y + 5 = 0 \sim (0, -5) \frac{|15 + 5|}{\sqrt{10}} = 2\sqrt{10}$

㉡. $\Delta PABL = \Delta ABL + \Delta APL$
 (일정) 최대
 ΔAPL (넓이 최대) $\Rightarrow P \Rightarrow P'$
 $OP' \perp AC$, $BP' \& AC$ 수직 X

㉢. $\Delta PABL = \Delta ABL + \Delta APL$
 $\leq \Delta ABL + \Delta AP'L$
 $\overline{AL} = 3\sqrt{10}$
 $= \frac{1}{2} \times \overline{AL} \times (BH_1 + P'H_2)$
 $= \frac{1}{2} \times 3\sqrt{10} \times (2\sqrt{10} + 5 - \frac{\sqrt{10}}{2})$
 $= \frac{3}{2}\sqrt{10} (5 + \frac{3}{2}\sqrt{10})$
 $= \frac{15}{2}\sqrt{10} + \frac{45}{2} = \frac{15(3 + \sqrt{10})}{2}$

단답형

22. x 에 대한 다항식 $x^3 - x^2 - 10x + a$ 가 $x - 1$ 로 나누어떨어질 때, 상수 a 의 값을 구하시오. [3점] 10

$x=1 \rightarrow 1 - 1 - 10 + a = 0$
 $a = 10$

23. x 에 대한 연립부등식

$$\begin{cases} x - 1 > 8 \\ 2x - 16 \leq x + a \end{cases}$$

의 해가 $b < x \leq 28$ 일 때, 두 상수 a, b 에 대하여 $a + b$ 의 값을 구하시오. [3점]

$x > 9$ 21
 $x \leq 16 + a$
 $9 < x \leq 16 + a$
 $b \qquad \qquad \qquad 28$
 $a = 12$
 $b = 9 \Rightarrow a + b = 21$

24. x 에 대한 이차방정식 $x^2 - (k+2)x + k+5 = 0$ 이 서로 다른 두 허근을 갖도록 하는 모든 정수 k 의 개수를 구하시오. [3점]

$$D = (k+2)^2 - 4(k+5) < 0$$

$$k^2 + 4 - 20 < 0$$

$$k^2 - 16 < 0$$

$$-4 < k < 4$$

정수 7개

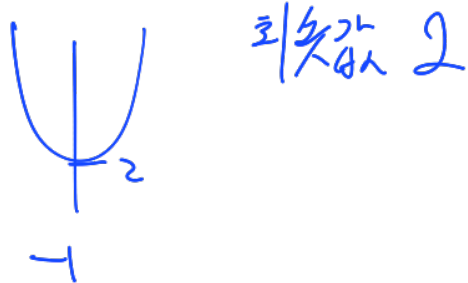
7

25. 좌표평면 위에 두 점 $A(2t, -3)$, $B(-1, 2t)$ 가 있다. 선분 AB 의 길이를 l 이라 할 때, 실수 t 에 대하여 l^2 의 최솟값을 구하시오. [3점]

$$l^2 = (2t+1)^2 + (2t+3)^2$$

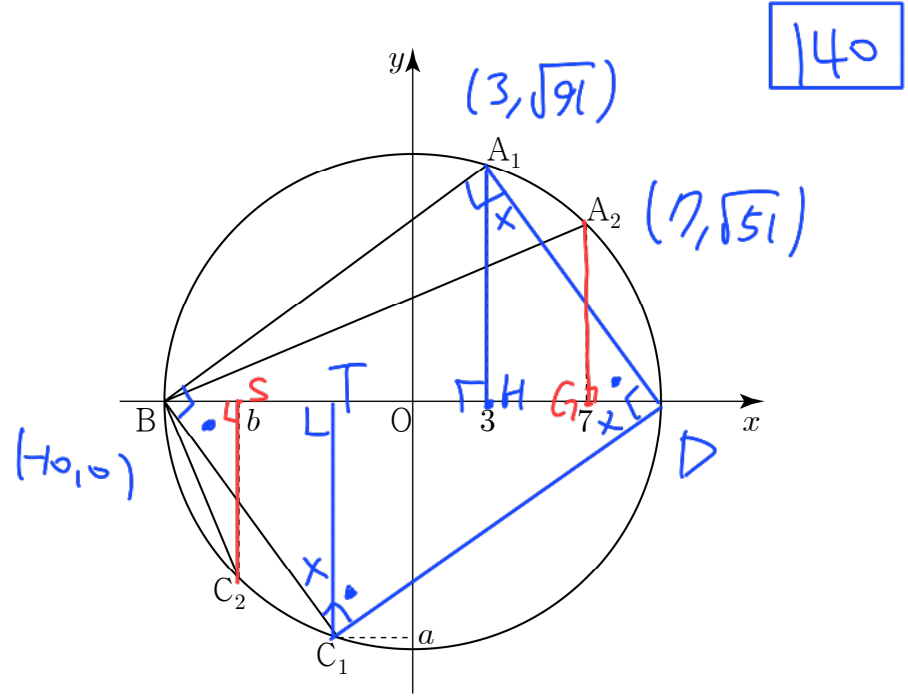
$$= 8t^2 + 16t + 10$$

$$= 8(t+1)^2 + 2$$



2

26. 그림과 같이 원 $x^2 + y^2 = 100$ 위에 x 좌표가 각각 3, 7인 두 점 A_1, A_2 가 있다. 점 $B(-10, 0)$ 을 지나고 두 직선 A_1B, A_2B 에 각각 수직인 두 직선이 원과 만나는 점 중 점 B 가 아닌 두 점을 각각 C_1, C_2 라 하자. 점 C_1 의 y 좌표를 a , 점 C_2 의 x 좌표를 b 라 할 때, $a^2 + b^2$ 의 값을 구하시오. (단, 두 점 A_1, A_2 는 제1사분면 위에 있다.) [4점]



140

$\square A_1 B C_1 D$: 직사각형

$$BC_1 = A_1 D, \triangle A_1 H D \cong \triangle C_1 T B$$

$$\therefore TC_1 = A_1 H$$

$$C_1 \text{의 } y\text{좌표} = A_1 \text{의 } y\text{좌표} \therefore a = \sqrt{91}$$

$$\triangle C_2 S B \cong \triangle A_2 G D$$

$$C_2 \text{의 } x\text{좌표} = G \text{의 } x\text{좌표} \therefore b = 7$$

$$a^2 + b^2 = 91 + 49 = 140$$

27. x 에 대한 사차방정식

$$x^4 + (2a+1)x^3 + (3a+2)x^2 + (a+2)x = 0$$

의 서로 다른 실근의 개수가 3이 되도록 하는 모든 실수 a 의 값의 곱을 구하시오. [4점]

12

$$x(x^3 + (2a+1)x^2 + (3a+2)x + (a+2)) = 0$$

$$x = -1 \rightarrow -1 + 2a + 1 - 3a - 2 + a + 2 = 0$$

$$x(x+1)(x^2 + 2ax + (a+2)) = 0$$

$\downarrow \quad \downarrow \quad \text{f(x)}$
 $0 \quad -1$

서로다른 실근 개수 3

i) $f(x)$ 가 0, -1이 아닌 경우 가정
 $\Delta/4 = a^2 - a - 2 = 0 \quad (a+1)(a-2) = 0, a = -1, 2$

$a = -1 \rightarrow x^2 - 2x + 1 = 0$ 중근 1 (바)

$a = 2 \rightarrow x^2 + 4x + 4 = 0$ 중근 -2 (바)

(ii) $f(x)$ 가 $x=0$ 과 $x=-1$ ($a \neq -1$)을 근으로 가질 때
 $x=0$ 이 근 $\Rightarrow f(0) = a+2 = 0, a = -2$
 $x^2 - 4x = 0 \quad x = 0, 4$
 \Rightarrow 세 실근 0, -1, 4 (오)

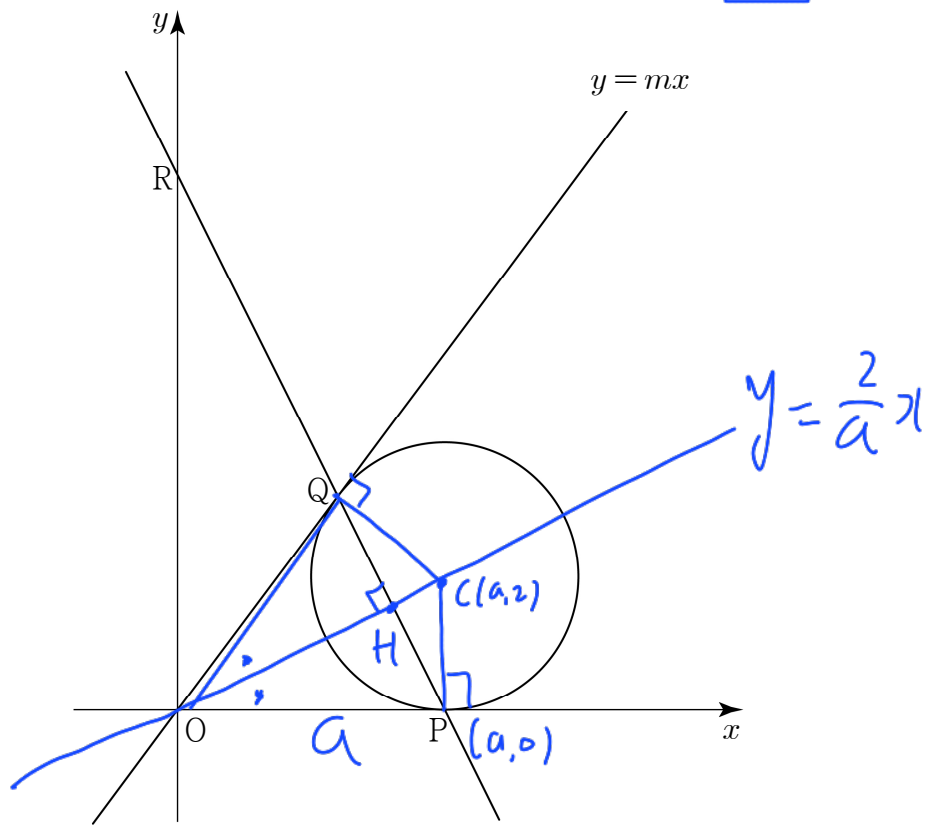
(iii) $f(x)$ 가 $x = -1$ 과 $x = \beta$ ($\beta \neq 0$)를 근으로 가질 때
 $x = -1$ 이 근 $\Rightarrow f(-1) = 1 - 2a + a + 2 = 0$
 $a = 3$
 $x^2 + 6x + 5 = 0, x = -1, -5$
 \Rightarrow 네 실근 0, -1, -5 (오)

$\therefore a = -1, 2, -2, 3$

$$(-1) \times 2 \times (-2) \times 3 = 12$$

28. 그림과 같이 x 축과 직선 $l : y = mx$ ($m > 0$)에 동시에 접하는 반지름의 길이가 2인 원이 있다. x 축과 원이 만나는 점을 P, 직선 l 과 원이 만나는 점을 Q, 두 점 P, Q를 지나는 직선이 y 축과 만나는 점을 R라 하자. 삼각형 ROP의 넓이가 16일 때, $60m$ 의 값을 구하시오. (단, 원의 중심은 제1사분면 위에 있고, O는 원점이다.) [4점]

80



$$(x-a)^2 + (y-2)^2 = 4$$

OC 직선: $y = \frac{2}{a}x$

PC 직선 기울기 $-\frac{a}{2}, y = -\frac{a}{2}(x-a)$

$$y = -\frac{a}{2}x + \frac{a^2}{2}, R(0, \frac{a^2}{2})$$

$$\Delta OPR = \frac{1}{2} \times a \times \frac{a^2}{2} = \frac{a^3}{4} = 16, a^3 = 64$$

$a = 4$

$C(4, 2) \sim y = mx$ 거리 = 반지름 2

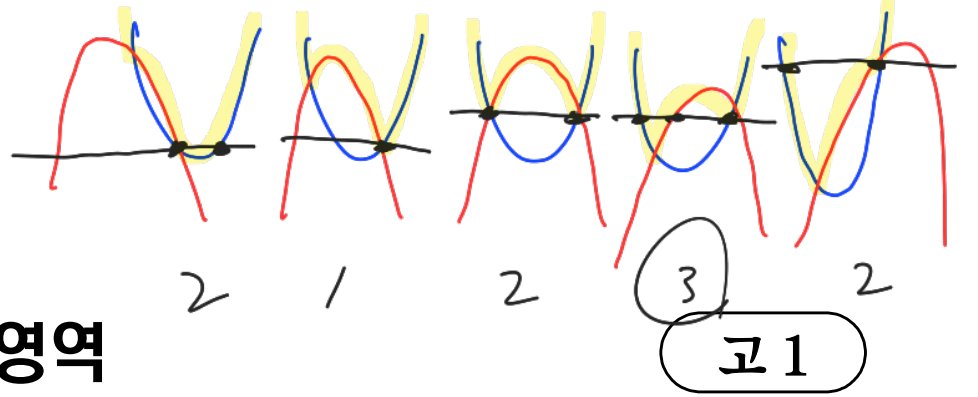
$mx - y = 0$

$$\frac{|4m - 2|}{\sqrt{m^2 + 1}} = 2, (2m - 1) = \sqrt{m^2 + 1}$$

$$4m^2 - 4m + 1 = m^2 + 1$$

$$3m^2 - 4m = 0$$

or $3m - 4 = 0, m = \frac{4}{3}, 60m = 80$



29. 두 실수 a, b 에 대하여 이차방정식 $x^2+ax+b=0$ 의 서로 다른 두 근은 α, β 이고, 이차방정식 $x^2+3ax+3b=0$ 의 서로 다른 두 근은 $\alpha+2, \beta+2$ 이다. 다음 조건을 만족시키는 자연수 n 의 최솟값을 구하시오. [4점]

6

- (가) $\alpha^n + \beta^n > 0$
- (나) $\alpha^n + \beta^n = \alpha^{n+1} + \beta^{n+1}$

$\alpha + \beta = -a$
 $\alpha\beta = b$

$(\alpha+2) + (\beta+2) = -3a \Rightarrow \alpha + \beta + 4 = -a + 4 \Rightarrow a = -2$
 $(\alpha+2)(\beta+2) = 3b \Rightarrow \alpha\beta + 2(\alpha+\beta) + 4 = b - 2a + 4 = b + 8$
 $\Rightarrow b = 4$

$x^2 - 2x + 4 = 0$ 근: α, β , $\Delta = 4 - 16 < 0$
 α, β 허근

$(\alpha+2)(\beta+2) = 0$

$x^3 + 8 = 0 \Rightarrow x = -2$ 근: α, β

$\alpha^3 = -8, \beta^3 = -8, \alpha^2 - 2\alpha + 4 = 0, \alpha^2 = 2\alpha - 4$
 $\alpha^6 = 64, \beta^6 = 64, \beta^2 - 2\beta + 4 = 0, \beta^2 = 2\beta - 4$

$\alpha + \beta = 2$

$\alpha^2 + \beta^2 = 2(\alpha + \beta) - 8 = -4$

$\alpha^3 + \beta^3 = -8 - 8 = -16$

$\alpha^4 + \beta^4 = -8(\alpha + \beta) = -16$

$\alpha^5 + \beta^5 = -8(\alpha^2 + \beta^2) = 32$

$\alpha^6 + \beta^6 = 64 + 64 = 128$

$\alpha^n + \beta^n = 64(\alpha + \beta) = 128$

최소 자연수 $n = 6$

30. 최고차항의 계수가 1인 이차함수 $y=f(x)$ 의 그래프를 원점에 대하여 대칭이동하면 이차함수 $y=g(x)$ 의 그래프와 일치한다. 방정식 $f(x)=g(x)$ 는 서로 다른 두 실근 $\alpha, \beta (\alpha < \beta)$ 를 갖고, 함수 $h(x)$ 는

$$h(x) = \begin{cases} f(x) & (x < \alpha \text{ 또는 } x > \beta) \\ g(x) & (\alpha \leq x \leq \beta) \end{cases}$$

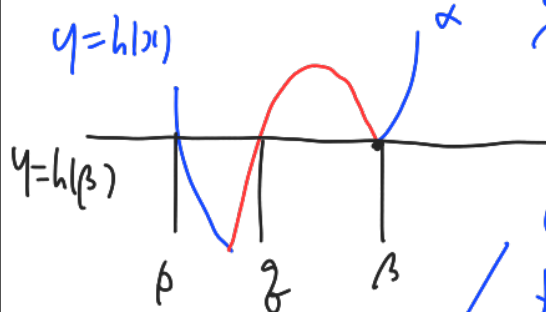
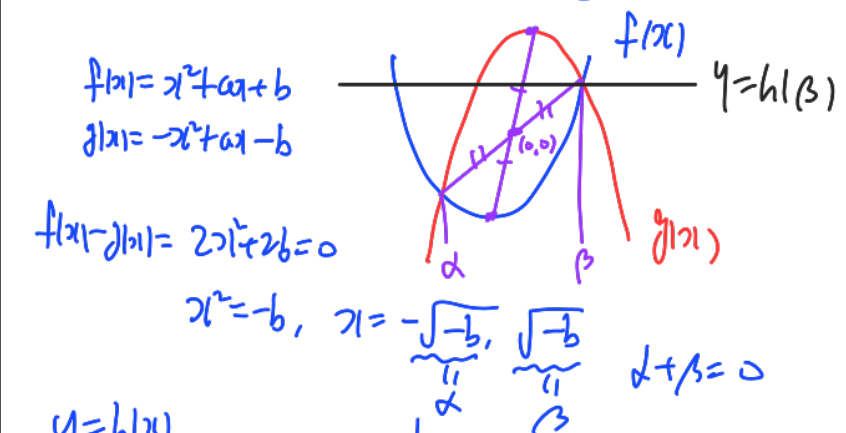
일 때, 함수 $h(x)$ 는 다음 조건을 만족시킨다.

- (가) 방정식 $h(x)=h(\beta)$ 는 서로 다른 세 실근을 갖고, 세 실근의 합은 -4 이다.
- (나) 함수 $y=h(x)$ 의 그래프 위의 점 중에서 y 좌표가 음의 정수인 점의 개수는 15이다.

$h(2)+h(5)$ 의 값을 구하시오. [4점]

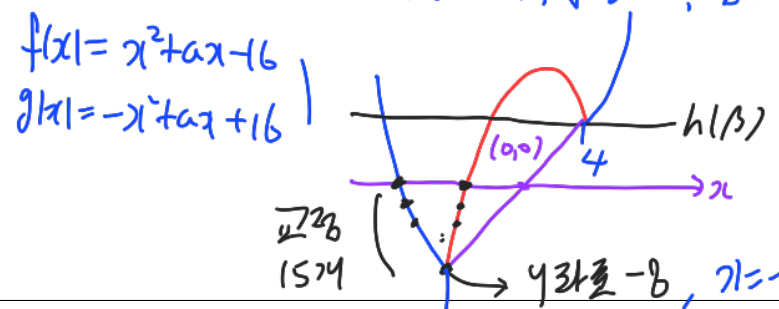
35

$y = x^2 + ax + b \xrightarrow{\text{원점대칭}} -y = x^2 - ax + b$
 $y = -x^2 + ax - b$



(가) $p + q + \beta = -4$
 $f(x) = h(\beta)$ 근: p, β
 $x^2 + ax + b - h(\beta) = 0 \Rightarrow p + \beta = -a$
 $g(x) = h(\beta)$ 근: q, β
 $-x^2 + ax - b - h(\beta) = 0 \Rightarrow q + \beta = a$

$\Rightarrow (p + \beta) + (q + \beta) = 0, \beta = 4, \sqrt{-b} = 4, b = -16, \beta = 4$
 $a = -4$



* 확인 사항

○ 답안지의 해당란에 필요한 내용을 정확히 기입(표기)했는지 확인하시오.

$a = 2$
 $f(x) = x^2 + 2x - 16$
 $g(x) = -x^2 + 2x + 16$
 $h(2) = g(2) = 16$
 $h(5) = f(5) = 19$
 $16 + 19 = 35$