

제 2 교시

수학 영역



5 지선 다형

1. $\sqrt[3]{8} \times \frac{2^{\sqrt{2}}}{2^{1+\sqrt{2}}}$ 의 값은? [2점]

- ① 1 ② 2 ③ 4 ④ 8 ⑤ 16

2×2^{-1}

2. 함수 $f(x) = 2x^3 - x^2 + 6$ 에 대하여 $f'(1)$ 의 값은? [2점]

- ① 1 ② 2 ③ 3 ④ 4 ⑤ 5

$6x^2 - 2x$

3. 등비수열 $\{a_n\}$ 이

$a_5 = 4, a_7 = 4a_6 - 16$

을 만족시킬 때, a_8 의 값은? [3점]

- ① 32 ② 34 ③ 36 ④ 38 ⑤ 40

$4r^2 = 16r - 16$

$r = 4r + 4 = 0$

$r = 2, a_8 = 4r^3 = 32$

4. 다항함수 $f(x)$ 가 모든 실수 x 에 대하여

$\int_1^x f(t) dt = x^3 - ax + 1$

을 만족시킬 때, $f(2)$ 의 값은? (단, a 는 상수이다.) [3점]

- ① 8 ② 10 ③ 12 ④ 14 ⑤ 16

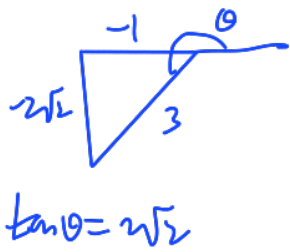
$x=1 \rightarrow 0 = 2 - a, a = 2$

$f(x) = 3x^2 - a, f(2) = (2-2) = 10$

5. $\cos(\pi+\theta) = \frac{1}{3}$ 이고 $\sin(\pi+\theta) > 0$ 일 때, $\tan\theta$ 의 값은? [3점]

- ① $-2\sqrt{2}$ ② $-\frac{\sqrt{2}}{4}$ ③ 1
- ④ $\frac{\sqrt{2}}{4}$ ⑤ $2\sqrt{2}$

$\cos\theta = \frac{1}{3}$ $-\sin\theta > 0$
 $\cos\theta = -\frac{1}{3}$ $\sin\theta < 0$ 3사분면



6. 함수

$$f(x) = \begin{cases} x^2 - ax + 1 & (x < 2) \\ -x + 1 & (x \geq 2) \end{cases}$$

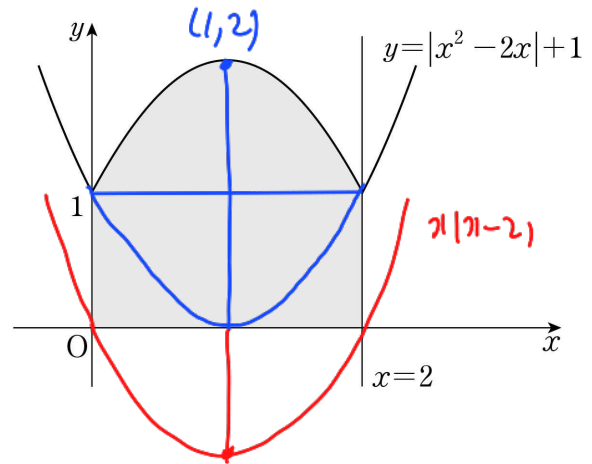
에 대하여 함수 $\{f(x)\}^2$ 이 실수 전체의 집합에서 연속이 되도록 하는 모든 상수 a 의 값의 합은? [3점]

- ① 5 ② 6 ③ 7 ④ 8 ⑤ 9

$x=2$ 연속 $\Rightarrow (5-2a)^2 = (-1)^2$
 $5-2a = 1, -1$
 $a = 2, 3$

7. 함수 $y = |x^2 - 2x| + 1$ 의 그래프와 x 축, y 축 및 직선 $x=2$ 로 둘러싸인 부분의 넓이는? [3점]

- ① $\frac{8}{3}$ ② 3 ③ $\frac{10}{3}$ ④ $\frac{11}{3}$ ⑤ 4



$2 + \frac{1}{6}(2-0)^3 = \frac{10}{3}$

8. 두 점 $A(m, m+3)$, $B(m+3, m-3)$ 에 대하여 선분 AB를 2:1로 내분하는 점이 곡선 $y = \log_4(x+8) + m - 3$ 위에 있을 때, 상수 m 의 값은? [3점]

- ① 4 ② $\frac{9}{2}$ ③ 5 ④ $\frac{11}{2}$ ⑤ 6

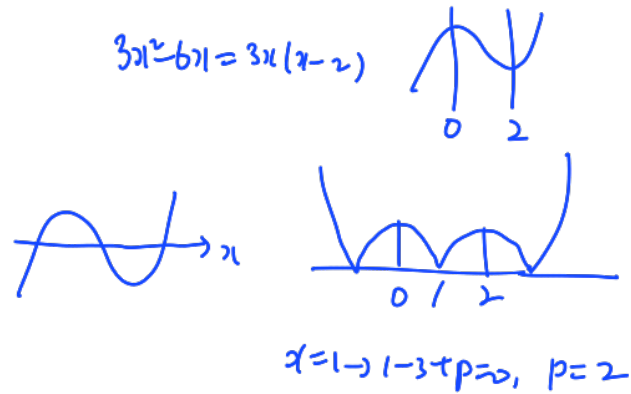
$$\left(\frac{3m+6}{3}, \frac{3m-3}{3} \right) = (m+2, m-1)$$

$$\log_4(m+10) + m - 3 = m - 1$$

$$\log_4(m+10) = 2, m+10 = 16, m = 6$$

9. 함수 $f(x) = |x^3 - 3x^2 + p|$ 는 $x = a$ 와 $x = b$ 에서 극대이다. $f(a) = f(b)$ 일 때, 실수 p 의 값은? (단, a, b 는 $a \neq b$ 인 상수이다.) [4점]

- ① $\frac{3}{2}$ ② 2 ③ $\frac{5}{2}$ ④ 3 ⑤ $\frac{7}{2}$



10. 공차가 양수인 등차수열 $\{a_n\}$ 이 다음 조건을 만족시킬 때, a_{10} 의 값은? [4점]

(가) $|a_4| + |a_6| = 8$

(나) $\sum_{k=1}^9 a_k = 27$

- ① 21 ② 23 ③ 25 ④ 27 ⑤ 29

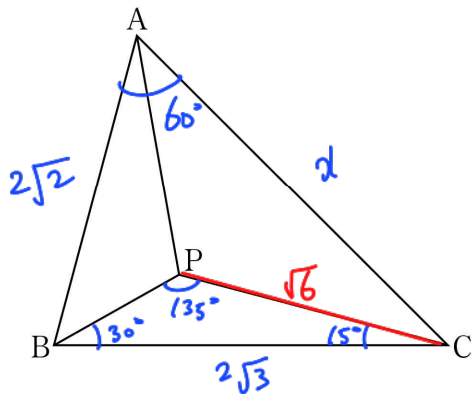
(가) $9a_5 = 27, a_5 = 3$

$a_4 \quad a_5 \quad a_6$

-1 3 1

$d=4, a_{10} = 3 + 5d = 23$

11. 그림과 같이 $\angle BAC = 60^\circ$, $\overline{AB} = 2\sqrt{2}$, $\overline{BC} = 2\sqrt{3}$ 인 삼각형 ABC가 있다. 삼각형 ABC의 내부의 점 P에 대하여 $\angle PBC = 30^\circ$, $\angle PCB = 15^\circ$ 일 때, 삼각형 APC의 넓이는? [4점]



- ① $\frac{3+\sqrt{3}}{4}$
- ② $\frac{3+2\sqrt{3}}{4}$
- ③ $\frac{3+\sqrt{3}}{2}$
- ④ $\frac{3+2\sqrt{3}}{2}$
- ⑤ $2+\sqrt{3}$

$$\frac{2\sqrt{3}}{\sin 135^\circ} = \frac{PC}{\sin 30^\circ}, PC = \sqrt{6}$$

$$\overline{AC} = x, 12 = x^2 + 8 - 2 \cdot x \cdot 2\sqrt{2} \cdot \frac{1}{2}$$

$$x^2 - 2\sqrt{2}x - 4 = 0$$

$$x = \sqrt{2} \pm \sqrt{6}, x = \sqrt{2} + \sqrt{6}$$

$$\triangle ABC, \frac{2\sqrt{3}}{\sin 60^\circ} = \frac{2\sqrt{2}}{\sin C}, \sin C = \frac{\sqrt{6}}{2\sqrt{3}} = \frac{\sqrt{2}}{2}, \angle C = 45^\circ$$

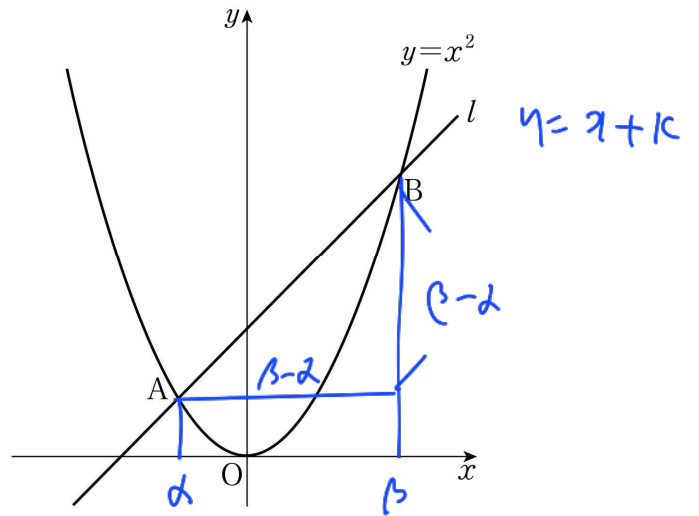
$$\angle APC = 30^\circ$$

$$\begin{aligned} \therefore \triangle APC &= \frac{1}{2} \times \sqrt{6} \times (\sqrt{2} + \sqrt{6}) \times \sin 30^\circ \\ &= \frac{2\sqrt{3} + 6}{4} = \frac{\sqrt{3} + 3}{2} \end{aligned}$$

12. 곡선 $y = x^2$ 과 기울기가 1인 직선 l 이 서로 다른 두 점 A, B에서 만난다. 양의 실수 t 에 대하여 선분 AB의 길이가 $2t$ 가 되도록 하는 직선 l 의 y 절편을 $g(t)$ 라 할 때,

$\lim_{t \rightarrow \infty} \frac{g(t)}{t^2}$ 의 값은? [4점]

- ① $\frac{1}{16}$
- ② $\frac{1}{8}$
- ③ $\frac{1}{4}$
- ④ $\frac{1}{2}$
- ⑤ 1



$$x^2 - x - k = 0$$

$$\overline{AB} = \sqrt{2}(\beta - \alpha) = \sqrt{2} \cdot \frac{\sqrt{1+4k}}{1} = 2t$$

$$2(1+4k) = 4t^2, k = \frac{2t^2 - 1}{4} = g(t)$$

$$\lim_{t \rightarrow \infty} \frac{1}{t^2} \times \frac{2t^2 - 1}{4} = \frac{1}{2}$$

13. 두 함수

$$f(x) = x^2 + ax + b, \quad g(x) = \sin x$$

가 다음 조건을 만족시킬 때, $f(2)$ 의 값은?
(단, a, b 는 상수이고, $0 \leq a \leq 2$ 이다.) [4점]

- (가) $\{g(a\pi)\}^2 = 1$
(나) $0 \leq x \leq 2\pi$ 일 때, 방정식 $f(g(x)) = 0$ 의 모든 해의 합은 $\frac{5}{2}\pi$ 이다.

- ① 3 ② $\frac{7}{2}$ ③ 4 ④ $\frac{9}{2}$ ⑤ 5

(가) $\sin a\pi = \pm 1 \quad a = \frac{1}{2} \text{ or } \frac{3}{2}$

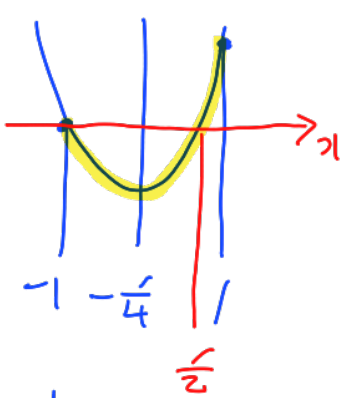
(나) $\sin t = t \quad (-1 \leq t \leq 1)$



$f(x) = 0$

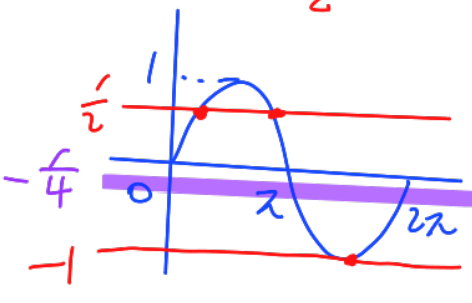
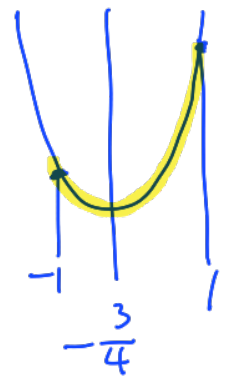
i) $a = \frac{1}{2}$

$f(x) = x^2 + \frac{1}{2}x + b$



ii) $a = \frac{3}{2}$

$f(x) = x^2 + \frac{3}{2}x + b$



$x + \frac{3}{2}x = \frac{5}{2}x$

$f(1) = 1 - \frac{1}{2} + b = 0, \quad b = -\frac{1}{2}$

$f(2) = 4 + 1 + b = \frac{9}{2}$

14. 세 양수 a, b, k 에 대하여 함수 $f(x)$ 를

$$f(x) = \begin{cases} ax & (x < k) \\ -x^2 + 4bx - 3b^2 & (x \geq k) \end{cases} \quad f'(x) = \begin{cases} a & (x < k) \\ -2x + 4b & (x > k) \end{cases}$$

라 하자. 함수 $f(x)$ 가 실수 전체의 집합에서 미분가능할 때, <보기>에서 옳은 것만을 있는 대로 고른 것은? [4점]

- < 보기 >
- ㉠ $a=1$ 이면 $f'(k)=1$ 이다.
 ㉡ $k=3$ 이면 $a=-6+4\sqrt{3}$ 이다.
 ㉢ $f(k)=f'(k)$ 이면 함수 $y=f(x)$ 의 그래프와 x 축으로 둘러싸인 부분의 넓이는 $\frac{1}{3}$ 이다.

- ① ㉠ ② ㉠, ㉡ ③ ㉠, ㉢
 ④ ㉡, ㉢ ⑤ ㉠, ㉡, ㉢

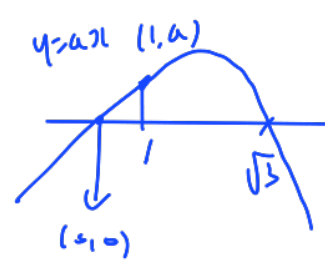
㉠. $a=1 \rightarrow x=k$ 마가 $f'(k)=a=1$

㉡. $k=3 \rightarrow \begin{cases} 3a = -9 + 12b - 3b^2 \rightarrow a = -3 + 4b - b^2 \\ a = -6 + 4b \end{cases}$
 $-6 + 4b = -3 + 4b - b^2$
 $b^2 = 3, \quad b = \sqrt{3}, \quad a = -3 + 4\sqrt{3} - 3 = -6 + 4\sqrt{3}$

㉢. $f(k) = f'(k) \rightarrow k=1$

$a = -1 + 4b - 3b^2$
 $a = -2 + 4b$
 $3b^2 = 1, \quad b = \frac{\sqrt{3}}{3}, \quad a = -2 + \frac{4}{3}\sqrt{3}$

$-x^2 + 4bx - 3b^2$
 $-(x-b)(x-3b)$



$$S = \frac{1}{2} \times 1 \times a + \int_1^{\sqrt{3}} (-x^2 + 4bx - 3b^2) dx$$

$$= \frac{1}{2} a + \left[-\frac{1}{3}x^3 + \frac{2\sqrt{3}}{3}x^2 - x \right]_1^{\sqrt{3}}$$

$$= \frac{1}{2}(-2 + \frac{4}{3}\sqrt{3}) + (-\sqrt{3} + 2\sqrt{3} - \sqrt{3}) - (-\frac{1}{3} + \frac{2\sqrt{3}}{3} - 1)$$

$$= -1 + \frac{2}{3}\sqrt{3} + \frac{4}{3} - \frac{2}{3}\sqrt{3} = \frac{1}{3}$$

15. 모든 항이 자연수인 수열 $\{a_n\}$ 이 모든 자연수 n 에 대하여

$$a_{n+2} = \begin{cases} a_{n+1} + a_n & (a_{n+1} + a_n \text{이 홀수인 경우}) \\ \frac{1}{2}(a_{n+1} + a_n) & (a_{n+1} + a_n \text{이 짝수인 경우}) \end{cases}$$

를 만족시킨다. $a_1 = 1$ 일 때, $a_6 = 34$ 가 되도록 하는 모든 a_2 의 값의 합은? [4점]

- ① 60 ② 64 ③ 68 ④ 72 ⑤ 76

$a_1 = 1$

$a_2 = 2k$ $a_2 = 2k - 1$

$a_3 = 2k + 1$ $a_3 = k$

$a_4 = 4k + 1$ $k = 2t$ $k = 2t - 1$

$a_5 = 3k + 1$ $a_3 = 2t$ $a_3 = 2t - 1$

$a_4 = 6t - 1$ $a_4 = 3t - 2$

$a_5 = 8t - 1$ $a_5 = 5t - 3$ or $\frac{5t - 3}{2}$

$a_6 = \begin{cases} 11k + 2 = 34 \\ \frac{11k + 2}{2} = 34 \end{cases}$ $a_6 = 7t - 1 = 34$ $8t - 5$ $\frac{8t - 5}{2}$ $\frac{11t - 7}{2}$ $\frac{11t - 7}{4}$

$t = 5$ 34 34 11 11

$k = 10$ (\times) (\times) (\times) 34

$a_2 = 19$ (\times) (\times) (\times) (\times)

$11t = 143$ $t = 13$ $k = 25$ $a_2 = 49$

$\therefore 19 + 49 = 68$

단 답 형

16. $\log_2 96 - \frac{1}{\log_6 2}$ 의 값을 구하시오. [3점] 4

$\log_2 \frac{96}{6} = 4$

17. 직선 $y = 4x + 5$ 가 곡선 $y = 2x^4 - 4x + k$ 에 접할 때, 상수 k 의 값을 구하시오. [3점] 11

$2t^4 - 4t + k = 4t + 5$

$8t^3 - 4 = 4$

$t^3 = 1, t = 1 \rightarrow k = 11$

18. n 이 자연수일 때, x 에 대한 이차방정식

$$x^2 - 5nx + 4n^2 = 0$$

의 두 근을 α_n, β_n 이라 하자.

$\sum_{n=1}^7 (1-\alpha_n)(1-\beta_n)$ 의 값을 구하시오. [3점] 427

$$\begin{aligned} \alpha_n + \beta_n &= 5n \\ \alpha_n \beta_n &= 4n^2 \\ (1-\alpha_n)(1-\beta_n) &= 1 - (\alpha_n + \beta_n) + \alpha_n \beta_n \\ &= 1 - 5n + 4n^2 \\ \sum_{n=1}^7 (4n^2 - 5n + 1) &= 4 \cdot \frac{7 \cdot 8 \cdot 15}{6} - 5 \cdot \frac{7 \cdot 8}{2} + 7 \\ &= 560 - 140 + 7 \\ &= 427 \end{aligned}$$

19. 시각 $t=0$ 일 때 동시에 원점을 출발하여 수직선 위를 움직이는 두 점 P, Q의 시각 $t(t \geq 0)$ 에서의 속도가 각각

$$v_1(t) = 3t^2 - 15t + k, \quad v_2(t) = -3t^2 + 9t$$

이다. 점 P와 점 Q가 출발한 후 한 번만 만날 때, 양수 k 의 값을 구하시오. [3점]

18

$$\begin{aligned} x_1(t) &= t^3 - \frac{15}{2}t^2 + kt \\ x_2(t) &= -t^3 + \frac{9}{2}t^2 \end{aligned}$$

$$2t^3 - 12t^2 + kt = 0$$

$$t(2t^2 - 12t + k) = 0$$

양이므로, 대항항 3

$$\frac{D}{4} = 36 - 2k = 0, \quad k = 18$$

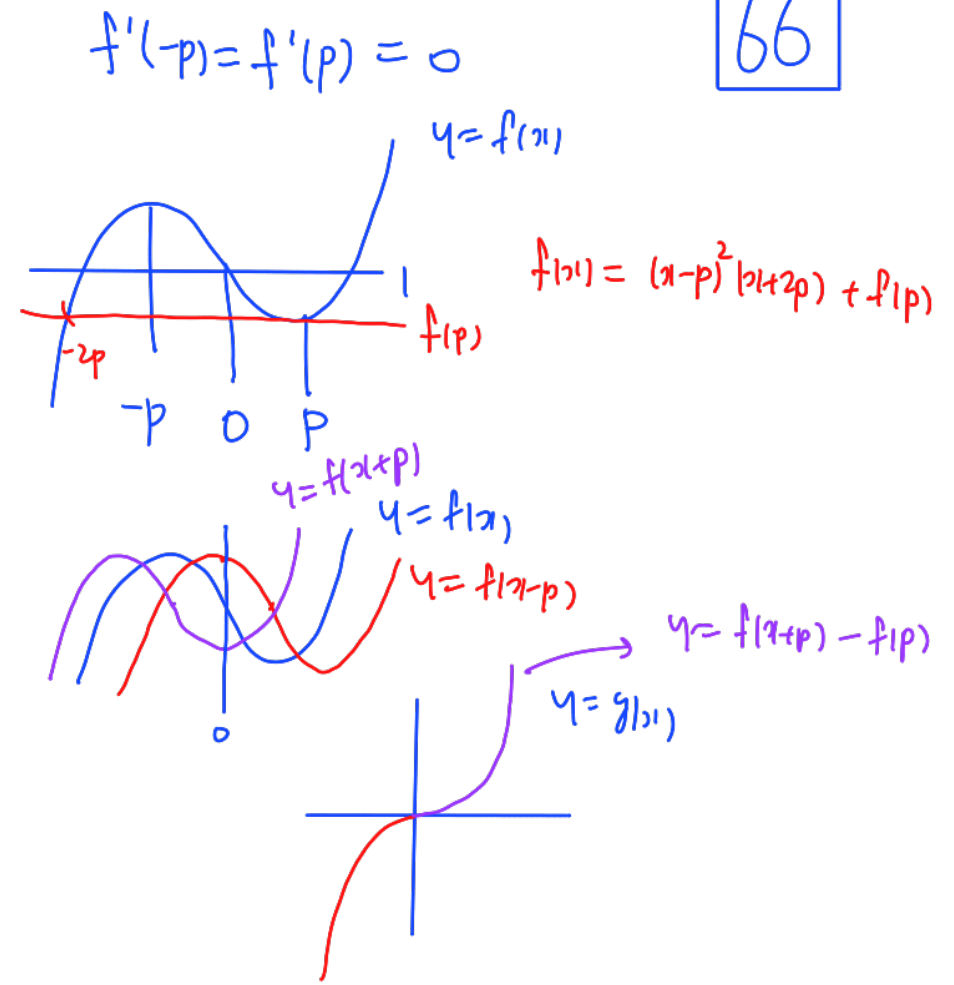
20. 최고차항의 계수가 1이고 $f(0)=1$ 인 삼차함수 $f(x)$ 와 양의 실수 p 에 대하여 함수 $g(x)$ 가 다음 조건을 만족시킨다.

(가) $g'(0) = 0$

(나) $g(x) = \begin{cases} f(x-p) - f(-p) & (x < 0) \\ f(x+p) - f(p) & (x \geq 0) \end{cases}$

$\int_0^p g(x) dx = 20$ 일 때, $f(5)$ 의 값을 구하시오. [4점]

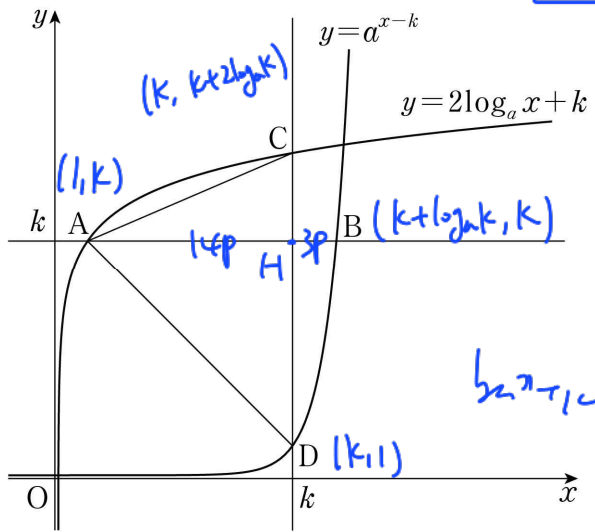
66



$$\begin{aligned} \int_0^p g(x) dx &= \int_0^p (f(x+p) - f(p)) dx \\ &= \int_0^p x^2(x+3p) dx = \left[\frac{1}{4}x^4 + px^3 \right]_0^p = \frac{5}{4}p^4 = 20 \\ p^4 &= 16, \quad p=2 \\ f(x) &= (x-2)^2(x+4) + f(2) \\ f(0) &= 16 + f(2) = 1, \quad f(2) = -15 \\ f(5) &= 9 \cdot 9 - 15 = 66 \end{aligned}$$

21. 그림과 같이 1보다 큰 두 실수 a, k 에 대하여 직선 $y=k$ 가 두 곡선 $y=2\log_a x+k, y=a^{x-k}$ 과 만나는 점을 각각 A, B라고 하고, 직선 $x=k$ 가 두 곡선 $y=2\log_a x+k, y=a^{x-k}$ 과 만나는 점을 각각 C, D라 하자. $\overline{AB} \times \overline{CD} = 85$ 이고 삼각형 CAD의 넓이가 35일 때, $a+k$ 의 값을 구하시오. [4점]

12



$$\overline{AB} \times \overline{CD} = 85$$

$$\left(\frac{1}{2} \times \overline{AB} \times \overline{CD} = 35 \Rightarrow \frac{\overline{AB}}{\overline{AH}} = \frac{17}{14} \right)$$

$$\overline{AB} : \overline{AH} = 17 : 14$$

$$(k-1) \times \frac{3}{14} = \overline{BH} = \log_a k$$

$$\overline{CD} = (k-1) + 2 \log_a k = (k-1) + \frac{3}{7}(k-1) = \frac{10}{7}(k-1)$$

$$\overline{AH} \times \overline{CD} = (k-1) \times \frac{10}{7}(k-1) = 70, (k-1)^2 = 49, k=8$$

$$1 \times \frac{3}{14} = \log_a 8, 8 = a^{\frac{3}{2}}, a=4$$

$$a+k = 4+8=12$$

22. 최고차항의 계수가 1인 사차함수 $f(x)$ 가 있다.

실수 t 에 대하여 함수 $g(x)$ 를 $g(x) = |f(x)-t|$ 라 할 때,

$\lim_{x \rightarrow k} \frac{g(x)-g(k)}{|x-k|}$ 의 값이 존재하는 서로 다른 실수 k 의 개수를 $h(t)$ 라 하자.
함수 $h(t)$ 는 다음 조건을 만족시킨다.

(가) $\lim_{t \rightarrow 4+} h(t) = 5$

(나) 함수 $h(t)$ 는 $t = -60$ 과 $t = 4$ 에서만 불연속이다.

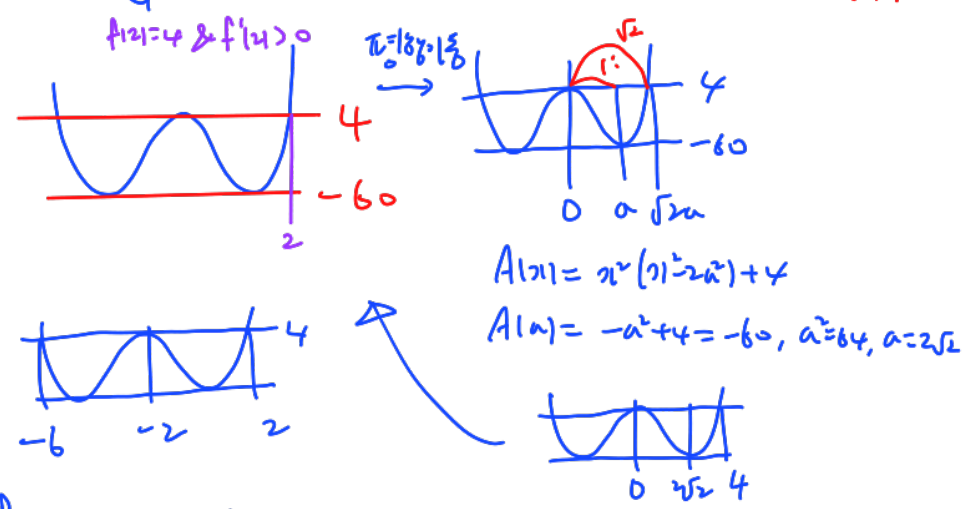
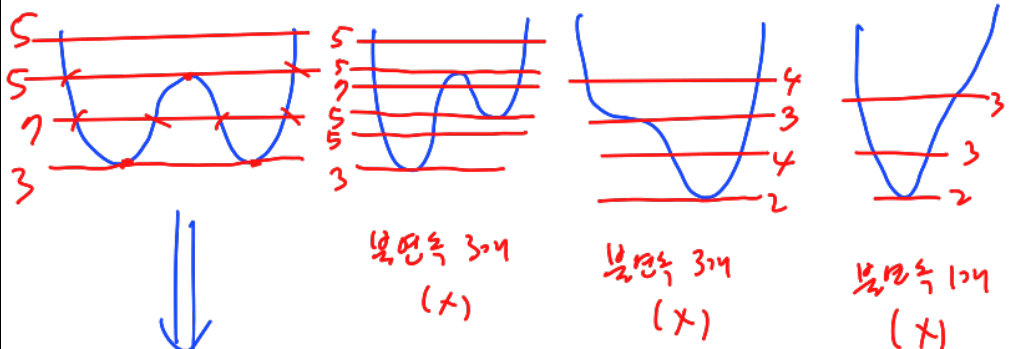
$f(2) = 4$ 이고 $f'(2) > 0$ 일 때, $f(4) + h(4)$ 의 값을 구하시오.

129

[4점]

$$\frac{0 + \frac{f(4)-g(4)}{-|4-k|}}{x-k} = \frac{f(4)-g(4)}{x-k} = L$$

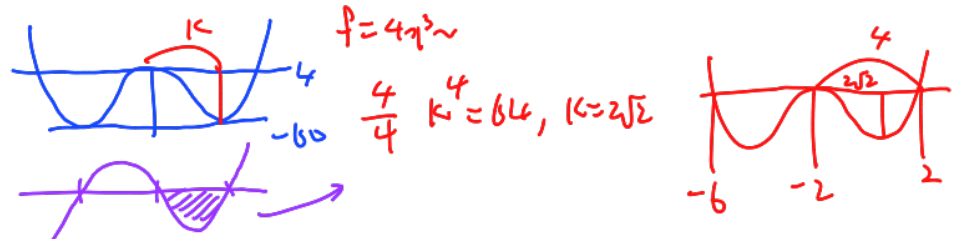
기지의 코지 리미탈계수 = 우이별계수 \rightarrow 복호반대아 $g'(k) = 0$



$$f(x) = (x+2)^2(x+6)(x-2) + 4$$

$$f(4) = 36 \cdot 10 \cdot 2 + 4 = 724$$

$$h(4) = 5$$



- * 확인 사항
- 답안지의 해당란에 필요한 내용을 정확히 기입(표기)했는지 확인하시오.
- 이어서, 「선택과목(확률과 통계)」 문제가 제시되오니, 자신이 선택한 과목인지 확인하시오.

제 2 교시

수학 영역(확률과 통계)

5 지선 다형

23. ${}_3P_2 + {}_3P_2$ 의 값은? [2점]

- ① 15
- ② 16
- ③ 17
- ④ 18
- ⑤ 19

6+9

24. 5명의 학생이 일정한 간격을 두고 원 모양의 탁자에 모두 둘러앉는 경우의 수는? (단, 회전하여 일치하는 것은 같은 것으로 본다.) [3점]

- ① 16
- ② 20
- ③ 24
- ④ 28
- ⑤ 32

25. 문자 A, A, A, B, B, B, C, C가 하나씩 적혀 있는 8장의 카드를 모두 일렬로 나열할 때, 양 끝 모두에 B가 적힌 카드가 놓이도록 나열하는 경우의 수는? (단, 같은 문자가 적혀 있는 카드끼리는 서로 구별하지 않는다.) [3점]

- ① 45 ② 50 ③ 55 ④ 60 ⑤ 65



AAABCC

$$\frac{6!}{3!2!} = 60$$

26. 서로 다른 공 6개를 남김없이 세 주머니 A, B, C에 나누어 넣을 때, 주머니 A에 넣은 공의 개수가 3이 되도록 나누어 넣는 경우의 수는? (단, 공을 넣지 않는 주머니가 있을 수 있다.) [3점]

- ① 120 ② 130 ③ 140 ④ 150 ⑤ 160

$$6C_3 \times 2^3 = 20 \times 8$$

27. 방정식 $a+b+c+3d=10$ 을 만족시키는 자연수 a, b, c, d 의 모든 순서쌍 (a, b, c, d) 의 개수는? [3점]

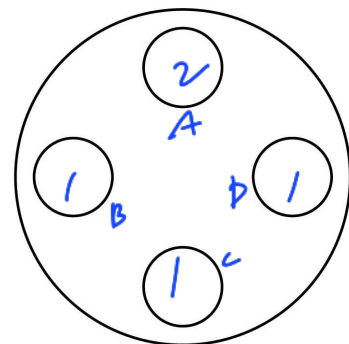
- ① 15 ② 18 ③ 21 ④ 24 ⑤ 27

$d=1 \rightarrow 3H_4 = 15$
 $d=2 \rightarrow 3H_1 = 3$

28. 원 모양의 식탁에 같은 종류의 비어 있는 4개의 접시가 일정한 간격을 두고 원형으로 놓여 있다. 이 4개의 접시에 서로 다른 종류의 빵 5개와 같은 종류의 사탕 5개를 다음 조건을 만족시키도록 남김없이 나누어 담는 경우의 수는? (단, 회전하여 일치하는 것은 같은 것으로 본다.) [4점]

(가) 각 접시에는 1개 이상의 빵을 담는다.
 (나) 각 접시에 담는 빵의 개수와 사탕의 개수의 합은 3 이하이다.

- ① 420 ② 450 ③ 480 ④ 510 ⑤ 540



빵 $\rightarrow 5C_2 = 10$

$A+B+C+D = 5$ $\begin{pmatrix} 0 \leq A \leq 1 \\ 0 \leq B, C, D \leq 2 \end{pmatrix}$

$$\begin{array}{l|ll} 0 & 2 & 2 & 1 & \rightarrow 3 \\ 1 & 2 & 2 & 0 & \rightarrow 3 \\ 1 & 2 & 1 & 1 & \rightarrow 3 \end{array} \Bigg) 9$$

$3! \times 10 \times 9 = 540$

단답형

29. 숫자 1, 2, 3 중에서 중복을 허락하여 다음 조건을 만족시키도록 여섯 개를 선택한 후, 선택한 숫자 여섯 개를 모두 일렬로 나열하는 경우의 수를 구하시오. [4점]

- (가) 숫자 1, 2, 3을 각각 한 개 이상씩 선택한다. 120
- (나) 선택한 여섯 개의 수의 합이 4의 배수이다.

$9 \leq 6\text{개 합} \leq 15$
 //
 12
 $123111 \rightarrow 9$
 $123333 \rightarrow 15$
 $321321 \rightarrow \frac{6!}{2!2!2!} = 90$
 $321222 \rightarrow \frac{6!}{4!} = 30$

) 120

30. 집합 $X = \{1, 2, 3, 4, 5\}$ 에 대하여 다음 조건을 만족시키는 함수 $f: X \rightarrow X$ 의 개수를 구하시오. [4점] 45

- (가) 집합 X 의 임의의 두 원소 x_1, x_2 에 대하여 $x_1 < x_2$ 이면 $f(x_1) \leq f(x_2)$ 이다.
- (나) $f(2) \neq 1$ 이고 $f(4) \times f(5) < 20$ 이다.

$f(2)$
 $2 \rightarrow 2 \times (4H_3 - 1) = 26$

$f(3)$	$f(4)$	$f(5)$
2,3,4	4	5
2,3,4,5	5	5

$3 \rightarrow 3 \times (3H_3 - 5) = 15$

$f(2)$	$f(3)$	$f(4)$
3	4	5
3,4,5	5	5

$4 \rightarrow 4 \times 1 = 4$

$f(3)$	$f(4)$	$f(5)$
4	4	4

$26 + 15 + 4 = 45$

* 확인 사항

- 답안지의 해당란에 필요한 내용을 정확히 기입(표기)했는지 확인하시오.
- 이어서, 「선택과목(미적분)」 문제가 제시되오니, 자신이 선택한 과목인지 확인하시오.

제 2 교시

수학 영역(미적분)

5 지선 다형

23. $\lim_{n \rightarrow \infty} \frac{(2n+1)(3n-1)}{n^2+1}$ 의 값은? [2점]

- ① 3 ② 4 ③ 5 ④ 6 ⑤ 7

24. 수열 $\{a_n\}$ 이 모든 자연수 n 에 대하여

$$3^n - 2^n < a_n < 3^n + 2^n$$

을 만족시킬 때, $\lim_{n \rightarrow \infty} \frac{a_n}{3^{n+1} + 2^n}$ 의 값은? [3점]

- ① $\frac{1}{6}$ ② $\frac{1}{3}$ ③ $\frac{1}{2}$ ④ $\frac{2}{3}$ ⑤ $\frac{5}{6}$

25. 등차수열 $\{a_n\}$ 에 대하여

$$\lim_{n \rightarrow \infty} \frac{a_{2n} - 6n}{a_n + 5} = 4$$

일 때, $a_2 - a_1$ 의 값은? [3점]

- ① -1 ② -2 ③ -3 ④ -4 ⑤ -5

$$a_n = dn \sim$$

$$\frac{2d-6}{d} = 4, \quad d = -3 = a_2 - a_1$$

26. 두 수열 $\{a_n\}, \{b_n\}$ 에 대하여

$$\lim_{n \rightarrow \infty} (n^2 + 1)a_n = 3, \quad \lim_{n \rightarrow \infty} (4n^2 + 1)(a_n + b_n) = 1$$

일 때, $\lim_{n \rightarrow \infty} (2n^2 + 1)(a_n + 2b_n)$ 의 값은? [3점]

- ① -3 ② $-\frac{7}{2}$ ③ -4 ④ $-\frac{9}{2}$ ⑤ -5

$$a_n = \frac{3}{n^2+1}, \quad a_n + b_n = \frac{1}{4n^2+1}$$

$$2a_n + 2b_n = \frac{2}{4n^2+1}, \quad a_n + 2b_n = \frac{2}{4n^2+1} - \frac{3}{n^2+1}$$

$$1 - 6 = -5$$

27. $a_1 = 3, a_2 = -4$ 인 수열 $\{a_n\}$ 과 등차수열 $\{b_n\}$ 이 모든 자연수 n 에 대하여

$$\sum_{k=1}^n \frac{a_k}{b_k} = \frac{6}{n+1}$$

을 만족시킬 때, $\lim_{n \rightarrow \infty} a_n b_n$ 의 값은? [3점]

- ① -54 ② $-\frac{75}{2}$ ③ -24 ④ $-\frac{27}{2}$ ⑤ -6

$$\frac{a_n}{b_n} = \frac{6}{n+1} - \frac{6}{n} = \frac{-6}{n(n+1)} \quad (n \geq 2)$$

$$\left. \begin{aligned} \frac{a_1}{b_1} &= 3, \quad b_1 = 1 \\ \frac{a_2}{b_2} &= -1, \quad b_2 = 4 \end{aligned} \right\} d=3$$

$$b_n = 3n - 2$$

$$a_n = \frac{-6(3n-2)}{n(n+1)}$$

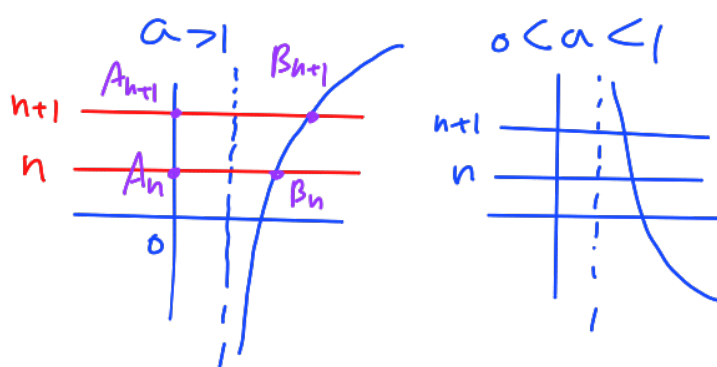
$$a_n b_n = \frac{-6(3n-2)^2}{n(n+1)} \rightarrow -54$$

28. $a > 0, a \neq 1$ 인 실수 a 와 자연수 n 에 대하여 직선 $y=n$ 이 y 축과 만나는 점을 A_n , 직선 $y=n$ 이 곡선 $y=\log_a(x-1)$ 과 만나는 점을 B_n 이라 하자. 사각형 $A_n B_n B_{n+1} A_{n+1}$ 의 넓이를 S_n 이라 할 때,

$$\lim_{n \rightarrow \infty} \frac{\overline{B_n B_{n+1}}}{S_n} = \frac{3}{2a+2}$$

을 만족시키는 모든 a 의 값의 합은? [4점]

- ① 2 ② $\frac{9}{4}$ ③ $\frac{5}{2}$ ④ $\frac{11}{4}$ ⑤ 3



$$A_n(0, n) \quad B_n(a^{n+1}, n)$$

$$A_{n+1}(0, n+1) \quad B_{n+1}(a^{n+2}, n+1)$$

$$S_n = \frac{1}{2} (a^{n+1} + a^{n+2}) = \frac{2 + (a+1)a^n}{2}$$

$$\overline{B_n B_{n+1}} = \sqrt{((a-1)a^n)^2 + 1}$$

$$\lim_{n \rightarrow \infty} \frac{\overline{B_n B_{n+1}}}{S_n} = \frac{2\sqrt{(a-1)^2 a^{2n} + 1}}{2 + (a+1)a^n}$$

$$a > 1 \rightarrow \frac{2|a-1|}{a+1} = \frac{3}{2a+2}$$

$$\begin{aligned} 4|a-1| &= 3 \\ a &= \frac{7}{4}, \frac{1}{4} \\ &\hookrightarrow 1 \times 1 \end{aligned}$$

$$0 < a < 1 \rightarrow 1 = \frac{3}{2a+2}, \quad a = \frac{1}{2}$$

$$\therefore \frac{7}{4} + \frac{1}{2} = \frac{9}{4}$$

단답형

29. 자연수 n 에 대하여 x 에 대한 부등식 $x^2 - 4nx - n < 0$ 을 만족시키는 정수 x 의 개수를 a_n 이라 하자. 두 상수 p, q 에 대하여

$$\lim_{n \rightarrow \infty} (\sqrt{na_n} - pn) = q$$

일 때, $100pq$ 의 값을 구하시오. [4점]

50

$$x^2 - 4nx + 4n^2 < n + 4n^2$$

$$(x - 2n)^2 < 4n^2 + n$$

-0. xxx

$$2n - \sqrt{4n^2 + n} < x < 2n + \sqrt{4n^2 + n}$$

$$\sqrt{4n^2} < \sqrt{4n^2 + n} < \sqrt{(2n+1)^2}$$

$$2n \leq x \leq 2n + 2n, \quad a_n = 4n + 1$$

$$\lim_{n \rightarrow \infty} (\sqrt{4n^2 + n} - pn) = q \quad (p > 0)$$

$$\lim_{n \rightarrow \infty} \frac{(4-p^2)n^2 + n}{\sqrt{4n^2 + n} + pn} = q, \quad p=2$$

$$\frac{1}{2+p} = q = \frac{1}{4}$$

$$100pq = 100 \times 2 \times \frac{1}{4} = 50$$

30. 함수

$$f(x) = \lim_{n \rightarrow \infty} \frac{x^{2n+1} - x}{x^{2n} + 1}$$

에 대하여 실수 전체의 집합에서 정의된 함수 $g(x)$ 가 다음 조건을 만족시킨다.

$2k-2 \leq |x| < 2k$ 일 때,

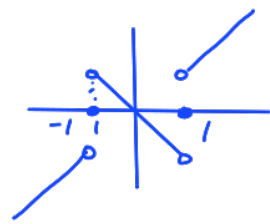
$$g(x) = (2k-1) \times f\left(\frac{x}{2k-1}\right)$$

이다. (단, k 는 자연수이다.)

$0 < t < 10$ 인 실수 t 에 대하여 직선 $y=t$ 가 함수 $y=g(x)$ 의 그래프와 만나지 않도록 하는 모든 t 의 값의 합을 구하시오.

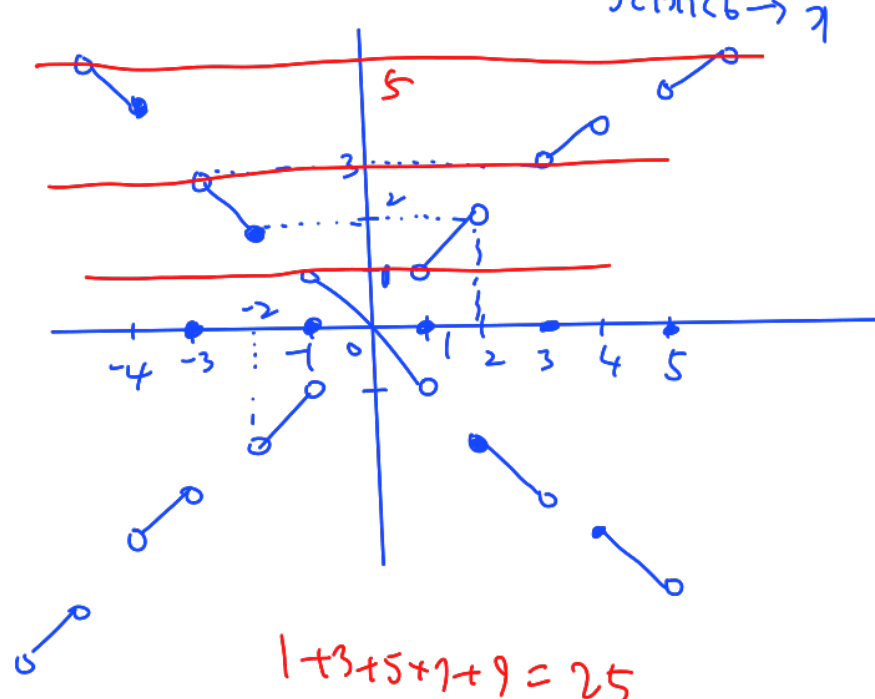
[4점]

$$f(x) = \begin{cases} |x| < 1 \rightarrow -x \\ |x| > 1 \rightarrow x \\ x=1 \rightarrow 0 \\ x=-1 \rightarrow 0 \end{cases}$$



25

$0 \leq |x| < 2 \rightarrow g(x) = f(x)$ $2 \leq |x| < 3 \rightarrow -g$
 $2 \leq |x| < 4 \rightarrow g(x) = 3 f\left(\frac{x}{3}\right)$ $\begin{cases} |x|=3 \rightarrow 0 \\ 3 < |x| < 4 \rightarrow g \end{cases}$
 $4 \leq |x| < 6 \rightarrow g(x) = 5 f\left(\frac{x}{5}\right)$ $\begin{cases} 4 \leq |x| < 5 \rightarrow -g \\ |x|=5 \rightarrow 0 \\ 5 < |x| < 6 \rightarrow g \end{cases}$
 \vdots



- * 확인 사항
- 답안지의 해당란에 필요한 내용을 정확히 기입(표기)했는지 확인하시오.
- 이어서, 「선택과목(기하)」 문제가 제시되오니, 자신이 선택한 과목인지 확인하시오.

제 2 교시

수학 영역(기하)

5 지선 다형

23. 타원 $\frac{x^2}{16} + \frac{y^2}{5} = 1$ 의 장축의 길이는? [2점]

- ① $4\sqrt{2}$
- ② $2\sqrt{10}$
- ③ $4\sqrt{3}$
- ④ $2\sqrt{14}$
- ⑤ 8

24. 포물선 $x^2 = 8y$ 의 초점과 준선 사이의 거리는? [3점]

- ① 4
- ② $\frac{9}{2}$
- ③ 5
- ④ $\frac{11}{2}$
- ⑤ 6

거는 4.2y

25. 한 초점이 F(3, 0)이고 주축의 길이가 4인 쌍곡선 $\frac{x^2}{a^2} - \frac{y^2}{b^2} = 1$ 의 점근선 중 기울기가 양수인 것을 l 이라 하자. 점 F와 직선 l 사이의 거리는? (단, a, b 는 양수이다.) [3점]
 ① $\sqrt{3}$ ② 2 ③ $\sqrt{5}$ ④ $\sqrt{6}$ ⑤ $\sqrt{7}$

$a=2$
 $c=3$
 $b=\sqrt{5}$
 $l: y = \frac{\sqrt{5}}{2}x$
 $(3, 0) \sim \sqrt{5}x - 2y = 0$
 $\frac{|3\sqrt{5}|}{\sqrt{5+4}} = \sqrt{5}$

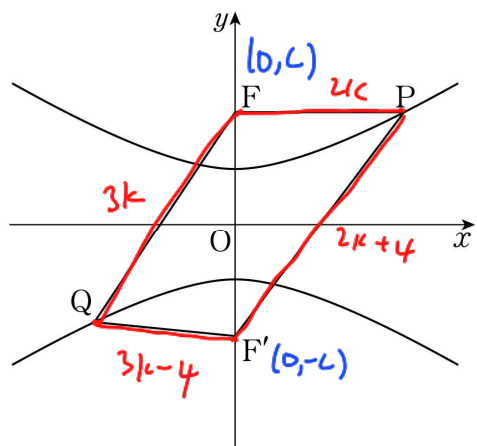
26. 포물선 $y^2 = 4x + 4y + 4$ 의 초점을 중심으로 하고 반지름의 길이가 2인 원이 포물선과 만나는 두 점을 A(a, b), B(c, d)라 할 때, $a+b+c+d$ 의 값은? [3점]
 ① 1 ② 2 ③ 3 ④ 4 ⑤ 5

$(y-2)^2 = 4(x+2)$
 $y^2 = 4x \quad (1, 0) \rightarrow (-1, 2)$
 $(x+1)^2 + (y-2)^2 = 4$
 $4(x+2) = 4 - (x+1)^2$
 $4x+8 = -x^2 - 2x + 3$
 $x^2 + 6x + 5 = 0 \quad x = -5, -1$
 $\downarrow \quad \downarrow$
 $x \quad y = 4, 0$
 $(-1, 4), (-1, 0)$

27. 그림과 같이 두 초점이 $F(0, c)$, $F'(0, -c)$ ($c > 0$)인 쌍곡선 $\frac{x^2}{12} - \frac{y^2}{4} = -1$ 이 있다. 쌍곡선 위의 제1사분면에 있는 점 P와 쌍곡선 위의 제3사분면에 있는 점 Q가

$$\overline{PF'} - \overline{QF'} = 5, \overline{PF} = \frac{2}{3}\overline{QF}$$

를 만족시킬 때, $\overline{PF} + \overline{QF}$ 의 값은? [3점]



- ① 10 ② $\frac{35}{3}$ ③ $\frac{40}{3}$ ④ 15 ⑤ $\frac{50}{3}$

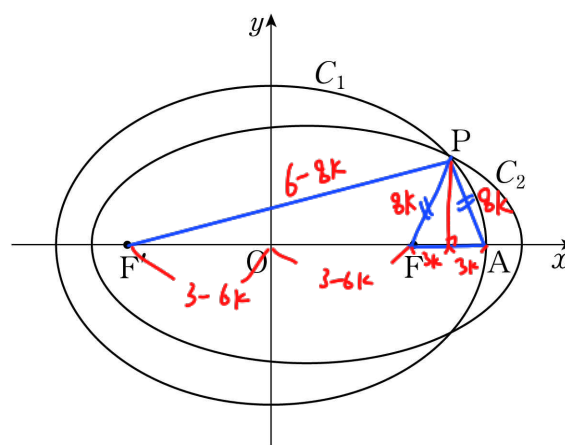
$$(2k+4) - (3k-4) = -k+8 = 5$$

$$k=3$$

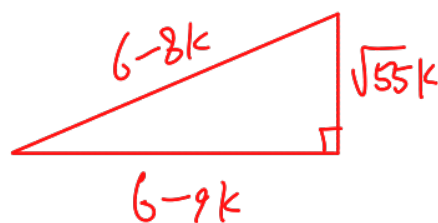
$$5k = 15$$

28. 장축의 길이가 6이고 두 초점이 $F(c, 0)$, $F'(-c, 0)$ ($c > 0$)인 타원을 C_1 이라 하자. 장축의 길이가 6이고 두 초점이 $A(3, 0)$, $F'(-c, 0)$ 인 타원을 C_2 라 하자. 두 타원 C_1 과 C_2 가 만나는 점 중 제1사분면에 있는 점 P에 대하여 $\cos(\angle AFP) = \frac{3}{8}$ 일 때, 삼각형 PFA의 둘레의 길이는? [4점]

- ① $\frac{11}{6}$ ② $\frac{11}{5}$ ③ $\frac{11}{4}$ ④ $\frac{11}{3}$ ⑤ $\frac{11}{2}$



$$\overline{PF'} + \overline{PF} = 6 = \overline{PF'} + \overline{PA} \quad \therefore \overline{PF} = \overline{PA}$$



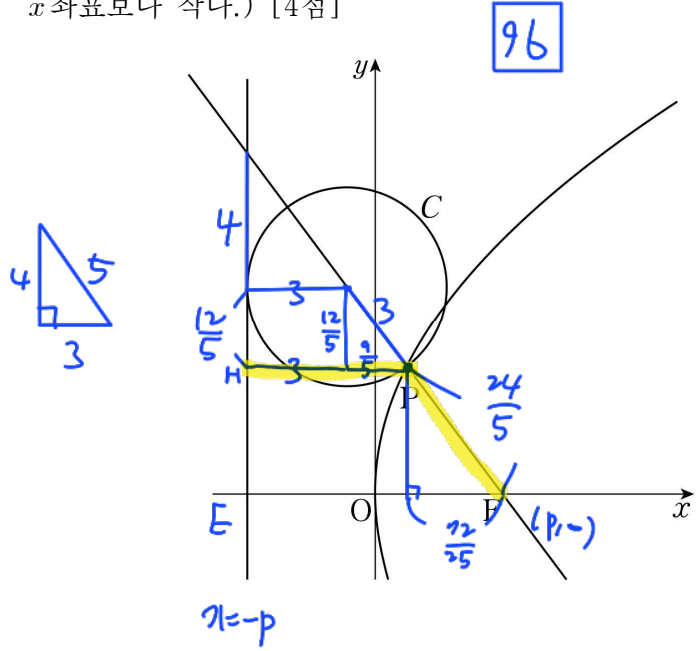
$$64k^2 + 36 - 96k = 81k^2 + 36 - 108k + 55k^2$$

$$12k^2 - 12k = 0 \quad (2k-1)(6k-1) = 0 \quad k = \frac{1}{6}$$

$$22k = \frac{11}{3}$$

단답형

29. 그림과 같이 꼭짓점이 원점 O이고 초점이 F(p, 0) (p > 0)인 포물선이 있다. 점 F를 지나고 기울기가 $-\frac{4}{3}$ 인 직선이 포물선과 만나는 점 중 제1사분면에 있는 점을 P라 하자. 직선 FP 위의 점을 중심으로 하는 원 C가 점 P를 지나고, 포물선의 준선에 접한다. 원 C의 반지름의 길이가 3일 때, 25p의 값을 구하시오. (단, 원 C의 중심의 x좌표는 점 P의 x좌표보다 작다.) [4점]



$$\overline{PH} = \frac{24}{5} = \overline{PF}$$

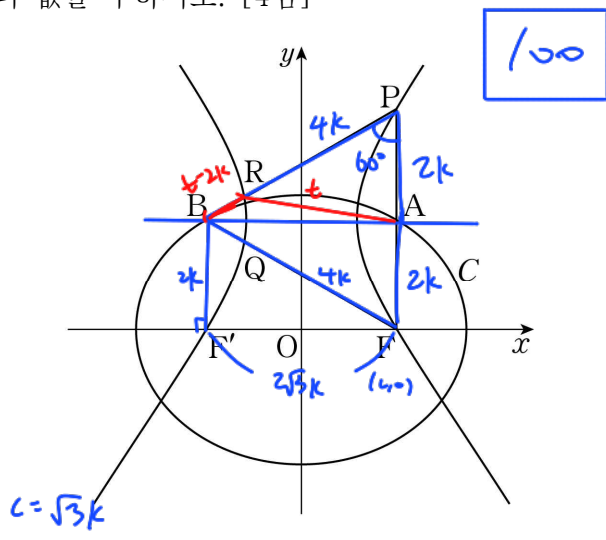
$$\overline{EF} = 2p = \frac{24}{5} + \frac{72}{25} = \frac{192}{25} = 2p, p = \frac{96}{25}$$

$$\therefore 25p = 96$$

30. 그림과 같이 두 초점이 F(c, 0), F'(-c, 0) (c > 0)인 타원 C가 있다. 타원 C가 두 직선 $x=c, x=-c$ 와 만나는 점 중 y좌표가 양수인 점을 각각 A, B라 하자. 두 초점이 A, B이고 점 F를 지나는 쌍곡선이 직선 $x=c$ 와 만나는 점 중 F가 아닌 점을 P라 하고, 이 쌍곡선이 두 직선 BF, BP와 만나는 점 중 x좌표가 음수인 점을 각각 Q, R라 하자. 세 점 P, Q, R가 다음 조건을 만족시킨다.

- (가) 삼각형 BFP는 정삼각형이다.
- (나) 타원 C의 장축의 길이와 삼각형 BQR의 둘레의 길이의 차는 3이다.

$60 \times \overline{AF}$ 의 값을 구하시오. [4점]

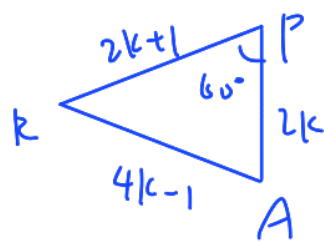


$$\overline{PB} - \overline{PA} = \overline{RA} - \overline{RB} = 2k$$

$$(나) 6k - 3(t - 2k) = 3, 2k - t + 2k = 1$$

$$t = 4k - 1, t - 2k = 2k - 1$$

$$\overline{PR} = 2kt$$



$$(4k-1)^2 = (2k+1)^2 + (2k)^2 - 2 \cdot 2k \cdot (2k+1) \cdot \frac{1}{2}$$

$$16k^2 + 1 - 8k = 9k^2 + 4k + 1 - 4k^2 - 2k$$

$$12k^2 - 10k = 0, k = \frac{5}{6}$$

$$\overline{AF} = 2k = \frac{5}{3}$$

$$60 \times \frac{5}{3} = 100$$

* 확인 사항

- 답안지의 해당란에 필요한 내용을 정확히 기입(표기)했는지 확인하시오.