

제 2 교시

수학 영역(미적분)

출수형

5지선다형

23. $\lim_{x \rightarrow 0} \frac{\ln(1+3x)}{\ln(1+5x)}$ 의 값은? [2점]

- ① $\frac{1}{5}$ ② $\frac{2}{5}$ ③ $\frac{3}{5}$ ④ $\frac{4}{5}$ ⑤ 1

$$\lim_{x \rightarrow 0} \frac{\frac{\ln(1+3x)}{3x}}{\frac{\ln(1+5x)}{5x}} = \frac{3}{5}$$

24. 매개변수 $t (t > 0)$ 으로 나타내어진 곡선

$$x = \ln(t^3 + 1), \quad y = \sin \pi t$$

에서 $t = 1$ 일 때, $\frac{dy}{dx}$ 의 값은? [3점]

- ① $-\frac{1}{3}\pi$ ② $-\frac{2}{3}\pi$ ③ $-\pi$ ④ $-\frac{4}{3}\pi$ ⑤ $-\frac{5}{3}\pi$

$$\frac{dx}{dt} = \frac{3t^2}{t^3+1}, \quad \frac{dy}{dt} = \pi \cos \pi t$$

$$\frac{dy}{dx} = \frac{\frac{dy}{dt}}{\frac{dx}{dt}} = \frac{\pi \cos \pi t (t^3+1)}{3t^2}$$

$$\left. \frac{dy}{dx} \right|_{t=1} = \frac{-2\pi}{3}$$

25. 양의 실수 전체의 집합에서 정의되고 미분가능한
 두 함수 $f(x), g(x)$ 가 있다. $g(x)$ 는 $f(x)$ 의 역함수이고,
 $g'(x)$ 는 양의 실수 전체의 집합에서 연속이다.
 모든 양수 a 에 대하여

$$\int_1^a \frac{1}{g'(f(x))f(x)} dx = 2\ln a + \ln(a+1) - \ln 2$$

이코 $f(1)=8$ 일 때, $f(2)$ 의 값은? [3점]

- ① 36 ② 40 ③ 44 ④ 48 ⑤ 52

$$g(f(x)) = x$$

$$g'(f(x)) \cdot f'(x) = 1 \implies \frac{1}{g'(f(x))} = f'(x)$$

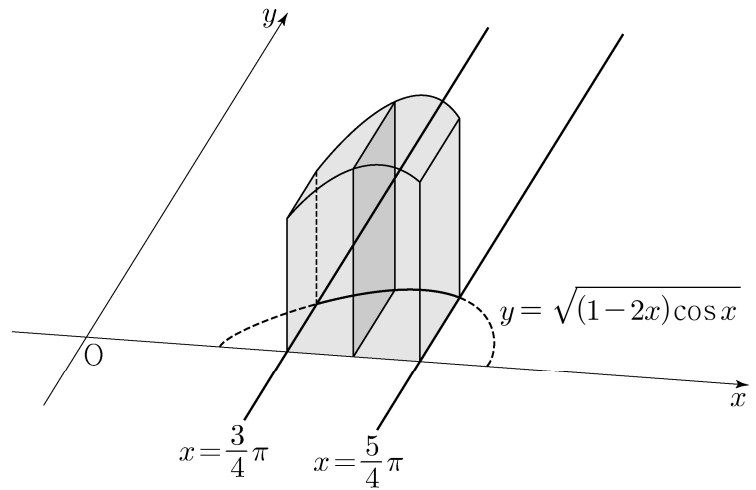
$$\therefore \int_1^a \frac{f'(x)}{f(x)} dx = \ln f(x) - \ln f(1) = \ln \frac{a^2(a+1)}{2}$$

$$\ln f(x) = \ln 4a^2(a+1)$$

$$f(x) = 4x^2(x+1), \quad f(2) = 48.$$

26. 그림과 같이 곡선 $y = \sqrt{(1-2x)\cos x}$ ($\frac{3}{4}\pi \leq x \leq \frac{5}{4}\pi$)와

x 축 및 두 직선 $x = \frac{3}{4}\pi, x = \frac{5}{4}\pi$ 로 둘러싸인 부분을 밑면으로
 하는 입체도형이 있다. 이 입체도형을 x 축에 수직인 평면으로
 자른 단면이 모두 정사각형일 때, 이 입체도형의 부피는? [3점]



- ① $\sqrt{2}\pi - \sqrt{2}$ ② $\sqrt{2}\pi - 1$ ③ $2\sqrt{2}\pi - \sqrt{2}$
 ④ $2\sqrt{2}\pi - 1$ ⑤ $2\sqrt{2}\pi$

$$\int_{\frac{3}{4}\pi}^{\frac{5}{4}\pi} (1-2x)\cos x dx$$

$$= [\sin x]_{\frac{3}{4}\pi}^{\frac{5}{4}\pi} - [2x\sin x]_{\frac{3}{4}\pi}^{\frac{5}{4}\pi} + \int_{\frac{3}{4}\pi}^{\frac{5}{4}\pi} 2\sin x dx$$

↪ $(\pi, 0)$ 정대칭.

$$= (-\frac{\sqrt{2}}{2} - \frac{\sqrt{2}}{2}) - (-\frac{5\sqrt{2}}{4}\pi - \frac{3\sqrt{2}}{4}\pi)$$

$$= 2\sqrt{2}\pi - \sqrt{2}$$

27. 실수 t 에 대하여 원점을 지나고 곡선 $y = \frac{1}{e^x} + e^t$ 에 접하는

직선의 기울기를 $f(t)$ 라 하자. $f(a) = -e\sqrt{e}$ 를 만족시키는 상수 a 에 대하여 $f'(a)$ 의 값은? [3점]

- ① $-\frac{1}{3}e\sqrt{e}$ ② $-\frac{1}{2}e\sqrt{e}$ ③ $-\frac{2}{3}e\sqrt{e}$
- ④ $-\frac{5}{6}e\sqrt{e}$ ⑤ $-e\sqrt{e}$

접점의 x 좌표를 s 라 하자.

s 는 t 에 대한 함수이다. $s = s(t)$.

$f(t) \cdot s = e^{-s} + e^t \dots (1)$ (항등식)

$f(t) = -e^{-s} \dots (2)$ (기울기)

$f(a) = -e^{-s(a)} \Rightarrow s(a) = -\frac{3}{2}$

(*)의 양변을 t 에 대해 미분하자.

$f'(t) \cdot s + f(t) \cdot \frac{ds}{dt} = -e^{-s} \cdot \frac{ds}{dt} + e^t$

(**)에 의해, $f(t) = -e^{-s}$ 이므로,

$f'(t) \cdot s = e^t \dots (3)$

$t = a$ 를 (1), (3)에 대입하자.

$f(a) \cdot s(a) = e^{-s(a)} + e^a$

$\Rightarrow -e^{\frac{3}{2}} \cdot (-\frac{3}{2}) = e^{\frac{3}{2}} + e^a \quad \therefore e^a = \frac{1}{2} \cdot e^{\frac{3}{2}}$

$f'(a) = \frac{e^a}{s(a)} = -\frac{1}{3}e^{\frac{3}{2}}$

28. 실수 전체의 집합에서 연속인 함수 $f(x)$ 가 모든 실수 x 에 대하여 $f(x) \geq 0$ 이고, $x < 0$ 일 때 $f(x) = -4xe^{4x^2}$ 이다.

모든 양수 t 에 대하여 x 에 대한 방정식 $f(x) = t$ 의 서로 다른 실근의 개수는 2이고, 이 방정식의 두 실근 중 작은 값을 $g(t)$, 큰 값을 $h(t)$ 라 하자.

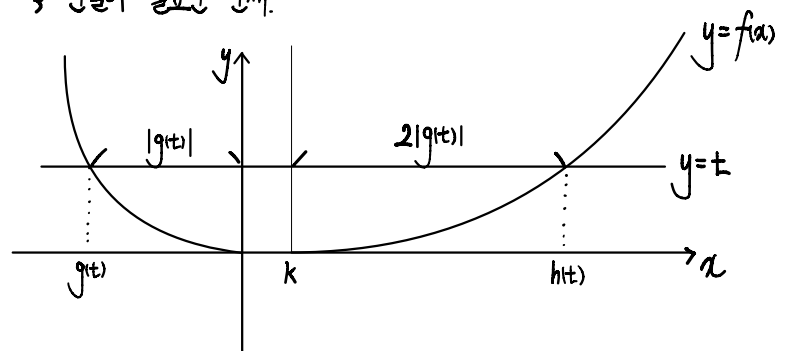
두 함수 $g(t), h(t)$ 는 모든 양수 t 에 대하여

$2g(t) + h(t) = k$ (k 는 상수)

를 만족시킨다. $\int_0^7 f(x) dx = e^4 - 1$ 일 때, $\frac{f(9)}{f(8)}$ 의 값은? [4점]

- ① $\frac{3}{2}e^5$ ② $\frac{4}{3}e^7$ ③ $\frac{5}{4}e^9$ ④ $\frac{6}{5}e^{11}$ ⑤ $\frac{7}{6}e^{13}$

※ 관찰이 필요한 문제.



if $k < 0$ 이라면, $y=f(x)$ 가 함수가 될 수 없다.

$\int_0^7 f(x) dx = \int_0^k f(x) dx + \int_k^7 f(x) dx$
 $= \int_0^{7-k} f(x+k) dx$

하지만 정확히 함수의 식을 아는 $x < 0$ 구간이므로,

이를 통해 $x \geq 0$ 구간의 식을 추론하자.

단한 구간 $[0, k]$ 에서 $f(x) = 0$ 이며,

$x > k$ 구간의 개형은 $x < 0$ 구간의 그래프를

(i) 가로로 2배 늘린 후 $f(x) \rightarrow f(\frac{x}{2})$

(ii) y축에 대해 대칭한 뒤, $f(\frac{x}{2}) \rightarrow f(-\frac{x}{2})$

(iii) x축의 양의 방향으로 k 만큼 평행이동한 것과 같다. $f(-\frac{x}{2}) \rightarrow f(-\frac{x-k}{2})$

$\therefore f(x) = \begin{cases} -4xe^{4x^2} & (x < 0) \\ 0 & (0 \leq x \leq k) \\ \frac{2(x-k) \cdot e^{(x-k)^2}}{\text{적분하기 좋음}} & (x > k) \end{cases}$

$\int_k^7 f(x) dx = [e^{(x-k)^2}]_k^7$
 $= e^{(7-k)^2} - 1 = e^4 - 1 \quad \therefore k = 5 \quad (0 \leq k \leq 7)$

$f(9) = 8e^{16}, f(8) = 6e^9$

단답형

29. 첫째항과 공비가 각각 0이 아닌 두 등비수열

$\{a_n\}, \{b_n\}$ 에 대하여 두 급수 $\sum_{n=1}^{\infty} a_n, \sum_{n=1}^{\infty} b_n$ 이 각각 수렴하고

$$\sum_{n=1}^{\infty} a_n b_n = \left(\sum_{n=1}^{\infty} a_n \right) \times \left(\sum_{n=1}^{\infty} b_n \right),$$

$$3 \times \sum_{n=1}^{\infty} |a_{2n}| = 7 \times \sum_{n=1}^{\infty} |a_{3n}|$$

이 성립한다. $\sum_{n=1}^{\infty} \frac{b_{2n-1} + b_{3n+1}}{b_n} = S$ 일 때, $120S$ 의 값을 구하시오. [4점]

$a_1 = b_1 = 1$ 으로 두어도 문제 없다.

$\therefore a_n = r_a^{n-1}, b_n = r_b^{n-1}$ 이라 하자.

두번째 식을 계산하면,

$$\frac{3 \cdot |a_2|}{1 - |r_a|^2} = \frac{7 \cdot |a_3|}{1 - |r_a|^3}$$

$$7|r_a| + 7|r_a|^2 = 3 + 3|r_a| + 3|r_a|^2 \Rightarrow |r_a| = \frac{1}{2}$$

$\therefore r_a = \frac{1}{2}, \sum_{n=1}^{\infty} a_n = 1$ 이므로,

$$\frac{1}{1 - r_a r_b} = \frac{1}{1 - r_b} \quad r_b = 0. \text{ 옳지.}$$

$$\therefore r_a = -\frac{1}{2}$$

$$\frac{1}{1 + \frac{r_b}{2}} = \frac{2}{3} \times \frac{1}{1 - r_b} \Rightarrow r_b = \frac{1}{4}$$

$$\begin{aligned} \sum_{n=1}^{\infty} \frac{\left(\frac{1}{4}\right)^{2n-2} + \left(\frac{1}{4}\right)^{3n}}{\left(\frac{1}{4}\right)^{n-1}} &= \sum_{n=1}^{\infty} \left(\frac{1}{4}\right)^{n-1} + \sum_{n=1}^{\infty} \left(\frac{1}{4}\right)^{2n+1} \\ &= \frac{1}{1 - \frac{1}{4}} + \frac{\frac{1}{64}}{1 - \frac{1}{16}} \\ &= \frac{4}{3} + \frac{1}{60} = S \end{aligned}$$

$\therefore 120S = 162.$

30. 실수 전체의 집합에서 미분가능한 함수 $f(x)$ 의 도함수 $f'(x)$ 가

$$f'(x) = |\sin x| \cos x$$

이다. 양수 a 에 대하여 곡선 $y=f(x)$ 위의 점 $(a, f(a))$ 에서의 접선의 방정식을 $y=g(x)$ 라 하자. 함수

$$h(x) = \int_0^x \{f(t) - g(t)\} dt$$

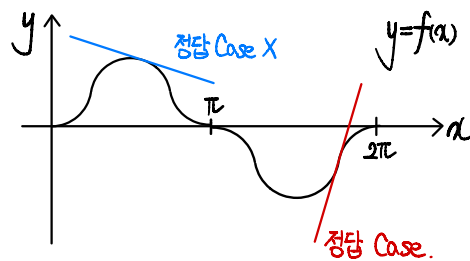
가 $x=a$ 에서 극대 또는 극소가 되도록 하는 모든 양수 a 를 작은 수부터 크기순으로 나열할 때, n 번째 수를 a_n 이라 하자.

$\frac{100}{\pi} \times (a_6 - a_2)$ 의 값을 구하시오. [4점]

$\sin \alpha \cos \alpha = \frac{1}{2} \sin 2\alpha$ 이므로,

$$f(\alpha) = \begin{cases} -\frac{1}{4} \cos 2\alpha + \alpha & (2m\pi \leq \alpha \leq (2m+1)\pi) \\ \frac{1}{4} \cos 2\alpha + \beta & ((2m+1)\pi \leq \alpha \leq 2(m+1)\pi) \end{cases}$$

WLOG, $f(0)=0$ 이라 하자.



$$h(\alpha) = f(\alpha) - g(\alpha)$$

조건상 $f(\alpha) = g(\alpha)$ 이므로,

$\alpha = a$ 근처에서 $h(\alpha)$ 의 부호 변화가 있는지 살펴.

\therefore 점담 Case : a 가 $y=f(\alpha)$ 의 변곡점일 때.

$$a_1 = \frac{\pi}{4}, a_2 = \frac{3}{4}\pi, a_3 = \pi \text{ 이며}$$

$$a_{n+3} = a_n + \pi \text{ (By 주기성)}$$

$$\therefore a_6 = 2\pi$$

$$\frac{100}{\pi} \times \left(2\pi - \frac{3}{4}\pi\right) = 125.$$