


수학 영역(A형) 해설지

Epsilon



정답 및 해설

1) [정답] ② (출제자 : 13김찬호)

[출제의도] 지수계산을 할 수 있는가?

[해설]

$$3^2 \times 9^{-\frac{1}{2}} = 3^2 \times (3^2)^{-\frac{1}{2}} = 3^2 \times 3^{-1} = 3$$

2) [정답] ④ (출제자 : 13김찬호)

[출제의도] 행렬을 계산할 수 있는가?

[해설]

$$AB = \begin{pmatrix} a & 2 \\ 3 & 5 \end{pmatrix} \begin{pmatrix} 1 & -1 \\ 3 & 2 \end{pmatrix} = \begin{pmatrix} a+6 & -a+4 \\ 18 & 7 \end{pmatrix}, (1, 1) \text{ 성분이 } 10 \text{ 이므로}$$

$$a+6=10$$

$$a=4$$

3) [정답] ⑤ (출제자 : 13김찬호)

[출제의도] 수열의 극한 계산을 할 수 있는가?

[해설]

$$\lim_{n \rightarrow \infty} \frac{5n^3 + 3}{n^3 + 2n} = \lim_{n \rightarrow \infty} \frac{n^3 \left(5 + \frac{3}{n^3} \right)}{n^3 \left(1 + \frac{2}{n^2} \right)} = \lim_{n \rightarrow \infty} \frac{5 + \frac{3}{n^3}}{1 + \frac{2}{n^2}}$$

이 되고, $\lim_{n \rightarrow \infty} \frac{3}{n^3} = 0$ 이고, $\lim_{x \rightarrow \infty} \frac{2}{n^2} = 0$ 이므로,

$$\lim_{n \rightarrow \infty} \frac{5 + \frac{3}{n^3}}{1 + \frac{2}{n^2}} = 5$$

4) [정답] ⑤ (출제자 : 15최봉규)

[출제의도] 그래프를 나타내는 행렬을 구할 수 있는가?

[해설]

그래프를 나타내는 행렬은 1 또는 0의 값을 갖는다.

이때, 1의 개수는 변의 개수의 두 배이므로 1의 개수는

$2 \times 7 = 14$, 따라서 답은 ⑤이다.

5) [정답] ① (출제자 : 15최봉규)

[출제의도] 등비수열의 일반항을 구하여 문제를 해결할 수 있는가?

[해설]

등비수열 $\{a_n\}$ 의 공비를 r 라 하면

$$a_3 \div a_1 = r^2 = 9, r = 3 (\because r > 0)$$

$$a_4 = a_3 \times r = 18 \times 3 = 54$$

$$\therefore 54$$

6) [정답] ③ (출제자 : 14고정민)

[출제의도] 정적분을 계산할 수 있는가?

개념 알기

모든 실수 x 에 대하여

$f(-x) = f(x)$ 를 만족하는 함수 $f(x)$ 를 '우함수'

$f(-x) = -f(x)$ 를 만족하는 함수 $f(x)$ 를 '기함수'

라고 한다.

우함수 $f(x)$ 에 대해 $\int_{-a}^a f(x)dx = 2 \int_0^a f(x)dx$ 가 성립한다.

기함수 $f(x)$ 에 대해 $\int_{-a}^a f(x)dx = 0$ 이 성립한다.

(그래프를 그려보면 쉽게 확인할 수 있다.)

[해설]

x 는 기함수이므로 $\int_{-1}^1 x dx = 0$ 이고, x^2 은 우함수이므로

$$\int_{-1}^1 x^2 dx = 2 \int_0^1 x^2 dx \text{ 이다.}$$

$$\text{따라서 } \int_{-1}^1 (ax^2 + 2x)dx = \int_{-1}^1 ax^2 dx$$

$$= 2 \int_0^1 ax^2 dx$$

$$= 2 \left[\frac{1}{3} ax^3 dx \right]_0^1$$

$$= \frac{2}{3} a$$

$$= 2$$

$a = 3$ 이다.

수학 영역(A형)

7) [정답] ⑤ (출제자 : 15유정훈)

[출제의도] 함수의 그래프를 통해 극한값을 구할 수 있는가?

[해설]

$\lim_{x \rightarrow -1-0} f(x)$ 의 값을 구하기 위해 함수에서 x 는 -1 에서의 좌극한을 구해보면, 그 값이 2임을 알 수 있다.

$\lim_{x \rightarrow 1+0} f(x)$ 의 값을 구하기 위해, 함수에서 x 는 1 에서의 우극한을 구해보면, 그 값이 3인 것을 알 수 있다.

따라서 $\lim_{x \rightarrow -1-0} f(x) + \lim_{x \rightarrow 1+0} f(x)$ 의 값은 5이다.

8) [정답] ③ (출제자 : 13오현주)

[출제의도] 이항정리를 이해하고 문제에 적용하여 해결할 수 있는가?

[해설]

$(a+b)^n = \sum_{r=0}^n {}_n C_r a^r b^{n-r}$ 의 관계식을 이항정리라 하고,

이때, 일반항은 ${}_n C_r a^r b^{n-r}$ 이 되고, ${}_n C_r$ 가 일반항의 이항계수이다.

주어진 다항식 $(ax+1)^5$ 의 일반항은 ${}_5 C_r (ax)^r$ 이고

따라서 일반항의 이항계수는 ${}_5 C_r a^r$ 이다.

x^2 의 계수가 ${}_5 C_2 a^2 = 90$ 이므로 $a^2 = 9$ 이고, 양수 a 의 값은 3이다.

9) [정답] ① (출제자 : 15유정훈)

[출제의도] 역행렬을 통해 연립방정식의 해를 구할 수 있는가?

[해설]

$\begin{pmatrix} 2a & a+3 \\ 2 & 1 \end{pmatrix} \begin{pmatrix} x \\ y \end{pmatrix} = \begin{pmatrix} 12 \\ 6 \end{pmatrix}$ 에서

$\begin{pmatrix} x \\ y \end{pmatrix} = \begin{pmatrix} 2a & a+3 \\ 2 & 1 \end{pmatrix}^{-1} \begin{pmatrix} 12 \\ 6 \end{pmatrix} = -\frac{1}{6} \begin{pmatrix} 1 & -a-3 \\ -2 & 2a \end{pmatrix} \begin{pmatrix} 12 \\ 6 \end{pmatrix} = \begin{pmatrix} a+1 \\ 4-2a \end{pmatrix}$

$x=0$ 을 만족하므로 $a=-1$ 임을 알 수 있다.

b 의 값은 $a=-1$ 일 때, 6이다.

$\therefore ab = -6$

[별해]

$\begin{pmatrix} 2a & a+3 \\ 2 & 1 \end{pmatrix} \begin{pmatrix} x \\ y \end{pmatrix} = \begin{pmatrix} 12 \\ 6 \end{pmatrix}$ 에서 $x=0, y=b$ 를 만족하므로,

$\begin{pmatrix} 2a & a+3 \\ 2 & 1 \end{pmatrix} \begin{pmatrix} 0 \\ b \end{pmatrix} = \begin{pmatrix} 12 \\ 6 \end{pmatrix}$ 이 식을 전개하면, $b(a+3)=12, b=6$ 이다.

$6(a+3)=12$ 식을 풀면 $a=-1$ 이 나온다. 따라서 $ab=-6$

10) [정답] ③ (출제자 : 11양종현)

[출제의도] 로그의 실생활활용 문제에서 주어진 내용을 잘 적용할 수 있는가?

[해설]

혼합용액 A에 관한 식은 $\log \lambda_A = \frac{\mu_A - \frac{1}{2}}{200k} \dots \textcircled{1}$

혼합용액 B에 관한 식은 $\log \lambda_B = \frac{\mu_B - \frac{3}{4}}{300k} \dots \textcircled{2}$

식 ①에서 식 ②를 빼면

$$\begin{aligned} \log \frac{\lambda_A}{\lambda_B} &= \left(\frac{\mu_A}{200k} - \frac{\mu_B}{300k} \right) - \left(\frac{1}{400k} - \frac{1}{400k} \right) \\ &= \frac{2}{3} \frac{\mu_B}{200k} - \frac{\mu_B}{300k} \quad (\because \mu_A = \frac{2}{3} \mu_B) \\ &= 0 \end{aligned}$$

따라서 $\log \frac{\lambda_A}{\lambda_B} = 0$ 이므로 $\frac{\lambda_A}{\lambda_B} = 1$ 이다.

11) [정답] ① (출제자 : 14임현우)

[출제의도] 1. 무한등비급수를 계산할 줄 아는가?

2. 무한급수의 성질(시그마의 성질)을 잘 아는가?

($\sum_{n=1}^{\infty} a_n b_n$ 와 $\sum_{n=1}^{\infty} a_n \times \sum_{n=1}^{\infty} b_n$ 이 다르다는 것을 명심하자!

- 특히 답을 $9 \times 15 = 135$ 로 계산한 친구들!

[해설]

$\{a_n\}$ 의 첫째항을 a , $\{b_n\}$ 의 첫째항을 b 라 두면

$$\frac{a}{1 - \frac{2}{3}} = 9, \quad \frac{b}{1 - \frac{2}{3}} = 15$$

$a=3, b=5$

수열 $\{a_n b_n\}$ 은 등비수열끼리 곱했기 때문에 역시 등비수열이다.

첫째항은 $a_1 b_1 = ab$ 이고, 공비는 $\frac{2}{3} \times \frac{2}{3} = \frac{4}{9}$ 이다.

따라서 $\sum_{n=1}^{\infty} a_n b_n$ 을 계산하면,

$$\frac{ab}{1 - r^2} = \frac{15}{1 - \frac{4}{9}} = \frac{15 \times 9}{5} = 27$$

12) [정답] ② (출제자 : 14서재현)

[출제의도] 정규분포의 정의를 알고 활용할 수 있는가?

[해설]

자판기의 하루 콜라 판매량을 확률변수 X 라 하면

X 는 $N(56, 4)$ 인 정규분포를 따른다. 자판기에서 콜라 한 캔의 판매가격이 700원이므로, 하루 동안 콜라를 판매하여 얻은 금액이 42000원 이상이 되기 위해서는 하루에 콜라를 60개 이상 판매해야 한다. 즉 하루에 콜라 판매량이 60개 이상일 확률을 구하면 된다.

$P(X \geq 60)$ 을 표준화하면

$$P\left(\frac{X-56}{4} \geq \frac{60-56}{4}\right) = P(Z \geq 1) = 0.1587$$

따라서 정답은 ②번이다.

수학 영역(A형)

13) [정답] ④ (출제자 : 15최봉규)

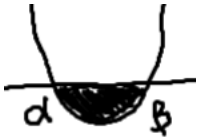
[출제의도] 다항함수의 정적분을 이용하여 넓이를 구할 수 있는가?

[해설]

두 그래프의 교점의 x 좌표는 $-x^2 + 5x = -x + 8$ 의 실근이다.
 다음 방정식을 풀면 $x = 2, 4$ 이므로 두 그래프는 $x = 2, x = 4$ 에서 만난다.

$$\begin{aligned}
 f(x) - g(x) &= -x^2 + 6x - 8 \text{ 이므로} \\
 \int_2^4 f(x) - g(x) dx &= \int_2^4 -x^2 + 6x - 8 dx \\
 &= \left[-\frac{1}{3}x^3 + 3x^2 - 8x \right]_2^4 \\
 &= -\frac{1}{3}(4^3 - 2^3) + 3(4^2 - 2^2) - 8(4 - 2) \\
 &= \frac{-56 + 108 - 48}{3} = \frac{4}{3} \quad \therefore \frac{4}{3}
 \end{aligned}$$

[별해]



$y = ax^2 + bx + c$ 의 그래프가 위와 같으면
 색칠한 부분의 넓이가 $\frac{|a|}{6}(\beta - \alpha)^3$ 이다.
 따라서 답은 $\frac{|-1|}{6}(4 - 2)^3 = \frac{8}{6} = \frac{4}{3}$ 이다.

14) [정답] ② (출제자 : 15최봉규)

[출제의도] 등차수열과 내분점을 이용하여 문제를 해결할 수 있는가?

[해설]

$\overline{PA} = l_1, \overline{AB} = l_2$ 이라 하면 $\overline{PB} = l_1 + l_2$
 $\overline{PA}, \overline{AB}, \overline{PB}$ 가 차례대로 등차수열을 이루므로
 등차중항을 이용하면 $\overline{PA} + \overline{PB} = 2\overline{AB}$
 $l_1 + (l_1 + l_2) = 2l_2, l_2 = 2l_1$, 따라서 $l_1 : l_2 = 1 : 2$
 두 점 A, B에서 x 축에 수선의 발을 내린 점을 각각 A', B' 라고 하면
 $\overline{PA} : \overline{AB} = \overline{OA'} : \overline{AB'} = 1 : 2$
 점 A의 x 좌표를 a 라고 하면 $\overline{A'B'} = 2a$ 이므로
 점 B의 x 좌표는 $3a$ 이다.
 $-x^2 + 5x = -x + k$
 이를 정리하면 $x^2 - 6x + k = 0$
 근과 계수의 관계를 이용하면 $a + 3a = 6, a = \frac{3}{2}$
 다시 근과 계수의 관계를 이용하면 $k = 3a^2 = 3 \times \frac{9}{4} = \frac{27}{4}$
 $\therefore 4k = 27$

15) [정답] ① (출제자 : 15정다혜)

[출제의도] 지수부등식을 치환을 이용해서 해결할 수 있는가?

[해설]

$4^x + a \cdot 2^x + b < 0$ 에서 $2^x = t$ 로 놓으면
 $t^2 + at + b < 0 \quad \dots\dots \textcircled{A}$
 이 때, $-1 < x < 0$ 에서 $\frac{1}{2} < 2^x = t < 1$ 이므로
 $\left(t - \frac{1}{2}\right)(t - 1) = t^2 - \frac{3}{2}t + \frac{1}{2} < 0 \quad \dots\dots \textcircled{B}$
 $\textcircled{A}, \textcircled{B}$ 에서 $a = -\frac{3}{2}, b = \frac{1}{2}$ 이다.
 따라서 $a + b = -\frac{3}{2} + \frac{1}{2} = -1$ 이다.

16) [정답] ⑤ (출제자 : 15이민욱)

[출제의도] 1. 확률 계산을 잘 할 수 있는가?
 2. 사건의 독립의 정의를 알고 있는가?

[해설]

$P(A \cup B^C) = P(A) + P(B^C) - P(A \cap B^C)$
 사건 A와 B가 독립이므로, 사건 A와 사건 B^C 또한 독립이다.
 따라서 $P(A \cap B^C) = P(A)P(B^C)$
 $P(A \cup B^C) = P(A) + P(B^C) - P(A)P(B^C) = \frac{7}{12}$
 $\frac{1}{3} + P(B^C) - \frac{1}{3}P(B^C) = \frac{7}{12}$,
 $P(B^C) = \frac{3}{8}$ 이고, $P(B) = \frac{5}{8}$
 두 사건 A와 B가 독립이므로, 사건 A^C 와 사건 B 또한 독립이므로
 $P(B|A^C) = P(B) = \frac{5}{8}$ 이다.

[추가 설명]

(사건의 독립의 정의를 잘 알아두자!)
 두 사건 A, B가 독립이면 $P(A|B) = P(A)$ 이다.
 $P(A|B) = \frac{P(A \cap B)}{P(B)} = P(A)$ 이므로
 $P(A \cap B) = P(A)P(B)$ 이다.
 또한 A, B가 독립이면
 사건 A^C, B
 사건 A, B^C
 사건 A^C, B^C 또한 독립이다.

수학 영역(A형)

17) [정답] ② (출제자 : 15정다혜)

[출제의도] 1. 수열의 합과 일반항 간의 관계를 아는가?
2. 분수 꼴인 수열의 합을 구할 수 있는가?

[해설]

$$S_n = n^2 + 2n \text{ 이므로,}$$

(i) $n = 1$ 일 때

$$a_1 = S_1 = 3$$

(ii) $n \geq 2$ 일 때,

$$\begin{aligned} a_n &= S_n - S_{n-1} \\ &= n^2 + 2n - (n-1)^2 - 2(n-1) \\ &= 2n + 1 \dots\dots (*) \end{aligned}$$

이때 $a_1 = 3$ 은 (*)에 $n = 1$ 을 대입한 것과 같으므로 $a_n = 2n + 1$ 이다.

$$\begin{aligned} \sum_{k=2}^{10} \frac{1}{a_{k-1}a_k} &= \sum_{k=2}^{10} \frac{1}{(2k-1)(2k+1)} \\ \frac{1}{(2k-1)(2k+1)} &= \frac{1}{2} \left(\frac{1}{2k-1} - \frac{1}{2k+1} \right) \text{ 이므로} \\ \therefore \sum_{k=2}^{10} \frac{1}{a_{k-1}a_k} &= \sum_{k=2}^{10} \frac{1}{(2k-1)(2k+1)} \\ &= \frac{1}{2} \sum_{k=2}^{10} \left(\frac{1}{2k-1} - \frac{1}{2k+1} \right) \\ &= \frac{1}{2} \left\{ \left(\frac{1}{3} - \frac{1}{5} \right) + \dots + \left(\frac{1}{19} - \frac{1}{21} \right) \right\} \\ &= \frac{1}{2} \left(\frac{1}{3} - \frac{1}{21} \right) = \frac{1}{7} \end{aligned}$$

18) [정답] ④ (출제자 : 14서재현)

[출제의도] 중복조합을 이해하고 실생활에 적용할 수 있는가?

[해설]

A초콜릿의 개수를 a , B초콜릿의 개수를 b , C초콜릿의 개수를 c , D초콜릿 개수를 d , E초콜릿 개수를 e 라고 할 때, 1000 원을 남김없이 사용하여 초콜릿을 사려면 $200a + 200b + 400c + 400d + 200e = 1000$ 이다.

식을 정리하면

$a + b + 2c + 2d + e = 5$ 을 만족하는 음이 아닌 정수 a, b, c, d, e 의 개수를 구하면 된다. 가격이 다른 초콜릿을 분류하면,

a, b, e (200 원)와 c, d (400 원)이기 때문에

두 종류를 따로 생각해야 한다.

즉 400 원 초콜릿을 종류에

상관없이 몇 개 뽑을 건지 결정한 후

(400 원의 초콜릿은 최대 2 개까지 뽑을 수 있다.)

c, d 를 중복하여 뽑는 경우의 수와 남은 a, b, e 를 뽑는 경우의 수를 구하여 곱하면 된다.

i) 400 원 초콜릿 0 개 뽑는 경우

$$c + d = 0 \text{ 이고 } a + b + e = 5 \text{ 이므로}$$

$$a, b, e \text{ 중에서 중복을 허락하여 5 개 뽑는 경우의 수 } = {}_3H_5$$

ii) 400 원 초콜릿 1 개 뽑는 경우

$$c + d = 1 \text{ 이고 } a + b + e = 3 \text{ 이므로}$$

c, d 중 하나 뽑는 경우의 수

$$\begin{aligned} &\times a, b, e \text{ 중에서 중복을 허락하여 3 개 뽑는 경우의 수} \\ &= 2 \times {}_3H_3 \end{aligned}$$

iii) 400 원 초콜릿 2 개 뽑는 경우

$$c + d = 2 \text{ 이고 } a + b + e = 1 \text{ 이므로}$$

c, d 중 중복을 허락하여 2 개 뽑는 경우의 수

$$\begin{aligned} &\times a, b, e \text{ 중에서 중복을 허락하여 1 개 뽑는 경우의 수} \\ &= {}_2H_2 \times {}_3H_1 \end{aligned}$$

따라서 구하는 정답은

$${}_3H_5 + 2 \times {}_3H_3 + {}_2H_2 \times {}_3H_1 = 50$$

19) [정답] ③ (출제자 : 15최봉규)

[출제의도] 우함수의 성질을 이용해서 정적분 문제를 해결할 수 있는가?

[해설]

먼저 준 식에 $x = 0$ 을 대입하면

$$0 = -4 \int_{-1}^0 f(t) dt + k$$

$$\int_0^x f(t) dt = x^3 + 2x \int_0^1 f(t) dt$$

다음으로 $x = 1$ 을 대입하면

$$\int_0^1 f(t) dt = 1 + 2 \int_0^1 f(t) dt$$

$$\int_0^1 f(t) dt = -1$$

$$\therefore \int_0^x f(t) dt = x^3 - 2x$$

$$f(x) = 3x^2 - 2, f(2) = 10$$

다항함수 $y = f(x)$ 의 그래프가 y 축에 대하여 대칭이므로

$$\int_{-1}^0 f(t) dt = \int_0^1 f(t) dt = -1$$

$$k = 4 \int_{-1}^0 f(t) dt = -4$$

$$\therefore f(2) + k = 10 - 4 = 6$$

20) [정답] ⑤ (출제자 : 14고정민)

[출제의도] 행렬의 성질을 이용해서 주어진 식을 변형하여 문제를 풀어낼 수 있는가?

[해설]

ㄱ. (참)

$$A^2 - 2BA = E \text{ 에서 } (A - 2B)A = E \text{ 이다.}$$

따라서 행렬 $A - 2B$ 의 역행렬이 존재한다.

수학 영역(A형)

ㄴ. (참)

ㄱ에서 역행렬이 존재하기 때문에 $(A-2B)A = E = A(A-2B)$
 이므로 $AB = BA$ 이다.

ㄷ. (참)

ㄱ과 ㄴ이 참인 것을 이용해서 $A^2 - 2B^2 = AB$ 을 정리해보자.

먼저 $A^2 = 2BA + E$ 이므로, $A^2 - 2B^2 = AB$ 에 대입해보면

$$2BA + E - 2B^2 = AB \text{이다.}$$

한편, $AB = BA$ 이므로 $2AB + E - 2B^2 = AB$ 이고

$$\text{즉 } AB - 2B^2 + E = 0 \text{이다.}$$

$$AB - 2B^2 + E = 0 \text{에서 } 2B^2 - AB = E \text{이고}$$

$$\text{이를 인수분해하면 } B(2B - A) = -B(A - 2B) = E \text{이다.}$$

이 식에서 $A - 2B$ 의 역행렬이 $-B$ 이고 $-B$ 는 $(A - 2B)A = E$ 에서
 구한 역행렬 A 와 같으므로 $A = -B$ 이다.

따라서 이 식을 $A^2 - 2BA = E$ 에 대입하면, $A^2 + 2A^2 = E$ 이므로,

$$3A^2 = E \text{이다.}$$

[별해]

$A^2 - 2B^2 = AB$ 는 $A^2 - AB - 2B^2 = 0$ 이고 이 식을 인수분해하면

$(A - 2B)(A + B) = 0$ 이다. 한편, $A - 2B$ 의 역행렬이 존재하므로,

양변에 $(A - 2B)^{-1}$ 을 곱하면 $A + B = 0$ 이어야 한다.

따라서 $A = -B$ 이다.

21) [정답] ③ (출제자 : 11양종현)

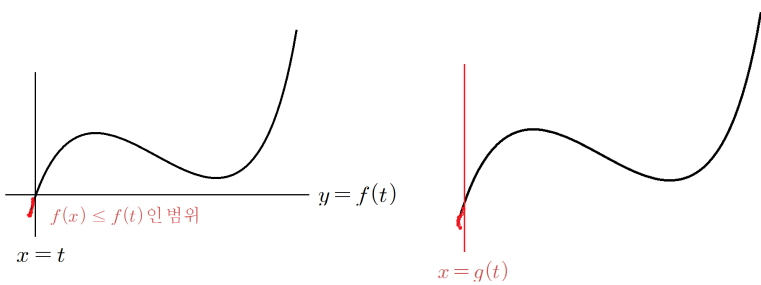
[출제의도] 삼차함수의 그래프의 개형에 대해 파악하고, 새로 정의된
 함수를 이해할 수 있는가?

[해설]

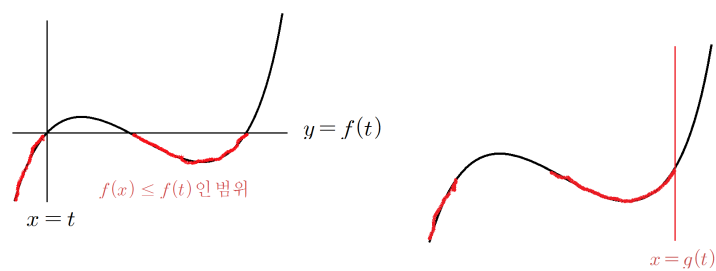
최고차항의 계수가 양수인 삼차함수의 그래프의 개형은 세 가지가 있다.

(i) 방정식 $f'(x) = 0$ 의 해가 서로 다른 두 실근인 경우

t 값이 충분히 작은 수일 때 (구체적으로 $f(t)$ 의 값이 극솟값보다 작은
 수일 때), 아래 그림과 같이 $g(t)$ 의 값은 t 와 같다.

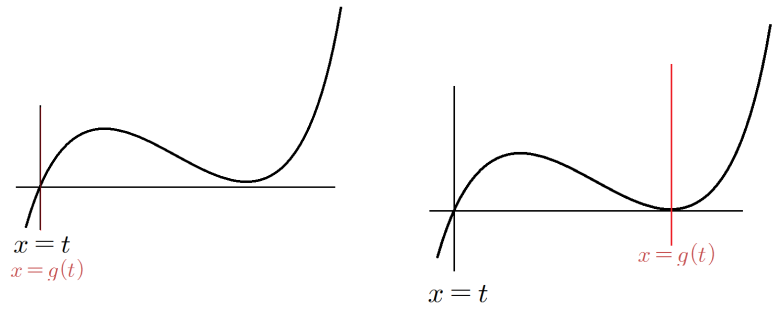


$f(t)$ 의 값이 극솟값보다 크고 극댓값보다 작을 때, 아래 그림과 같이
 $g(t)$ 의 값은 극솟점의 x 좌표보다 크다.



위의 두 가지 경우로 추측해 보는데, t 값이 충분히 작은 값에서 계속
 증가하다보면 직선 $y = f(t)$ 가 함수 $y = f(x)$ 의 그래프의 극솟점과
 처음으로 만나는 지점이 생긴다. 그 지점에서 $g(t)$ 의 변화 과정은 아래

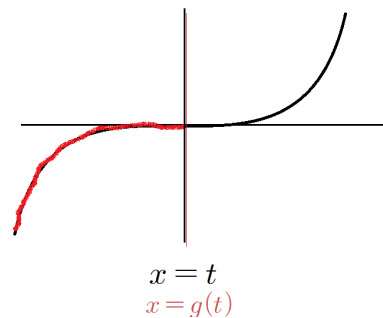
두 그림과 같다.



그러므로 함수 $g(t)$ 는 직선 $y = f(t)$ 가 극솟점과 만나는 $t = \alpha$ 에서
 불연속인 점이 생긴다.

(ii) 방정식 $f'(x) = 0$ 의 해가 중근인 경우

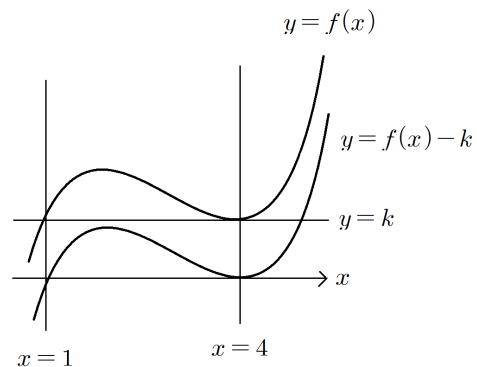
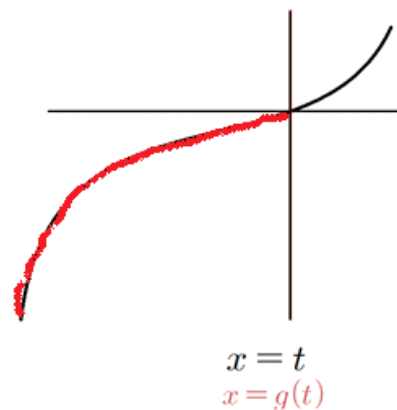
'(i)'에서와 같은 방법으로 해보면, 모든 실수 t 에 대하여 $g(t) = t$ 를
 만족하고 연속이다.



(iii) 방정식 $f'(x) = 0$ 의 해가 두 허근인 경우

'(ii)'에서와 마찬가지로, 모든 실수 t 에 대하여 $g(t) = t$ 를 만족하고
 연속이다.

문제에서 $t = 1$ 에서만 불연속이라 했으므로 '(i)'의 경우만 해당하며
 $\alpha = 1$ 이다. 또한 $g(1) = 4$ 라 했으므로 극솟점의 x 좌표가 4이다.
 그러면 함수 $f(x)$ 는 $f(1) = f(4) = k$ 를 만족하므로, 함수 $f(x)$ 의
 최고차항의 계수를 a 라 하면 다음과 같이 표현된다.



평행이동한 함수 $y = f(x) - k$ 가 위 그림과 같이 $x = 1$ 을 근으로 가지고,
 곡선 $y = f(x) - k$ 위의 점 $(4, 0)$ 에서 x 축에 접하므로 $x = 4$ 를 중근으로
 갖는다. 이를 통해 삼차함수 $y = f(x) - k$ 의 식을 추론해보면 다음과 같다.

수학 영역(A형)

$f(x) - k = a(x-1)(x-4)^2$ (단, a 는 양수)

$$\therefore f(x) = a(x-1)(x-4)(x-4) + k$$

양변을 x 에 대해 미분하면

$$f'(x) = a\{(x-4)(x-4) + (x-1)(x-4) + (x-1)(x-4)\}$$

문제에서 $f'(3) = -6$ 이라 했으므로

$$f'(3) = a\{(-1)^2 + 2 \times (-1) + 2 \times (-1)\} = -3a = -6$$

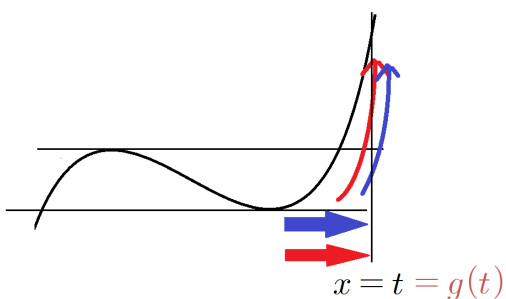
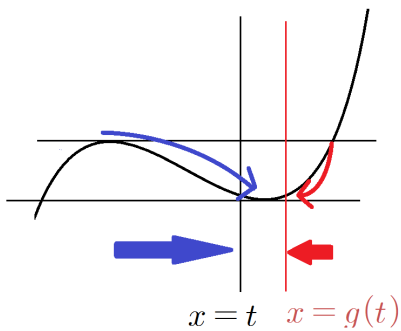
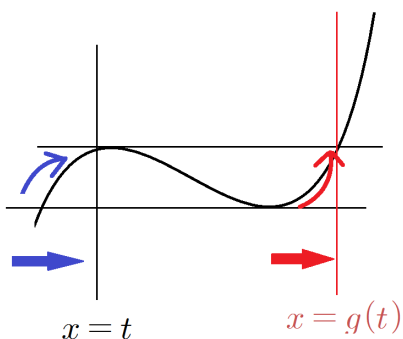
$$\therefore a = 2$$

$$f'(x) = 2\{(x-4)(x-4) + (x-1)(x-4) + (x-1)(x-4)\} \text{ 이므로}$$

$$\therefore f'(5) = 18$$

[출제자의 말]

덧붙여서 '(i)'의 경우에서 이후에 t 값을 계속 증가시키면 다음 그림과 같이 $g(t)$ 의 값이 증가 \rightarrow 감소 \rightarrow 증가하면서 연속입니다.



(모든 그림은 컬러로 봐주세요.)

22) [정답] 8 (출제자 : 15이민욱)

[출제의도] 함수의 극한을 구할 수 있는가?

[해설]

$$\lim_{x \rightarrow -1} \frac{x^2 + 10x + 9}{x + 1} = \lim_{x \rightarrow -1} \frac{(x+1)(x+9)}{x+1} = \lim_{x \rightarrow -1} (x+9) = 8$$

23) [정답] 3 (출제자 : 12황성문)

[출제의도] 함수의 연속을 이해할 수 있는가?

[해설]

함수 $f(x)$ 가 실수 전체의 집합에서 연속이라면

$x = 3$ 에서 연속이어야 하므로

$$f(3) = \lim_{x \rightarrow 3} f(x) \text{ 이어야 한다.}$$

$$f(3) = 3b,$$

$$\lim_{x \rightarrow 3} f(x) = \lim_{x \rightarrow 3} (x^2 - ax) = 9 - 3a \text{ 이므로}$$

$$3b = 9 - 3a$$

$$3a + 3b = 9$$

$$\therefore a + b = 3$$

24) [정답] 18 (출제자 : 14임현우)

[출제의도] 무한급수의 성질(시그마의 성질)을 잘 아는가?

$$\left(\sum_{n=1}^{\infty} a_n b_n \text{ 와 } \sum_{n=1}^{\infty} a_n \times \sum_{n=1}^{\infty} b_n \text{ 이 다르다는 것을 명심하자!} \right)$$

[해설]

$$\sum_{n=1}^{\infty} (a_n + b_n)^2 = \sum_{n=1}^{\infty} (a_n^2 + 2a_n b_n + b_n^2)$$

$$= \sum_{n=1}^{\infty} a_n^2 + 2 \sum_{n=1}^{\infty} a_n b_n + \sum_{n=1}^{\infty} b_n^2 = 13 + 2 \sum_{n=1}^{\infty} a_n b_n = 49$$

$$2 \sum_{n=1}^{\infty} a_n b_n = 36$$

$$\therefore \sum_{n=1}^{\infty} a_n b_n = 18$$

25) [정답] 64 (출제자 : 15이민욱)

[출제의도] 이항분포에서 평균값을 구할 수 있는가?

[해설]

확률변수 X 가 이항분포 $B(n, \frac{1}{5})$ 을 따르므로

$$E(X) = n \times \frac{1}{5} = \frac{n}{5}$$

$$E(10X + 8) = 10E(X) + 8 = 10 \times \frac{1}{5}n + 8 = 2n + 8 = 40 \text{ 이므로}$$

$n = 16$ 이다.

따라서 확률변수 X 가 이항분포 $B(16, \frac{1}{5})$ 을 따른다.

$$\text{따라서 } V(X) = 16 \times \frac{1}{5} \times \frac{4}{5} = \frac{64}{25} \text{ 이므로}$$

$$V(5X) = 25 V(X) = 64 \text{ 이다.}$$

수학 영역(A형)

26) [정답] 10 (출제자 : 15김효석)

[출제의도] 미분과 적분의 관계를 속도와 위치의 관점에서 볼 수 있는가?

[해설]

$t=2$ 에서 점 P의 운동방향이 바뀌므로, 이 때 속도가 0이 되어야 한다.

따라서, $4(2) - a = 0$, $a = 8$ 이다.

점 P는 원점에서 출발하므로 $t=5$ 일 때 원점과 점 P 사이의 거리는

$$0 + \int_0^5 (4t - 8) dt = [2t^2 - 8t]_0^5 = 50 - 40 = 10 \text{이다.}$$

27) [정답] 9 (출제자 : 12황성문)

[출제의도] 확률밀도함수를 이용하여 값을 구할 수 있는가?

[해설]

확률밀도함수의 정의된 구간 $[-3, 3]$ 내에서의 넓이가 1이므로

$$\int_{-3}^3 f(x) dx = 1 \text{인데 } y = f(x) \text{의 그래프가 } y \text{축에 대하여 대칭이므로}$$

$$P(0 \leq X \leq 3) = \int_0^3 f(x) dx = \frac{1}{2} \text{이다. 따라서 } \frac{k}{2} \text{를 구하면 된다.}$$

$$\int_{-3}^3 \frac{1}{k} (|x| - 3)^2 dx = 1 \text{을 이용하여 } k \text{를 구하자.}$$

$$\begin{aligned} x \geq 0 \text{ 일 때, } \int_0^3 \frac{1}{k} (x - 3)^2 dx &= \frac{1}{k} \int_0^3 (x^2 - 6x + 9) dx \\ &= \frac{1}{k} \left[\frac{1}{3}x^3 - 3x^2 + 9x \right]_0^3 \end{aligned}$$

$$\begin{aligned} x < 0 \text{ 일 때, } \int_{-3}^0 \frac{1}{k} (-x - 3)^2 dx &= \frac{1}{k} \int_{-3}^0 (x^2 + 6x + 9) dx \\ &= \frac{1}{k} \left[\frac{1}{3}x^3 + 3x^2 + 9x \right]_{-3}^0 \end{aligned}$$

$$\text{따라서 } \frac{1}{k} \left[\frac{1}{3}x^3 - 3x^2 + 9x \right]_0^3 + \frac{1}{k} \left[\frac{1}{3}x^3 + 3x^2 + 9x \right]_{-3}^0 = 1$$

계산하면,

$$\frac{1}{k} (9 - 27 + 27 + 9 - 27 + 27) = \frac{1}{k} \times 18 = 1$$

$$k = 18$$

$$\therefore kP(0 \leq X \leq 3) = \frac{1}{2} \times 18 = 9$$

28) [정답] 3 (출제자 : 15이상민)

[출제의도] 등비수열의 합을 구할 수 있는가?

[해설]

$x=0$ 일 때는 두 함수의 y 절편이 2^n 이므로 정수 점의 개수는 2^n 이고 x 가 양수일 때는 다음과 같이

$$x=1 \text{ 일 때 } 2^{n-1} \text{개}$$

$$x=2 \text{ 일 때 } 2^{n-2} \text{개}$$

⋮

$$x=n \text{ 일 때 } 2^0 \text{개}$$

x 가 n 보다 클 때는 정수점이 존재하지 않으므로

정수 점의 개수는 공비가 2이고 초항이 1, 항의 개수가 n 인 수열이다.

$$\text{이 수열의 합은 } \frac{1(2^n - 1)}{2 - 1}$$

x 가 음수일 때도 마찬가지이므로

x 좌표와 y 좌표가 모두 정수인 점의 개수는

$$(2^n - 1) \times 2 + 2^n = 3 \times 2^n - 2$$

$$\lim_{n \rightarrow \infty} \frac{a_n}{2^n} = \frac{3 \times 2^n - 2}{2^n} = 3$$

29) [정답] 120 (출제자 : 10최원재)

[출제의도] 미분계수의 정의를 이해하고, 곱의 미분법을 적용하여 접선의 방정식을 구할 수 있는가?

[해설]

(가)조건에서 $f(1) = -2$

$$\lim_{x \rightarrow 1} \frac{f(x) + 2}{x - 1} = \lim_{x \rightarrow 1} \frac{f(x) - f(1)}{x - 1} = f'(1) \text{의 값이 존재하므로}$$

$f'(1) = k$ 라고 하자.

(나)조건에서 곡선 $y = f(x)$ 와 $y = g(x)$ 의 $x=1$ 에서의 접선의 기울기가 서로 수직이므로 $f'(1) \times g'(1) = -1$

$$\text{즉, } g'(1) = -\frac{1}{k}$$

함수 $g(x) = (-x + 2)f(x)$ 에서 $g(1) = f(1) = -2$

함수 $g(x)$ 를 미분하면 $g'(x) = -f(x) + (-x + 2)f'(x)$ 가 되고,

$$g'(1) = 2 + f'(1) = 2 + k, \quad g'(1) = -\frac{1}{k} \text{이므로,}$$

$$-\frac{1}{k} = 2 + k \text{를 정리하면 } k^2 + 2k + 1 = 0 \text{이다. 따라서 } k = -1.$$

$$g'(1) = 1, \quad g(1) = -2 \text{이므로,}$$

$y = g(x)$ 의 $x=1$ 에서의 접선의 방정식은

$$y = 1(x - 1) - 2 = x - 3$$

따라서 $(6, 3)$ 을 지난다.

30) [정답] 54 (출제자 : 12양한솔, 14서재현)

[출제의도] 지수 함수의 개형을 알고 그래프를 파악할 수 있는가?

[해설]

$$f(t+k) = -n^t + 1 + f(k) \quad (0 < t \leq 1) \dots \textcircled{1}$$

$$f(k+t) = nt + f(k) \quad (0 < t \leq 1) \dots \textcircled{2} \text{라고 하자.}$$

위 함수는 '식 ①'은 $0 < t \leq 1$ 에서 함숫값이 $n-1$ 만큼 감소하는 함수, '식 ②'는 $0 < t \leq 1$ 에서 함숫값이 n 만큼 증가하는 함수이다.

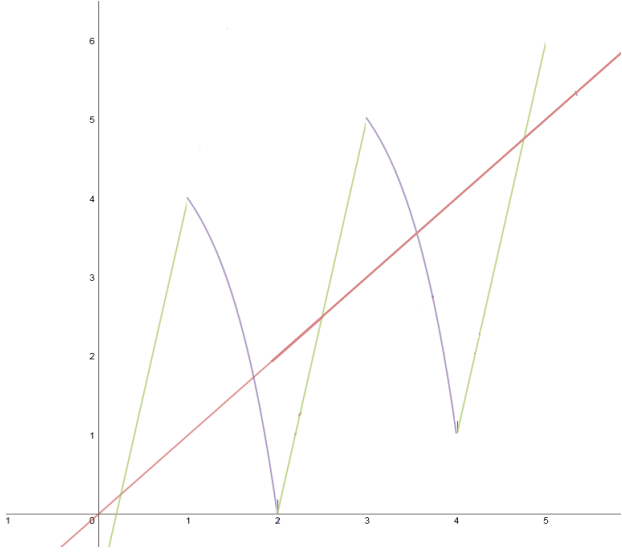
$y = f(x)$ 와 $y = x$ 가 만나는 점의 개수를 최대가 되려면 함수 $f(x)$ 는 $0 < x \leq 1$ 에서 '식 ②'를 선택해야 한다. ('식 ①'을 선택하면 $0 < x \leq 1$ 에서 $f(x)$ 가 $y = x$ 와 만나지 않기 때문이다.)

$y = f(x)$ 와 $y = x$ 가 만나는 점의 개수를 최대가 되려면 정수 k 에 대해서 구간 $(k, k+1]$ 에서의 함수 $y = f(x)$ 와 함수 $y = x$ 가 한번 씩 만나도록 해야 한다.

수학 영역(A형)

(‘식 ①’은 구간에서 증가함수, ‘식 ②’은 구간에서 감소함수이기 때문에, $y = x$ 와 최대 한번 만날 수밖에 없다.)

첫 번째에 ‘식 ②’, 감소함수를 선택하였기 때문에, 다음 구간에서는 ‘식 ①’을 선택해야 한다. 이런 식으로 ‘식 ①’과 ‘식 ②’을 번갈아가면서 선택해보면 다음과 같은 그래프가 그려진다.

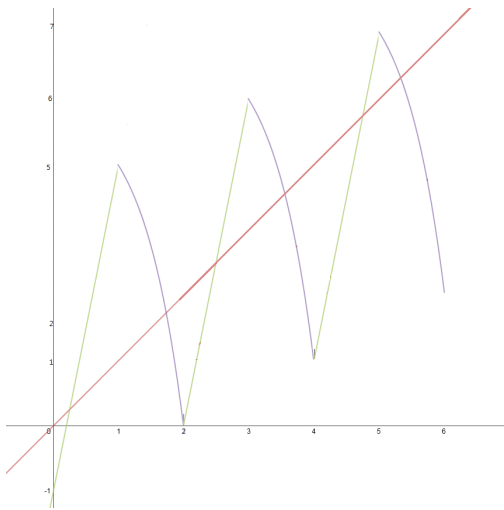


‘식 ①’은 구간에서 $n-1$ 만큼 감소하고, ‘식 ②’은 구간에서 n 만큼 증가하기 때문에, n 이 홀수일 때, 짝수일 때로 나누어 생각해 보자.

(i) n 이 짝수일 때

‘식 ②’와 ‘식 ①’을 번갈아가면서 사용하면, ‘식 ①’은 구간에서 $n-1$ 만큼 감소하고, ‘식 ②’은 구간에서 n 만큼 증가하기 때문에, 구간 두 번 동안 1이 증가하게 된다. 또 시작점인 $f(0) = -1$ 이기 때문에 $(n, f(n))$ 은 $y = \frac{1}{2}x - 1$ 직선 위에 있게 된다.

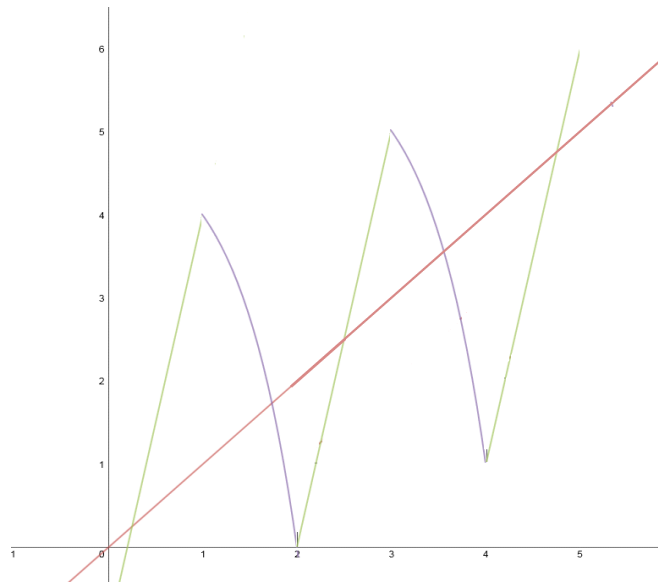
따라서 $a_8 = 3$ 이다.



(ii) n 이 홀수일 때

‘식 ②’과 ‘식 ①’을 번갈아가면서 사용하지만 n 이 홀수 이면 마지막에 ‘식 ②’으로 끝나기 때문에 짝수일 때와 다른 방식으로 구해야 한다. $(0, -1)$ 에서 n 만큼 증가하면 $(1, n-1)$ 그다음 구간에서 $n-1$ 만큼 감소하면 $(2, 0)$ 이 되고 그다음 구간에서 n 만큼 증가하면 $(3, n)$ 이다. x 좌표가 1에서 시작하여 2씩 증가할 때 y 좌표는 1씩 증가하므로, x 가 홀수일 때 $(1, n-1)$ 을 지나고 기울기가 $\frac{1}{2}$ 인 직선,

$$y = \frac{1}{2}(x-3) + n \text{ 위에 } f(n) \text{ 이 존재한다. 따라서 } a_{13} = 18 \text{ 이다.}$$



정답은 $a_8 \times a_{13} = 54$ 가 된다.

[별해]

직접좌표를 구해보는 것도 n 이 작을 때는 편리할 수 있다. ‘식 ②’을 사용하면 n 만큼 증가하고 ‘식 ①’을 사용하면 함숫값이 $n-1$ 만큼 감소한다. a_8 먼저구해보자. $(0, -1)$ 에서 ‘식 ②’을 사용하면 8 만큼 증가하므로 $(1, 7)$ 가 되고 ‘식 ①’을 사용하면 7만큼이 감소하여 $(2, 0)$ 이 된다. 같은 방법으로 ‘식 ②’과 ‘식 ①’을 번갈아 사용해보면 $(3, 8), (4, 1), (5, 9), (6, 2), (7, 10), (8, 3)$ 이고, 즉 $a_8 = 3$ 이 된다.

같은 방법으로 a_{13} 을 구해보면

$(0, -1), (1, 12), (2, 0), (3, 13), (4, 1), (5, 14), (6, 2), \dots, (13, 18)$ 즉 $a_{13} = 18$ 따라서 $a_8 \times a_{13} = 54$ 이다.