



5. 연립부등식  $x > 0$ ,  $y + x \geq 0$ ,  $y - 2x \leq 0$ 이 나타내는 좌표평면 위의 영역을 D라 하자. D에 속하는 두 점  $P(a, b)$ ,  $Q(c, d)$ 에 대하여  $\frac{b+d}{a+c}$ 의 최대값과 최소값의 차는? [3점]

- ①  $\frac{2}{3}$                       ②  $\frac{4}{3}$                       ③ 2  
 ④ 3                          ⑤  $\frac{10}{3}$

6. 수열  $\{a_n\}$ 이

$$\sqrt{17} - 4 = \frac{1}{8+a_1} = \frac{1}{8+\frac{1}{8+a_2}} = \frac{1}{8+\frac{1}{8+\frac{1}{8+a_3}}} = \dots$$

을 만족시킬 때,  $a_{2002}$ 의 값은? [3점]

- ①  $\sqrt{17} - 4$                       ②  $3 - \sqrt{17}$                       ③  $5 - \sqrt{17}$   
 ④  $\sqrt{17}$                           ⑤  $\sqrt{17} + 4$

7. <보기>에서 옳은 것을 모두 고른 것은? [3점]

[ 보기 ]

ㄱ.  $2^{\log_2 1 + \log_2 2 + \log_2 3 + \dots + \log_2 10} = 10!$   
 ㄴ.  $\log_2 (2^1 \times 2^2 \times 2^3 \times \dots \times 2^{10})^2 = 55^2$   
 ㄷ.  $(\log_2 2^1)(\log_2 2^2)(\log_2 2^3) \dots (\log_2 2^{10}) = 55$

- ① ㄱ                              ② ㄴ                              ③ ㄷ  
 ④ ㄱ, ㄷ                      ⑤ ㄱ, ㄴ, ㄷ

8. A와 B 두 팀이 축구 경기에서 연장전까지 0 : 0으로 승부를 가리지 못하여 승부차기를 하였다. 각 팀당 5명의 선수가 A팀부터 시작하여 1명씩 교대로 승부차기를 할 때, B팀이 5 : 4로 이길 확률은? (단, 각 선수의 승부차기는 독립시행이고 성공할 확률은 0.8이다.) [3점]

- ①  $0.2 \times 0.8^8$       ②  $0.8^8$       ③  $0.2 \times 0.8^9$   
 ④  $0.8^9$       ⑤  $0.8^{10}$

9. 어느 양식장의 물고기의 무게는 평균 800 g, 표준편차 50 g인 정규분포를 따른다고 한다. 이 양식장에서 임의로 선택한 물고기 한 마리의 무게가 830 g 이상일 확률을 오른쪽 표준정규분포표를 이용하여 구한 것은? [3점]

- ① 0.2257      ② 0.2743      ③ 0.3085  
 ④ 0.3446      ⑤ 0.3821

10.  $F'(x) = f(x)$ 인 이차함수  $y = f(x)$ 와 임의의 두 실수  $a, c$ 에 대하여 서로 다른 두 점  $A(a, F(a)), B(a+c, F(a+c))$ 를 지나는 직선의 기울기와 같은 값을 갖는 것은? [3점]

- ①  $\lim_{n \rightarrow \infty} \sum_{k=1}^n f\left(\frac{k}{2n}\right) \frac{c}{n}$       ②  $\lim_{n \rightarrow \infty} \sum_{k=1}^n f\left(a + \frac{ck}{n}\right) \frac{1}{n}$   
 ③  $\lim_{n \rightarrow \infty} \sum_{k=1}^n f\left(a + c + \frac{k}{n}\right) \frac{1}{n}$       ④  $\lim_{n \rightarrow \infty} \sum_{k=0}^{n-1} f\left(c + \frac{ak}{n}\right) \frac{1}{2n}$   
 ⑤  $\lim_{n \rightarrow \infty} \sum_{k=0}^{n-1} f\left(a + \frac{k}{n}\right) \frac{2}{n}$

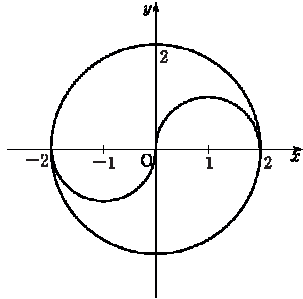
11. 같은 종류의 구슬 다섯 개를 서로 다른 세 개의 주머니에 나누어 넣으려고 한다. 각 주머니 안의 구슬이 세 개 이하가 되도록 넣는 방법의 수는? (단, 구슬끼리는 서로 구별하지 않고 빈 주머니가 있을 수도 있다.) [3점]

- ① 10      ② 11      ③ 12      ④ 13      ⑤ 14

12. 수열  $\{a_n\}$ 의 첫째항부터 제  $n$ 항까지의 합  $S_n$ 이  $S_n = 2n + \frac{1}{2^n}$  일 때,  $\lim_{n \rightarrow \infty} a_n$ 의 값은? [3점]

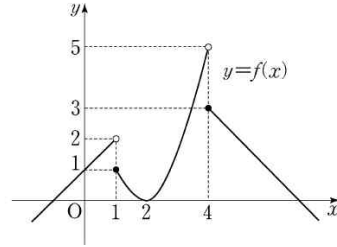
- ① 2      ② 1      ③  $\frac{1}{2}$   
④  $\frac{1}{4}$       ⑤ 0

13. 그림과 같이 좌표평면 위에 원과 반원으로 이루어진 태극문양이 있다. 태극문양과 직선  $y=a(x-1)$ 이 서로 다른 다섯 점에서 만나게 되는  $a$ 의 범위는? [3점]



- ①  $0 < a < \frac{\sqrt{2}}{3}$       ②  $0 < a < \frac{\sqrt{3}}{3}$       ③  $0 < a < \frac{2}{3}$   
 ④  $0 < a < \frac{\sqrt{5}}{3}$       ⑤  $0 < a < \frac{\sqrt{6}}{3}$

14. 실수 전체의 집합에서 정의된 함수  $y=f(x)$ 의 그래프가 그림과 같다.



$\lim_{t \rightarrow \infty} f\left(\frac{t-1}{t+1}\right) + \lim_{t \rightarrow -\infty} f\left(\frac{4t-1}{t+1}\right)$ 의 값은? [4점]

- ① 3      ② 4      ③ 5      ④ 6      ⑤ 7

15. 집합  $A(k)$ 를 자연수  $k$ 를 거듭제곱한 수들의 일의 자리의 수 전체의 집합이라 하자. 예를 들면,  $k=2$ 인 경우에  $2^1=2$ ,  $2^2=4$ ,  $2^3=8$ ,  $2^4=16$ ,  $2^5=32$ , ...이므로  $A(2)=\{2, 4, 6, 8\}$ 이다.  
<보기>에서 옳은 것을 모두 고른 것은?

[4점]

[ 보기 ]

- ㄱ.  $1 \in A(3)$   
 ㄴ.  $A(6) \subset A(3)$   
 ㄷ.  $A(3^n) = A(3)$ 인 자연수  $n$ 이 존재한다. (단,  $n > 1$ )

- ① ㄱ                      ② ㄴ                      ③ ㄷ  
 ④ ㄱ, ㄴ                ⑤ ㄱ, ㄷ

16. 중심도시에서 상품을 구매하는 주변도시의 전체 구매량은 다음과 같은 법칙을 따른다고 하자.

“각 주변도시 B, C의 시민들이 중심도시 A에서 상품을 구매할 때, 각 도시의 전체 구매량은 그 도시의 인구수에 비례하고 A시와의 거리의 제곱에 반비례한다.”

위 법칙과 아래 표에 의거하여 신도시 C시를 건설하려고 한다.

구분 도시	인구 (단위 : 명)	A시로부터의 거리 (단위 : km)
B시	500000	20
C시	$x$	10

A에서 구매하는 C시의 전체의 구매량이 B시의 전체 구매량의 절반이 되게 하려면 C시의 인구  $x$ 를 얼마로 예상해야 하는가? [4점]

- ① 42500                      ② 52500                      ③ 62500  
 ④ 72500                      ⑤ 82500

17. 실수  $x$  보다 작지 않은 최소의 정수를  $\langle x \rangle$ 로 나타내기로 하자. 예를 들어  $\langle 2 \rangle = 2$ ,  $\langle 2.2 \rangle = 3$  이다. 세 함수

$$f(x) = \langle x \rangle, \quad g(x) = x^2, \quad h(x) = \left(x - \frac{1}{2}\right)^2$$

에 대하여 <보기>의 합성함수 중에서  $x=0$ 에서 연속인 것만을 있는 대로 고른 것은? [4점]

< 보 기 >

ㄱ. $(f \circ g)(x)$	ㄴ. $(f \circ h)(x)$	ㄷ. $(h \circ f)(x)$
---------------------	---------------------	---------------------

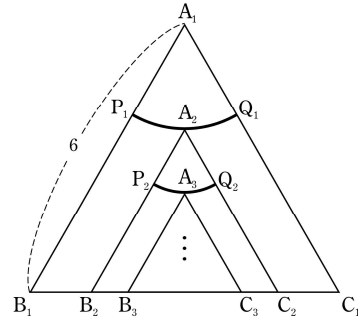
- ① ㄱ      ② ㄴ      ③ ㄷ      ④ ㄱ, ㄴ      ⑤ ㄴ, ㄷ

18. 그림과 같이 한 변의 길이가 6인 정삼각형  $A_1B_1C_1$ 이 있다. 꼭

짓점  $A_1$ 을 중심으로 하고 반지름의 길이가  $\frac{1}{3}\overline{A_1B_1}$ 인 원이 삼각형  $A_1B_1C_1$ 과 만나는 점을 각각  $P_1$ ,  $Q_1$ 이라 하고 삼각형  $A_1B_1C_1$ 의 내부에 있는 호  $P_1Q_1$ 을 이등분하는 점을  $A_2$ 라 하자. 점  $A_2$ 를 꼭짓점으로 하고 나머지 두 꼭짓점  $B_2$ ,  $C_2$ 가 변  $B_1C_1$  위에 있는 정삼각형  $A_2B_2C_2$ 를 그린다.

꼭짓점  $A_2$ 를 중심으로 하고 반지름의 길이가  $\frac{1}{3}\overline{A_2B_2}$ 인 원이 삼각형  $A_2B_2C_2$ 와 만나는 점을 각각  $P_2$ ,  $Q_2$ 라 하고 삼각형  $A_2B_2C_2$ 의 내부에 있는 호  $P_2Q_2$ 를 이등분하는 점을  $A_3$ 이라 하자. 점  $A_3$ 을 꼭짓점으로 하고 나머지 두 꼭짓점  $B_3$ ,  $C_3$ 이 변  $B_1C_1$  위에 있는 정삼각형  $A_3B_3C_3$ 을 그린다.

이와 같은 과정을 계속하여  $n$ 번째 얻은 호  $P_nQ_n$ 의 길이를  $l_n$ 이라 할 때,  $\sum_{n=1}^{\infty} l_n$ 의 값은? [4점]



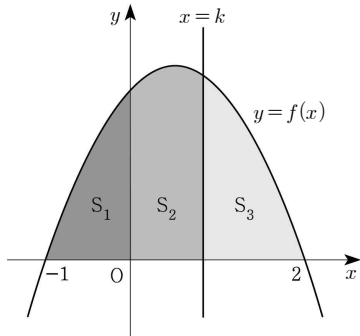
①  $\sqrt{3}\pi$       ②  $\frac{3\sqrt{3}}{2}\pi$       ③  $2\sqrt{3}\pi$

④  $\frac{5\sqrt{3}}{2}\pi$       ⑤  $3\sqrt{3}\pi$

①  $\frac{25}{19}\left(\frac{\pi}{2}-1\right)$       ②  $\frac{5}{4}\left(\frac{\pi}{2}-1\right)$       ③  $\frac{25}{21}\left(\frac{\pi}{2}-1\right)$

④  $\frac{25}{22}\left(\frac{\pi}{2}-1\right)$       ⑤  $\frac{25}{23}\left(\frac{\pi}{2}-1\right)$

19. 함수  $f(x) = -x^2 + x + 2$ 에 대하여 그림과 같이 곡선  $y = f(x)$ 와  $x$ 축으로 둘러싸인 부분을  $y$ 축과 직선  $x = k$  ( $0 < k < 2$ )로 나눈 세 부분의 넓이를 각각  $S_1, S_2, S_3$ 이라 하자.  $S_1, S_2, S_3$ 이 이 순서대로 등차수열을 이룰 때,  $S_2$ 의 값은? [4점]



- ① 1      ②  $\frac{5}{4}$       ③  $\frac{4}{3}$       ④  $\frac{3}{2}$       ⑤ 2

20. 삼차함수  $f(x) = 3x^3 + 4x^2 - 2x - 1$ 에 대하여

$$\lim_{n \rightarrow \infty} \sum_{k=1}^n \frac{1}{n} f\left(-1 + \frac{2k}{n}\right)$$

의 값은? [4점]

- ①  $-\frac{1}{3}$       ②  $-\frac{1}{6}$       ③ 0      ④  $\frac{1}{6}$       ⑤  $\frac{1}{3}$



21. 아래 그림과 같이 자연수  $n$ 에 대하여  $n$ 개의 항

$$\left\lfloor \frac{n}{1} \right\rfloor, \left\lfloor \frac{n}{2} \right\rfloor, \left\lfloor \frac{n}{3} \right\rfloor, \dots, \left\lfloor \frac{n}{n} \right\rfloor$$

이  $n$ 행에 1열부터  $n$ 열까지 차례로 나열되어 있다.  
(단,  $\lfloor x \rfloor$ 는  $x$ 보다 크지 않은 최대의 정수이다.)

	1열	2열	3열	4열	5열	...	$n$ 열	...
1행	1							
2행	2	1						
3행	3	1	1					
4행	4	2	1	1				
5행	5	2	1	1	1			
⋮								
$n$ 행	$\left\lfloor \frac{n}{1} \right\rfloor$	$\left\lfloor \frac{n}{2} \right\rfloor$	$\left\lfloor \frac{n}{3} \right\rfloor$			...		$\left\lfloor \frac{n}{n} \right\rfloor$
⋮								

<보기>에서 옳은 것을 모두 고른 것은? [4점]

[ 보기 ]

ㄱ.  $n$ 행에서 그 값이 1인 항은  $\left\lfloor \frac{n+1}{2} \right\rfloor$ 개이다.

ㄴ. 100행에서 그 값이 3인 항은 8개이다.

ㄷ. 3열에서 그 값이 5인 항은 5개이다.

① ㄱ

② ㄴ

③ ㄷ

④ ㄱ, ㄴ

⑤ ㄱ, ㄴ, ㄷ

단답형

22. 확률변수  $X$ 가 이항분포  $B\left(n, \frac{1}{7}\right)$ 을 따르고,  $X$ 의 평균이 3일 때,  $n$ 의 값을 구하십시오. [3점]

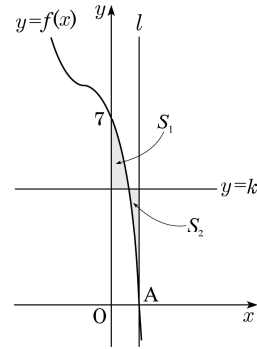
23. 함수  $f(x) = \lim_{n \rightarrow \infty} \frac{x^{2n+4} + 2x}{x^{2n} + 1}$ 일 때,  $f\left(\frac{1}{2}\right) + f(2)$ 의 값을 구하십시오.

[3점]

24.  $U = \{1, 2, 3, 4, 5\}$  일 때,  $\{2, 3\} \cap A \neq \emptyset$  를 만족시키는  $U$ 의 부분 집합  $A$ 의 개수를 구하시오. [3점]

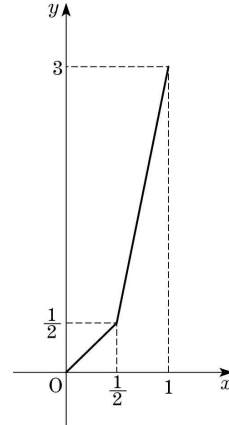
25. 무한급수  $\sum_{n=1}^{\infty} \left\{ \frac{1+(-1)^n}{3} \right\}^n$ 의 합을  $S$ 라고 할 때,  $20S$ 의 값을 구하시오. [3점]

26. 그림과 같이 삼차함수  $f(x) = -(x+1)^3 + 8$ 의 그래프가  $x$ 축과 만나는 점을  $A$ 라 하고, 점  $A$ 를 지나고  $x$ 축에 수직인 직선을  $l$ 이라 하자. 또, 곡선  $y=f(x)$ 와  $y$ 축 및 직선  $y=k$  ( $0 < k < 7$ )로 둘러싸인 부분의 넓이를  $S_1$ 이라 하고, 곡선  $y=f(x)$ 와 직선  $l$  및 직선  $y=k$ 로 둘러싸인 부분의 넓이를  $S_2$ 라 하자. 이때,  $S_1 = S_2$ 가 되도록 하는 상수  $k$ 에 대하여  $4k$ 의 값을 구하시오. [4점]



27. 어떤 행사에서 20종류의 스티커를 모으면 경품을 받을 수 있다고 한다. 갑은 네 종류, 을과 병은 각각 다섯 종류의 스티커를 모았다. 두 사람씩 비교하였을 때 각각 세 종류의 스티커가 공통으로 있었고, 세 사람을 함께 비교하였을 때는 두 종류의 스티커가 공통으로 있었다. 갑, 을, 병의 스티커를 모아서 경품을 받으려고 할 때, 최소로 더 필요한 스티커의 종류의 수를 구하시오. [4점]

28. 연속확률변수  $X$ 가 갖는 값의 범위가  $0 \leq X \leq 1$ 이고 확률밀도함수의 그래프는 그림과 같다. 확률변수  $X$ 의 평균이  $E(X) = \frac{q}{p}$ 일 때,  $p+q$ 의 값을 구하시오. (단,  $p$ 와  $q$ 는 서로소인 자연수이다.) [4점]



29. 1, 2, 3, 4, 5의 숫자가 하나씩 적힌 5개의 공을 3개의 상자 A, B, C에 넣으려고 한다. 어느 상자에도 넣어진 공에 적힌 수의 합이 13 이상이 되는 경우가 없도록 공을 상자에 넣는 방법의 수를 구하시오. (단, 빈 상자의 경우에는 넣어진 공에 적힌 수의 합을 0으로 한다.) [4점]

30. 동전의 앞면과 뒷면은 다음과 같다.



앞



뒤

동전  $4n$  개 ( $n$ 은 자연수)가 앞면이 보이도록 일렬로 나열되어 있다. 이웃한 동전 한 쌍을 뒤집는 시행을 반복하여 <그림>과 같이 앞면과 뒷면이 앞면부터 교대로 나열되도록 만들려고 한다.



<그림>

수열  $\{a_n\}$ 의 일반항은

$$a_n = \left( \begin{array}{l} \text{앞면이 보이도록 나열된 } 4n \text{ 개의 동전을 <그림>} \\ \text{처럼 만드는데 필요한 최소의 시행 횟수} \end{array} \right)$$

이다. 예를 들어, 앞면이 보이도록 나열된 4개의 동전을



와 같이 두 번의 시행으로 <그림>처럼 만들 수 있으므로  $a_1 = 2$ 이다.

$\sum_{n=1}^{20} a_n$ 의 값을 구하시오. [4점]